

時代の表し方と区分

1

原始・古代の日本と世界

2

中世の日本

3

世界の動きと安土桃山時代

4

近世の日本と世界

5

市民革命・欧米の侵略・明治維新

6

自由民権運動と日清日露戦争

7

第一次世界大戦とその後の世界

8

世界恐慌と第二次世界大戦

9

現代の日本と世界

10





# 歴史

## CONTENTS

第1章	時代の表し方と区分	4
第2章	原始・古代の日本と世界	6
第3章	中世の日本	36
第4章	世界の動きと安土桃山時代	54
第5章	近世の日本と世界	66
第6章	市民革命・欧米の侵略・明治維新	96
第7章	自由民権運動と日清日露戦争	120
第8章	第一次世界大戦とその後の世界	144
第9章	世界恐慌と第二次世界大戦	162
第10章	現代の日本と世界	180

写真提供：慶應義塾福澤研究センター, AFP=時事, Bridgeman Images/時事  
通信フォト, ColBase, Kobe City Museum/DNPartcom, 朝日新聞社,  
アマナイメーجز, 皇居三の丸尚蔵館, 公益財団法人 犬山城白帝  
文庫, 公益財団法人東洋文庫, 国立国会図書館, 慈照寺/悠工房, 正倉  
院正倉, 東京芸術大学/DNPartcom, 唐招提寺, 東大寺, 人間文化研  
究機構 国文学研究資料館, 平等院, 毎日新聞社, 悠工房, 横浜開港  
資料館, 鹿苑寺

▶ 映像との対応 / 歴史「時代の表し方と区分」

## Point!

## (1) 時代の表し方

- ① 西暦…<sup>(1)</sup> **キリスト** が生まれたとされる年を基準とし、それ以前を紀元前<sup>(2)</sup> **B.C.**、以後を紀元 (A.D.) で表す方法。紀元や A.D. は省略されることが多い。
- ② 世紀…西暦を基準に<sup>(3)</sup> **100** 年を一区切りとする表し方。1 年から始まり、100 年までを 1 世紀とする。例：17 世紀→<sup>(4)</sup> **1601** 年から<sup>(5)</sup> **1700** 年、794 年→<sup>(6)</sup> **8** 世紀
- ③ <sup>(7)</sup> **元号**…中国で始まり日本へ伝えられた表し方。日本では「**大化**」から始まったとされる。明治、大正など。

## (2) 時代区分

- ① ～時代…社会や文化の特徴などによる時代区分、政治の中心地による時代区分、元号による時代区分がある。
- ② 時代を大きくとらえた区分…原始・古代・中世・近世・近代・現代。

社会や文化の特徴などによる時代区分				政治の中心地による時代区分				元号による時代区分			
旧石器	<sup>(8)</sup> <b>縄文</b>	<sup>(9)</sup> <b>弥生</b>	古墳	<sup>(10)</sup> <b>奈良</b>	<sup>(11)</sup> <b>平安</b>	<sup>(12)</sup> <b>鎌倉</b>	<sup>(13)</sup> <b>室町</b>	安土	<sup>(14)</sup> <b>江戸</b>	<sup>(15)</sup> <b>明治</b>	<sup>(16)</sup> <b>大正</b>
			飛鳥				戦国	桃山			<sup>(17)</sup> <b>昭和</b>
											<sup>(18)</sup> <b>平成</b>
											<sup>(19)</sup> <b>令和</b>
原始・古代				中世				近世	近代	現代	

## Warm Up

## (1) 次の①・②は何世紀か。

- ① 1995年      ② 2001年

## (2) 次のア～エの年代を古い順に並べかえ、その記号を答えなさい。

- ア 紀元前 6 世紀      イ 紀元前 500 年      ウ 西暦 200 年      エ B.C. 200 年

## 解説

## (1) 世紀は 1 年～100 年を 1 世紀、101 年～200 年を 2 世紀とする表し方である。したがって

① 1995 年は 20 世紀 (1901 年～2000 年)、② 2001 年は 21 世紀 (2001 年～2100 年) である。

- ① 20 世紀      ② 21 世紀

## (2) ア 紀元前 6 世紀は紀元前 600 年～紀元前 501 年。

イ 紀元前 500 年は世紀でいうと紀元前 5 世紀にあたる (紀元前 5 世紀は紀元前 500 年～紀元前 401 年)。

ウ 西暦〇〇年は紀元〇〇年を表す。西暦 200 年は紀元 200 年 (2 世紀)。

エ B.C. は紀元前を表す。したがって紀元前 200 年 (紀元前 2 世紀)。

「古い順」なので紀元前の数字が大きいものから並べる。

**ア→イ→エ→ウ**

## Try

## 1 次の各問いに答えなさい。

- (1) キリストが生まれたと考えられている年を元年としている時代の表し方は何か。
- (2) 世紀は(1)を何年ごとに区切る年代の表し方か。
- (3) 次の①～③は何世紀の出来事か。
- ① 西暦894年      ② 令和元年      ③ 西暦2000年
- (4) 次の表の空欄①～⑤にあてはまる語句を答えなさい。

社会や文化の特徴などによる時代区分				政治の中心地による時代区分					元号による時代区分					
旧石器	縄文	①	古墳 飛鳥	奈良	②	鎌倉	③ 戦国	安土 桃山	④	明治	⑤	昭和	平成	令和
原始・古代					中世			近世		近代		現代		

## 2 次の文章を読んで、あとの各問いに答えなさい。

年代を表すとき、世界では（ ① ）が生まれたと考えられていた年を基準とし、それ以前を紀元前〇〇年、それ以降を紀元〇〇年というように表す（ ② ）が広く使われている。日本では、明治・令和などの（ ③ ）も用いられている。

- (1) 文章中の①～③にあてはまる語句を答えなさい。
- (2) 次のア～エの年代を古い順に並べかえ、その記号を答えなさい。
- ア 紀元前13世紀      イ 紀元前1200年  
ウ 紀元1世紀      エ 紀元前1世紀

## Exercise

## 1 P.4の「Point!」を赤シートでかくして、番号順にノートにテストしなさい。

## 2 次の各問いに答えなさい。

年代の表し方にはいくつか種類がある。1つ目は西暦である。これは（ A ）が生まれたとされる年を基準とし、それ以前をア紀元前〇〇年、以後を紀元（A.D.）〇〇年と表す。2つ目は、イ世紀である。これは西暦を基準に、100年を一区切りとする単位である。そして3つ目はウ元号である。元号は中国で始まり、日本に伝えられた。

- (1) 文章中のAにあてはまる語句を答えなさい。
- (2) 下線部アについて、紀元前はアルファベットを用いた場合、どのように表記されるか。
- (3) 下線部イについて、次の各問いに答えなさい。
- ① 7世紀は西暦何年から何年までをさすか。
- ② 1185年は何世紀か。
- (4) 下線部ウについて、日本で大正時代の次の時代は何時代か。

## 1

(1)	
(2)	
(3)	①
	②
	③
(4)	①
	②
	③
	④
	⑤

## 2

(1)	①
	②
	③
(2)	→      →      →

## 2

(1)	
(2)	
(3)	①
	②
(4)	



## 2-1

## 人類の出現と生活

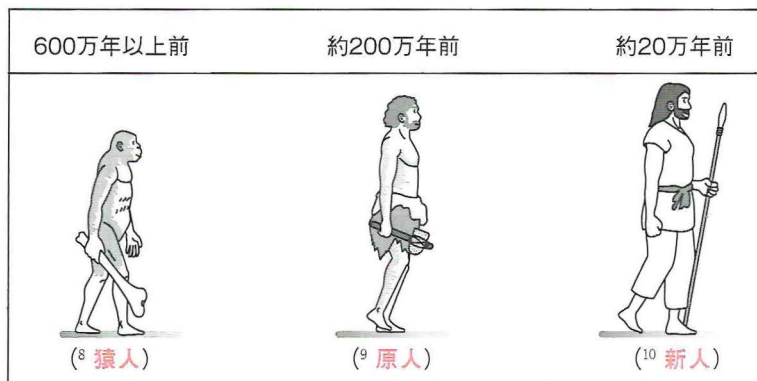
映像との対応 / 歴史「人類の出現と生活」

## Point!

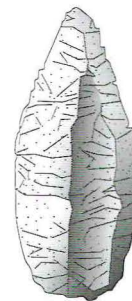
(1) 人類の進化…<sup>(1)</sup> 直立二足歩行) することで大きな脳を支えられるようになった。

また、道具の使用、言葉の使用などが可能になった。

- ① <sup>(2)</sup> <sup>えんじん</sup> 猿人) …約700万年から600万年前にアフリカで出現した最古の人類。  
 ② <sup>(3)</sup> <sup>げんじん</sup> 原人) …約200万年前に出現した人類。<sup>(4)</sup> 火) や <sup>(5)</sup> 言葉) を使用した。  
 ③ <sup>(6)</sup> <sup>しんじん</sup> 新人) …人類の直接の祖先。約20万年前に <sup>(7)</sup> アフリカ) で出現し、世界中に広がった。



- (2) <sup>(11)</sup> 旧石器時代) …狩りや採集による生活を送った。石を打ちかいてつくった <sup>(12)</sup> 打製石器) を使った。  
 (3) <sup>(13)</sup> 新石器時代) …農耕や牧畜が始まった。磨いて形を整えた <sup>(14)</sup> 磨製石器) や土器を使用した。



① 打製石器



② 磨製石器

## Warm Up

- (1) 人類の知能が他の生物に比べて著しく発達したのはなぜか。移動方法と関係させて説明しなさい。  
 (2) 次のア～エのうちから、正しいものを2つ選びなさい。  
 ア 猿人はアフリカで出現した、現在の人類の直接の祖先である。  
 イ 原人は言語を使用し始めた人類である。  
 ウ 旧石器時代、人類は打製石器を使い、農耕や牧畜を行っていた。  
 エ 新石器時代、人類は磨いて形を整えた磨製石器を使用し始めた。

## 解説

- (1) (例) 直立二足歩行することで、大きな脳を支えられるようになったため。  
 (2) 「正しいもの」を選ぶ問題は、「間違っているもの」を消去して選ぶ。

ア…現在の人類の直接の祖先は新人。

ウ…農耕や牧畜が始まったのは新石器時代。

したがって答えは、イ、エ。

Try

- 1 次の各問いに答えなさい。
- (1) 約700万年から600万年前に出現した最古の人類を何というか。
  - (2) 約200万年前に出現した人類を何というか。
  - (3) 約20万年前に出現した、現代人の直接の祖先であるといわれている人類を何というか。
  - (4) (3)はどこに出現し、その後世界中に広がったか。
  - (5) 石を割ったり、打ちかいたりしてつくった石器を何というか。
  - (6) (5)の石器を使っていた時代を何というか。
  - (7) 表面を磨いて形を整えた石器を何というか。
  - (8) (7)の石器を使っていた時代を何というか。

1	
(1)	
(2)	
(3)	
(4)	
(5)	
(6)	
(7)	
(8)	

- 2 次の各問いに答えなさい。
- (1) 下の図の **a**、**b** に適する人類を何というか。漢字で答えなさい。



- (2) 人類の知能が他の生物より発達した理由として、もっとも適当なものを次の **ア**～**ウ** から 1 つ選び、記号で答えなさい。
- ア** 外敵が少なく食料の多いアジアに出現したから。
- イ** 直立二足歩行することで大きな脳を持つことができたから。
- ウ** 旧石器時代から土器を使用し、農耕や牧畜を行ったから。
- (3) 原人に進化する過程で人類が使えるようになったとされるものを 2 つ答えなさい。
- (4) ① 右の I のような石器を何というか。 I  
また、それが使われていた時代を何というか。
- ② 右の II のような石器を何というか。  
また、それが使われていた時代を何というか。



II



2			
(1)	a		
	b		
(2)			
(3)			
(4)	①	石器	
		時代	
	②	石器	
		時代	

## Exercise

**1** P.6の **Point!** を赤シートでかくして、番号順にノートにテストしなさい。

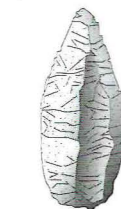
**2** 次の各問いに答えなさい。

- (1) 石を打ちかいた石器を何というか。また、この石器を使用していた時代を何時代というか。
- (2) 表面が磨かれている石器を何というか。また、この石器を使用していた時代を何時代というか。
- (3) 猿人が出現した場所はどこか。正しいものを **A**～**E** から1つ選び、記号で答えなさい。  
**A** ヨーロッパ    **I** アジア  
**U** 北アメリカ    **E** アフリカ
- (4) 人類の進化において、移動手段の変化があげられる。それまでの移動手段とは異なる、人類の歩行を何というか。

**3** 下の会話は人類の誕生について、調べたことを話し合っているものである。会話を読んで、以下の各問いに答えなさい。

岡田さん：私、今度の小説で人類の歴史にふれようと思っているの。  
 最初に人類の誕生について調べたんだけど、大体700万年前から600万年前に（ **A** ）で猿人が誕生したんだって。  
 上杉さん：あー、授業でやったよね。その後に（ **B** ）が現れて、火や言葉を使い始めたのよね。そして最後に（ **C** ）に進化したのよね。  
 菊池くん：俺も覚えているぜ。確か道具を使ってさ、（ **D** ）ってやつだよな。  
 田中くん：今から1万年前には（ **C** ）がいろんな生活を始めたんだよ。さっき菊池が言った（ **D** ）が改良されて表面がつるつるする（ **E** ）になったんだよな。

- (1) 上の会話にある **A**～**C** に当てはまる言葉を書きなさい。
- (2) 下線部の猿人以降、人類の知能は他の動物と比べて非常に発達した。それはなぜか説明しなさい。
- (3) 上の会話にある **D**・**E** に当てはまる石器の名称を答えなさい。またその図を右の **A**・**I** から、それぞれ選びなさい。



**2**

(1)	石器	
	時代	
(2)	石器	
	時代	
(3)		
(4)		

**3**

(1)	A		
	B		
	C		
(2)			
(3)	D	名称	
		記号	
	E	名称	
		記号	



## 2-2

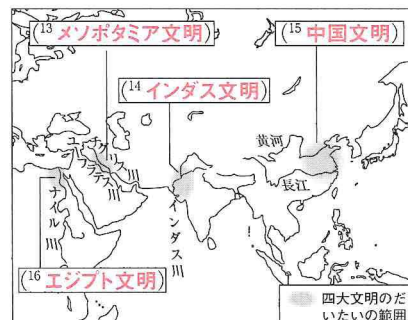
## 文明の発生

映像との対応 / 歴史「文明の発生」

## Point!

(1) 四大文明…気候が温暖で土地が肥え、農耕や牧畜に適した大河の流域で発生。

エジプト文明	場所… <sup>(1)</sup> ナイル川 流域
	文字… <sup>(2)</sup> 象形文字 <sup>しやうけい</sup> の使用
	暦… <sup>(3)</sup> 太陽暦 <sup>たいやうりき</sup> を使用
	遺跡… <sup>(4)</sup> ピラミッド <sup>ピラミッド</sup> 、スフィンクスなど
メソポタミア文明	場所… <sup>(5)</sup> テグリス・ユーフラテス川 流域
	文字… <sup>(6)</sup> くさび形 <sup>くさびがた</sup> 文字
	法律… <sup>(7)</sup> ハムラビ法典 <sup>ハムラビほうてん</sup> の制定
インダス文明	場所… <sup>(8)</sup> インダス川 流域
	遺跡… <sup>(9)</sup> モヘンジョ・ダロ <sup>モヘンジョ・ダロ</sup> 遺跡
中国文明	場所… <sup>(10)</sup> 黄河 <sup>こうが</sup> 流域、長江 <sup>ちやうかう</sup> 流域
	文字… <sup>(11)</sup> 甲骨 <sup>こうこつ</sup> 文字
	思想…孔子が <sup>(12)</sup> 儒学 <sup>じゅうがく</sup> 〔 <sup>(13)</sup> 儒教 <sup>じゅうきやう</sup> 〕を開く



① 四大文明の発生地



(2) 古代の世界

## ① 中国

・秦<sup>しん</sup>…紀元前3世紀に<sup>(17)</sup> 始皇帝<sup>しこうてい</sup>により統一。<sup>(18)</sup> 万里の長城<sup>ばんり ちやうじやう</sup>を築いた。

【目的】:<sup>(19)</sup> 北方の民族(遊牧民)の侵入を防ぐため。

・漢…西の<sup>(20)</sup> ローマ帝国<sup>ローマていこく</sup>とともに栄え、<sup>(21)</sup> シルクロード<sup>シルクロード</sup>を通して交流が行われた。

## ② ギリシャ・ローマ

・ギリシャ人はアテネやスパルタのような都市国家<sup>(22)</sup> ポリス<sup>ポリス</sup>をつくった。

・アテネなどでは市民の投票による<sup>(23)</sup> 民主政<sup>みんしやせい</sup>が行われていたが、奴隷や女性は参加できなかった。

・イタリア半島に形成された都市国家が発展し、紀元前1世紀に<sup>(24)</sup> ローマ帝国<sup>ローマていこく</sup>となる。

(3) 三大宗教

・キリスト教…エルサレムで<sup>(25)</sup> イエス<sup>イエス</sup>が説き、後にローマ帝国の国教になったことでヨーロッパに広まった。

・イスラム教…アラビア半島のメッカで<sup>(26)</sup> ムハンマド<sup>ムハンマド</sup>が始めた。教典は「クルアーン」。

・仏教…インドで<sup>(27)</sup> シャカ<sup>シャカ</sup>〔<sup>(28)</sup> 釈迦<sup>しやくか</sup>〕が始め、中国や日本などに広まった。



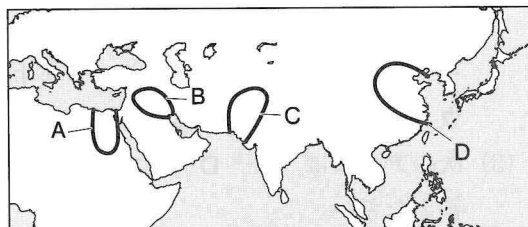
## Warm Up

文明が発達した右の地図のA～Dの地域の共通点は何か。地理的条件を踏まえて説明しなさい。

## 解説

文明の発達には多くの食料が得られる農耕が必要。農耕には大河の水が重要だった。

(例) 大河が流れ、気候も温暖で、農耕や牧畜に適していた点。



## Try

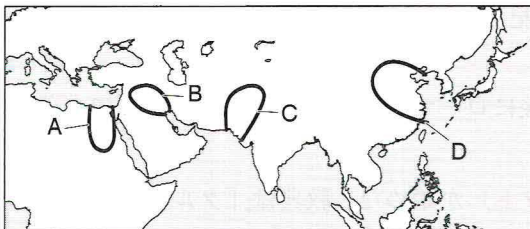
1 次の各問いに答えなさい。( )のある問題は適する語を答えなさい。

- (1) エジプト文明は何という川の流域で栄えたか。
- (2) メソポタミア文明は何という川の流域で栄えたか。2つ答えなさい。
- (3) インダス文明は何という川の流域で栄えたか。
- (4) 中国文明は長江のほかに何という川の流域で栄えたか。
- (5) エジプト文明では、何という暦が発明、使用されたか。
- (6) メソポタミア文明では、何という文字が発明、使用されたか。
- (7) メソポタミア文明では、何という法典が制定されたか。
- (8) インダス文明では、( )の遺跡が有名である。
- (9) 中国文明では、何という文字が発明、使用されたか。
- (10) 紀元前3世紀に初めて中国を統一した人物はだれか。
- (11) 古代ギリシャ人のつくった都市国家を何というか。
- (12) 古代にギリシャのアテネで行われていた、成人男子全員が参加する政治を何というか。
- (13) イタリア半島を統一した都市国家は、紀元前1世紀に何という帝国に発展したか。
- (14) はじめ迫害されたものの、のちに(13)の国教となった宗教は何か。
- (15) (14)の宗教を開いた人物はだれか。

1

(1)	
(2)	
(3)	
(4)	
(5)	
(6)	
(7)	
(8)	
(9)	
(10)	
(11)	
(12)	
(13)	
(14)	
(15)	

2 下の地図を見て、次の各問いに答えなさい。



- (1) A～Dでおこった文明をそれぞれ何というか。
- (2) 古代文明がおこる原因となった、A～Dに共通の地理的条件として、適当なものを次のア～ウから1つ選びなさい。  
 ア 気候が温暖で大河が流れており、土地が肥えている。  
 イ すべて熱帯に属しており、一年中雨が多い。  
 ウ 広い平原であり、移動の妨げになる大河が存在しない。
- (3) 次のア～エは、A～Dのどの文明に関するものか。それぞれ記号で答えなさい。  
 ア くさび形文字で記されたハンムラビ法典をつくった。  
 イ モヘンジョ・ダロの遺跡が有名である。  
 ウ 物の形をかたどってつくられた象形文字を使用した。  
 エ 漢字の元となる甲骨文字を占いに使用した。

2

(1)	A	
	B	
	C	
	D	
(2)		
(3)	ア	
	イ	
	ウ	
	エ	

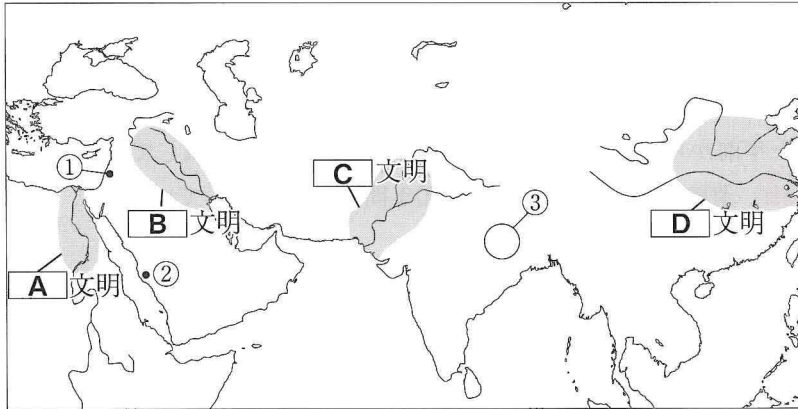


## Exercise

**1** P.9の **Point!** を赤シートでかくして、番号順にノートにテストしなさい。

**2** 世界の古代文明について、各問いに答えなさい。

- (1) 次の資料を見て、**A～D**にあてはまる語句の組合せとして正しいものを**ア～エ**から1つ選び、記号で答えなさい。



**ア:** **A** インダス    **B** エジプト    **C** メソポタミア    **D** 中国  
**イ:** **A** メソポタミア    **B** エジプト    **C** インダス    **D** 中国  
**ウ:** **A** エジプト    **B** メソポタミア    **C** インダス    **D** 中国  
**エ:** **A** インダス    **B** メソポタミア    **C** エジプト    **D** 中国

- (2) **A～D**の文明が発展した地域の共通点を、地理的側面から説明しなさい。
- (3) 資料の**A**の文明にあてはまらないものを次の**ア～エ**から1つ選び、記号で答えなさい。  
**ア** ピラミッド    **イ** 太陽暦  
**ウ** 象形文字    **エ** 儒学(儒教)
- (4) 資料の**B**の文明にあてはまらないものを次の**ア～エ**から1つ選び、記号で答えなさい。  
**ア** モヘンジョ・ダロ遺跡    **イ** 太陰暦  
**ウ** くさび形文字    **エ** ハンムラビ法典
- (5) 資料の①～③で生まれ、三大宗教になる教えを説いた人物をそれぞれ答えなさい。

**2**

(1)	
(2)	
(3)	
(4)	
(5)	①
	②
	③

**3** 次の各問いに答えなさい。

- (1) 秦の始皇帝が万里の長城を築いた理由を説明しなさい。
- (2) 中国から西方に絹織物がもたらされ、西方からは馬やぶどうなどが中国に伝わった。この道を何というか。
- (3) 孔子が説いた教えを何というか。

**3**

(1)	
(2)	
(3)	

## 2-3

## 旧石器時代と縄文時代のくらし

映像との対応 / 歴史「旧石器時代と縄文時代のくらし」

## Point!

2

原始・古代の日本と世界

## (1) 日本の旧石器時代

## ① 旧石器時代

- ・ (1) <sup>いわじやく</sup> 岩宿 遺跡 (群馬県) では (2) <sup>たてあな</sup> 打製石器 が発見され、日本の旧石器時代の存在を確認。
- ・ 大陸と陸続きだったため、(3) <sup>なうまんぞう</sup> ナウマンゾウ やオオツノジカ、マンモスなどの狩りを行った。

## ② 日本列島の誕生…約1万年前に、海面の上昇によって、大陸と切り離されて誕生。

(2) (4) <sup>じょうもん</sup> 縄文 時代…約1万数千年前から紀元前4～3世紀ごろ。新石器時代に属している。(5) <sup>さんないまるやま</sup> 三内丸山 遺跡 (青森県) には約1500年間人々が生活していた。

## ① 道具の発達

- ・ (6) <sup>じょうもん</sup> 縄文土器 …縄目の文様がついたものが多い。質はもろく厚手。
- ・ (7) <sup>とく</sup> 磨製石器 …石などを磨いた石器。



⑧ (8) 縄文土器

② 生活… (9) <sup>たてあな</sup> 竪穴住居 に住み、小さな集団をつくり、狩りや漁、木の実などを採集する生活。貧富の差のない社会を形成していた。③ (10) <sup>かいづか</sup> 貝塚 …当時の人々が食べた貝類の殻や魚の骨、不要物などが積もってできた遺跡。(11) <sup>おおく</sup> 大森 貝塚 (東京都) など。④ (12) <sup>どく</sup> 土偶 …魔よけのためや、豊かな食べ物の収穫などを祈ってつくられたと考えられる土製の人形。

⑬ (13) 土偶

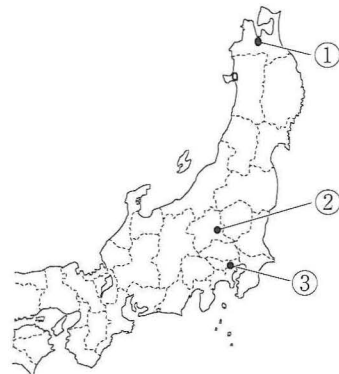


## Warm Up

- 右の地図の①～③は何という遺跡か。また何時代の遺跡か。それぞれ答えなさい。
- 縄文時代に使われていた土偶とは何か。その目的もあわせて説明しなさい。

## 解説

- ① 遺跡名：三内丸山遺跡 時代：縄文時代
  - ② 遺跡名：岩宿遺跡 時代：旧石器時代
  - ③ 遺跡名：大森貝塚 時代：縄文時代
- (2) (例) 魔よけや豊かな収穫を祈るためにつくられた土の人形。



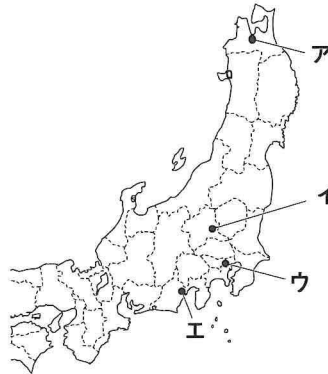

## Try

## 1 次の各問いに答えなさい。

- (1) 日本の旧石器時代には、オオツノジカ、マンモスのほか、どんな動物が狩りの対象となっていたか。
- (2) 日本の旧石器時代に使われていた石器は何か。
- (3) 日本にも旧石器時代が存在することが確認されたのは、何という遺跡で(2)の石器が発見されたからか。
- (4) 約1万数千年前から紀元前4～3世紀ごろまで続いた、新石器時代にあたる日本の時代を何というか。
- (5) 現在の青森県にある、(4)の時代の代表的な遺跡は何か。
- (6) (4)の時代につくられた、縄目の文様のついた土器と、使用していた石器は何か。
- (7) (4)の時代、魔よけや豊かな食べ物の収穫などを祈ってつくられた土製の人形を何というか。

## 2 次の文、絵、地図を参照して、各問いに答えなさい。

今から5000年ほど前の日本では、縄目の文様が入った土器が使用され、狩りや漁、採集をしながら生活していた。



- (1) 上の絵のAは文中の下線部の土器である。この土器を何というか。
- (2) 上の絵のBの住居を何というか。
- (3) 上の絵のCのようなゴミ捨て場を何というか。
- (4) 上の絵の時代につくられていた土偶は何の目的で使われていたと考えられているか。説明しなさい。
- (5) 上の地図から次の遺跡の位置を選び、記号で答えなさい。
  - ① 三内丸山遺跡
  - ② 大森貝塚

## 1

(1)	
(2)	
(3)	
(4)	
(5)	
(6)	土器
	石器
(7)	

## 2

(1)	
(2)	
(3)	
(4)	
(5)	①
	②



## Exercise

**1** P.12の **Point!** を赤シートでかくして、番号順にノートにテストしなさい。

**2** 次の各問いに答えなさい。

- (1) 旧石器時代について、各問いに答えなさい。
- ① 日本で初めて発見された旧石器時代の遺跡を何というか。
  - ② 旧石器時代の人々が使用していた、石をくだけただけの石器を何というか。
  - ③ 日本の旧石器時代の人々が狩りをして食料にした動物を、ひとつあげなさい。
- (2) 縄文時代について、各問いに答えなさい。
- ① 縄目のような文様が付けられた土器を何というか。
  - ② 魔よけや食べ物の豊かさを祈るのに使われたと考えられる土製の人形を何というか。
  - ③ この時代、およそ1500年にわたり、人々が暮らしていた青森県の遺跡を何というか。

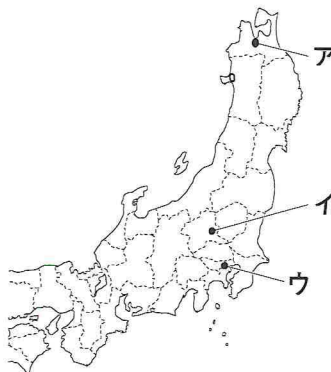
**3** 次の文章の①～③にあてはまる語句を答えなさい。

この時代には、人々は食料が得やすい場所に（ ① ）とよばれる住居をつくって生活していた。その周辺には食べ物の残りがすなどを捨てた（ ② ）ができた。また、下の資料のような（ ③ ）がつくられた。



**4** 次の各問いに答えなさい。

- (1) 右の地図の **ア～ウ** は何という遺跡か。また何時代の遺跡か。それぞれ答えなさい。
- (2) 縄文時代に使われていた土偶とは何か。その目的もあわせて、「豊かな」という語句を用いて説明しなさい。



**2**

(1)	①	
	②	
	③	
(2)	①	
	②	
	③	

**3**

①	
②	
③	

**4**

(1)	ア	遺跡	
		時代	
	イ	遺跡	
		時代	
	ウ	遺跡	
		時代	
(2)			

## 2-4

## 弥生時代のくらし

映像との対応 / 歴史「弥生時代のくらし」

## Point!

- (1) <sup>(1)</sup> <sup>やよい</sup>弥生時代…紀元前4～3世紀ごろから紀元3世紀ごろまで。<sup>(2)</sup> <sup>よしのが</sup>吉野ヶ里遺跡（佐賀県）などが有名。
- (2) <sup>(3)</sup> <sup>いなさく</sup>稲作の伝来と道具の発達
- ① 生活…九州北部に<sup>(4)</sup> <sup>いしほうちよう</sup>稲作が伝えられると、農作業に便利な低地に定住するようになった。秋の収穫の際の生産量に差があり、<sup>(5)</sup> <sup>たかゆかさうこ</sup>貧富の差が生じてきた。
  - ② 刈り取りには<sup>(6)</sup> <sup>いしほうちよう</sup>石包丁が使用された。収穫された稲は湿気やねずみの害を防ぐため<sup>(7)</sup> <sup>たかゆかさうこ</sup>高床倉庫に貯蔵された。
  - ③ 青銅器…銅剣や銅矛、<sup>(8)</sup> <sup>どうたく</sup>銅鐸、銅鏡などが祭りのために使用された。
  - ④ 鉄器…農具や武器として使用された。
  - ⑤ <sup>(9)</sup> <sup>どうほこ</sup>弥生土器…縄文土器よりも高温で焼かれ、うすくてかたい。
- (3) 小さな国々の誕生…共同作業や争いごとを指導する者が現れ、争いを戦いで解決するようになった。有力なムラが勢力を広げ、小さな国々が誕生した。戦いに備えて、ほりや柵、物見やぐらなどがつくられた。
- (4) 信仰…稲作の広がりとともに収穫を祈る儀式が始まり、現代にもつながっている。その様子は、後に書かれた『古事記』『日本書紀』『風土記』などで知ることができる。



⑩ (10) 銅鐸



⑪ (11) 弥生土器

## Warm Up

- (1) 右の地図の<sup>ア</sup>・<sup>イ</sup>のうち、弥生時代の代表的な遺跡の場所を選びなさい。
- (2) 弥生時代にはそれまでに比べて貧富の差が大きくなった。その原因は何か。説明しなさい。

## 解説

- (1) <sup>ア</sup>：三内丸山遺跡（縄文時代）  
<sup>イ</sup>：吉野ヶ里遺跡（弥生時代）  
<sup>イ</sup>
- (2) 稲作が広まることにより、ムラやクニによって収穫量に差が生じた。  
 (例) 稲作が広がり、収穫量に差が生じたから。



## Try

## 1 次の各問いに答えなさい。

- (1) 日本で紀元前4～3世紀ごろから紀元3世紀ごろまで続いた時代を何というか。
- (2) 紀元前4世紀ごろ、大陸から移住してきた人々によって伝えられた農業は何か。
- (3) (2)が伝わった時代、収穫に使用された道具は何か。
- (4) (2)が伝わった時代、収穫した作物をたくわえた建物を何というか。
- (5) (1)の時代につくられた、うすくてかたい土器を何というか。
- (6) 現在の佐賀県にある、(1)の時代の代表的な遺跡は何か。
- (7) 青銅器の1つで、表面に絵画がかかれており、つりがね形をしたものを何というか。

## 2 資料を見て、各問いに答えなさい。



- (1) ①の家を何というか。
- (2) ②の建物を何というか。また、この建物のつくりの工夫している点を1つ答えなさい。
- (3) 上の資料は弥生時代のムラの様子である。縄文時代と異なる点を1つ答えなさい。
- (4) ③は物見やぐらである。これがあるのはなぜか。

## 3 右の地図の①・②の遺跡の名前を書きなさい。また、縄文時代の遺跡ならばA、弥生時代の遺跡ならばBと、それぞれ記号を記入しなさい。



## 1

(1)	
(2)	
(3)	
(4)	
(5)	
(6)	
(7)	

## 2

(1)		
(2)	名前	
	工夫	
(3)		
(4)		

## 3

①	遺跡	
	時代	
②	遺跡	
	時代	



Exercise

1 P.15の **Point!** を赤シートでかくして、番号順にノートにテストしなさい。

2 次の各問いに答えなさい。

- (1) 右の図は、弥生時代に祭りのために使用されたものである。これを何というか。
- (2) 弥生時代には大陸からある農業技術が伝えられた。生活の変化をもたらしたこの農業技術を何というか。
- (3) 収穫した穀物を貯蔵する倉庫についての説明で、ふさわしくないものを **A**～**E** から1つ選び、記号で答えなさい。  
**A** 風通しをよくするため、床を高くしている。  
**I** 動物からの被害を防ぐため、床を高くしている。  
**U** ねずみ返しなどの工夫がされている。  
**E** レンガでつくられている。
- (4) 佐賀県にある弥生時代を代表する遺跡を何というか。
- (5) 弥生時代に穀物の刈り取りに使用された道具を何というか。



2

(1)	
(2)	
(3)	
(4)	
(5)	

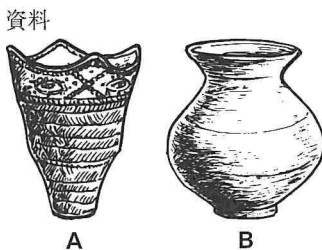
3 次の文は、博物館での3人の生徒の会話である。これを読み、資料を参考にして、次の各問いに答えなさい。

新井くん：①土器が2つ並んでるね。  
矢沢さん：片方は表面に縄の模様が ついて いるから縄文土器。もう一方は②弥生時代に使われていた弥生土器ね。  
新井くん：弥生土器の方が じょうぶ そうだ。③この時代には貧富の差も広がっていたんだよね。  
山本くん：青銅器や鉄器も登場して、縄文時代より進歩している気がするな。

3

(1)	縄文土器	
	弥生土器	
(2)		
(3)		

- (1) 右の資料は下線部①の2つの土器である。どちらが縄文土器でどちらが弥生土器か。選んで記号で答えなさい。
- (2) 下線部②について、正しいものを次の **A**～**E** からすべて選びなさい。  
**A** ムラどうしの戦いが行われ、小さな国々が誕生した。  
**I** 石をうちくだいてつくった打製石器をおもに使用していた。  
**U** 『古事記』『日本書紀』からうかがえるような、農耕儀礼が始まった。  
**E** 収穫を祈るための土偶がつけられ始めた。
- (3) 下線部③のような変化がおこったのはなぜか、説明しなさい。



## 2-5

## 邪馬台国と大和政権

映像との対応 / 歴史「邪馬台国と大和政権」

## Point!

2

原始・古代の日本と世界

- (1) 紀元前後ごろの日本は<sup>(1)</sup> 倭<sup>わ</sup>とよばれ、100あまりの小国が分立していた。
- ・九州北部の<sup>(2)</sup> 奴国<sup>なこく</sup>の王は、<sup>(3)</sup> 漢<sup>かん</sup>〔後漢<sup>ごかん</sup>〕に<sup>(4)</sup> 朝貢<sup>ちょうこう</sup>（貢ぎものを送ること）して、漢の皇帝から<sup>(5)</sup> 金印<sup>きんいん</sup>を授かる。漢字で「<sup>(6)</sup> 漢委奴国王<sup>かんわのなのこくおう</sup>」と刻まれている。③
- (2) 3世紀ごろ、女王<sup>(7)</sup> 卑弥呼<sup>ひみこ</sup>が30国ほどを従え、<sup>(8)</sup> 邪馬台国<sup>やまたいこく</sup>を形成。
- ・中国の<sup>(9)</sup> 魏<sup>み</sup>に使いを送り、皇帝から「親魏倭王<sup>しんみわおう</sup>」の称号と金印、銅鏡を授かる。
  - ・邪馬台国には身分の差が存在した。
  - ・邪馬台国や卑弥呼については、魏の歴史書である<sup>(10)</sup> 「魏志」倭人伝<sup>きし わじんでん</sup>に書かれている。
- (3) <sup>(11)</sup> 大和政権<sup>やまとせいけん</sup>〔ヤマト王権<sup>やまとうけん</sup>〕…現在の大阪や奈良あたりの豪族が連合してつくった政権。
- ・大和政権の政府を<sup>(12)</sup> 大和朝廷<sup>やまとていてい</sup>といい、王を<sup>(13)</sup> 大王<sup>おおきみ</sup>とよんだ。  
埼玉県の稲荷山古墳では大王と刻まれた鉄剣が出土。
  - ・5世紀後半ごろまでに九州から東北地方南部を支配下に置いた。③

## Warm Up

右の資料は倭の奴国の王が持っていたとされる金印に刻まれた文字である。次のこととを参考にして、奴国の王が金印を手に入れた目的を説明しなさい。

- ・金印には「漢」という中国の国名が記されている。
- ・当時の倭（日本）は100あまりの国に分かれていた。



## 解説

大和政権の出現以前、日本は多くの国に分かれて争っていた。中国の皇帝に王として認められることで、他の国に対して優位な立場に立つことができた。

（例）中国の皇帝に王と認められ、その権威で他国に対して優位な立場に立つため。



## Try

## 1 次の各問いに答えなさい。

- (1) 紀元前後、日本の九州北部にあり、中国に使いを送った国を何というか。
- (2) (1)の国が使いを送った当時の中国の国名は何か。
- (3) (1)の国の王が中国の皇帝から授かったものは何か。
- (4) (3)に刻まれている文字を漢字5字で答えなさい。
- (5) 中国の歴史書によると、当時の日本は何とよばれていたか。
- (6) 中国の歴史書にも記述のある、日本国内で30国ほどを従えていた国を何というか。
- (7) (6)の女王はだれか。
- (8) (6)の女王が使いを送った中国の国はどこか。
- (9) 当時の日本のようすを記した、(8)の国の歴史書を何というか。
- (10) 現在の大阪や奈良あたりの豪族が連合してつくった政権を何というか。
- (11) (10)の政府を何とよんだか。
- (12) 各地の豪族を従えた(11)の王を何とよんだか。

## 2 次の各問いに答えなさい。

資料1



資料2

( ① ) は、もとは男子を王にしていたが、70～80年たって、倭は乱れて何年も戦った。そこで諸国は共同して、ある女性を王とした。その名を ( ② ) という。(部分要約)

- (1) 下の文字は資料1の金印に彫られている文字である。①, ②にあてはまる文字を答えなさい。  
( ① ) 委 ( ② ) 国王
- (2) 資料2は中国の歴史書である。資料2中の①, ②にあてはまる語句を答えなさい。
- (3) (2)の②の人物は「親魏倭王」の称号と金印を得た。だれから何のために得たと考えられているか。説明しなさい。
- (4) 資料2の歴史書は何か。
- (5) 現在の大阪や奈良あたりの豪族がつくった連合政権を何というか。
- (6) (5)の政権の王を特に何というか。

## 1

(1)	
(2)	
(3)	
(4)	
(5)	
(6)	
(7)	
(8)	
(9)	
(10)	
(11)	
(12)	

## 2

(1)	①	
	②	
(2)	①	
	②	
(3)		
(4)		
(5)		
(6)		

## Exercise

1 P.18の **Point!** を赤シートでかくして、番号順にノートにテストしなさい。

2 年表を見て、以下の各問いに答えなさい。

年代	主な出来事
紀元前1世紀頃	倭には100以上の国がある
57年	<b>A</b> 倭の国の王が後漢に使いを送る
239年	<b>B</b> 邪馬台国の女王が魏に使いを送る
478年	<b>C</b> 倭王武が中国の南朝に使いを送る

(1) 下線部 **A** について、以下の問いに答えなさい。

- ① この倭の国の名前を答えなさい。
- ② このときに後漢の皇帝から授かった金印に刻まれていた文字は何か。
- ③ このときのように中国の皇帝に周囲の国々が貢ぎ物や使いを送ることを何というか。

(2) 下線部 **B** について、この女王の名前を答えなさい。

(3) 下線部 **B** について、この時の様子が記されている史料名として正しいものを **A**～**E** から1つ選びなさい。

**A** 「後漢書」東夷伝      **E** 「魏志」倭人伝

**ウ** 「漢書」地理志      **E** 「宋書」倭国伝

(4) 下線部 **C** について、倭王武とはある連合政権の王である。以下の問いに答えなさい。

- ① この連合政権の名前は何か。
- ② この連合政権の王を何とよぶか。

3 次の資料は邪馬台国について述べた中国の史料を現代語訳したものである。この資料から読み取れる、当時の邪馬台国の様子を「身分」という語句を用いて簡単に説明しなさい。

資料

邪馬台国では、下戸（\*1）が道路で大人（\*2）に出会ったときは、後ずさりして道を譲る。言葉を伝えたり、物事を説明する時には、しゃがんだり、ひざまずいたりして、両手を地に付けて大人をうやまう。

\*1：下戸…下層階級の者      \*2：大人…上層階級の者

2

(1)	①	
	②	
	③	
(2)		
(3)		
(4)	①	
	②	

3

--

2

原始・古代の日本と世界

## 2-6

## 古墳時代と渡来人

映像との対応 / 歴史「古墳時代と渡来人」

## Point!

(1) <sup>(1)</sup> **古墳** …大王や豪族の墓。巨大な墓から、当時の大王の強い権力や優れた技術がうかがえる。

① 種類…<sup>(2)</sup> **前方後円墳**，円墳，方墳など。

大阪府にある大仙古墳〔仁徳 陵 古墳〕が有名。

② <sup>(3)</sup> **埴輪** …古墳の上や周りに置かれた土製品。人型や円筒型などがある。

(2) <sup>(4)</sup> **渡来人** …中国や朝鮮から移住し、技術や学問を伝えた人々。

① <sup>(5)</sup> **漢字**，儒教…5世紀初めに百済から伝わる。

② <sup>(6)</sup> **仏教** …6世紀に百済から伝わる。

③ その他…須恵器，造船，養蚕（カイコを飼って絹をつくること）などの生産技術。

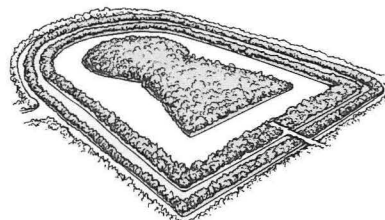

(3) 中国・朝鮮との関係

朝鮮…北部に<sup>(9)</sup> **高句麗**，東部に<sup>(10)</sup> **新羅**，西部に<sup>(11)</sup> **百済**。

大和政権は、小国が分立していた南部の

<sup>(12)</sup> **伽耶地域**〔**任那**，**加羅**〕を足場にして百済と結び、高句麗や新羅と戦った。

中国…5世紀～6世紀，南朝と北朝に分かれて対立していた。

① <sup>(7)</sup> **前方後円墳**② <sup>(8)</sup> **埴輪**

③ 5世紀の東アジア


## Warm Up

下の資料Ⅰは前方後円墳の分布状況，資料Ⅱは稲荷山古墳（埼玉県）出土の鉄剣や，江田船山古墳（熊本県）出土の鉄刀に刻印されていた文字である。これらから分かることを説明しなさい。

資料Ⅰ



資料Ⅱ



## 解説

資料Ⅰから分かること…東北南部から九州まで，前方後円墳をつくれるほど力の強い豪族が存在していた。

資料Ⅱから分かること…その多くが大和政権の影響下にあった。

〔例〕大和政権の支配力が，東北地方南部から九州地方まで及んでいた。



## Try

## 1 次の各問いに答えなさい。

- (1) 大王や豪族の墓を何というか。
- (2) 大阪府の大仙古墳などにみられる, (1)の形態の1つを何というか。
- (3) (1)の上や周りに置かれた土製品を何というか。
- (4) 中国や朝鮮などから日本に移り住み, 進んだ技術や学問を伝えた人々を何というか。
- (5) 5世紀ごろの朝鮮半島では, 北部・東部・西部にそれぞれ何という国ができていたか。
- (6) 大和政権が当時の朝鮮半島で足場としたのは, 何という地域か。
- (7) 5世紀初めに(4)の人々によって伝えられた文字は何か。
- (8) 6世紀に(4)の人々によって伝えられ, その後日本に根づいた宗教は何か。

## 1

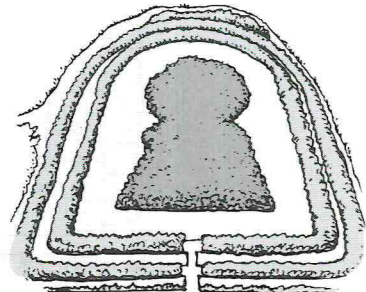
(1)	
(2)	
(3)	
(4)	
(5)	北部
	東部
	西部
(6)	
(7)	
(8)	

## 2 次の各問いに答えなさい。

資料1

資料2

推  
 古  
 多  
 支  
 土  
 固  
 X



- (1) 資料1のXには, 当時の最高の地位を示す称号が書かれている。それは何か答えなさい。
- (2) 資料1は埼玉県の新井山古墳から出土した鉄剣に書かれていた名前である。これと同じ名前が書かれた鉄刀が熊本県の江田船山古墳から出土した。このことからわかることを書きなさい。
- (3) この政権のころ, 大陸から日本に移り住んだ人々を何というか。
- (4) (3)の人々が伝えたものを次のア～エから2つ選び, 記号で答えなさい。  
 ア 儒教    イ 漢字    ウ 土偶    エ イスラム教
- (5) 資料2のような形の古墳を何というか。

## 2


(1)	
(2)	
(3)	
(4)	
(5)	

Exercise

1 P.21の **Point!** を赤シートでかくして，番号順にノートにテストしなさい。

2 次の各問いに答えなさい。

- (1) 大王や豪族が自身の権力を示すために築いた，巨大な墓を何というか。
- (2) (1)の周りに置かれた，右の資料のような土製の品を何というか。
- (3) 中国や朝鮮から，優れた技術や学問を伝えた人々を何というか。



2

(1)	
(2)	
(3)	

3 次の文は世良君の大和政権についてのスピーチである。これを読んで，各問いに答えなさい。

大和政権の大王や豪族たちは多くの前方後円墳をつくりました。資料Ⅰは発掘された前方後円墳の分布を示しています。この分布からは  ということが分かります。

また，古墳時代の大和政権は朝鮮半島とも強い関係を持っています。好太王碑という石碑には，資料Ⅱの斜線の国々と日本とが戦ったことが刻まれています。

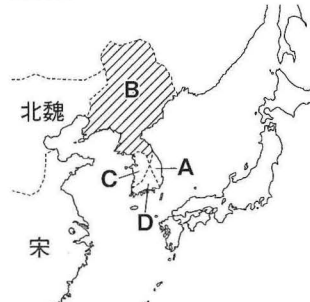
3

(1)	
(2)	A
	B
	C
	D

資料Ⅰ



資料Ⅱ



- (1) 文中の  にあてはまる文を書きなさい。
- (2) 文中の下線部について，資料Ⅱの地図中の **A**～**D** の国名を次の **A**～**E** からそれぞれ選びなさい。

**A** 新羅    **I** 高句麗    **ウ** 百済    **E** 伽耶地域

## 2-7

## 聖徳太子の政治と律令国家の形成

映像との対応 / 歴史「聖徳太子の政治と律令国家の形成」

## Point!

## (1) 中国・朝鮮半島の動き

① 中国…589年、隋が統一し、その後618年に唐が統一。

② 朝鮮半島…新羅が唐と結んで676年に統一。

(2) (1) 飛鳥時代…仏教の導入に努めた豪族の (2) 蘇我氏の勢力が拡大する。

(3) (3) 聖徳太子〔厩戸皇子〕の政治… (4) 推古天皇の (5) 摂政になり、天皇中心の政治を進める。

① (6) 冠位十二階の制度…かんむりの色で地位を示す制度。家柄にとらわれず、才能や功績のある人を役人にした。

② (7) 十七条の憲法…役人の心構えを示した。

③ (8) 遣隋使…中国の進んだ制度や、文化を取り入れるため、  
(9) 小野妹子らを派遣。

一に曰く、(10) 和をもって貴しとなし、  
さからう(争う)ことなきを宗とせよ。  
二に曰く、あつく三宝を敬え。三宝とは  
(11) 仏・法・僧なり。

⑩ 十七条の憲法 (一部)

●

(4) (12) 大化の改新…645年、(13) 中大兄皇子、中臣鎌足らが蘇我氏を倒して始めた政治改革。中大兄皇子は、のちに即位して (14) 天智天皇となった。

① (15) 公地・公民…土地と人民を、豪族ではなく国家が直接支配するという原則。

② (16) 白村江の戦い…663年、唐と新羅の連合軍と戦うが、敗れる。

③ (17) 壬申の乱…672年、天智天皇の後継者をめぐる争い。勝利した (18) 天武天皇が即位した。●

(5) (19) 大宝律令…701年、唐の律令にならって制定された法律。

① (20) 班田収授法…戸籍にもとづいて、6歳以上の人々に (21) 口分田を与え、税を課した。  
口分田は死亡後に国に返させた。

② おもな税や労役…重税から逃れるために、逃亡する者があらわれた。

・ (22) 租…収穫した稲の約3%を納める。・ (23) 調…織物や地方の特産物を納める。

・ (24) 庸…労役の代わりに布を納める。・ 兵役…一部は (25) 防人として北九州を防衛。

・ 雑徭…国司のもとで年間60日以内の労働を行う。●

(6) (26) 平城京…710年、唐の都 (27) 長安にならい、奈良に都をつくる。奈良時代の始まり。

(28) 和同開珎がつくられ、碁盤の目状の区画で、市が開かれた。

(7) (29) 墾田永年私財法…743年、農民に新しく開墾した土地の永久私有を認めた。貴族や寺社は開墾を行い、後に荘園となる私有地を広げた。●

## Warm Up

(1) 聖徳太子の制定した冠位十二階の制度は何を目的としていたか。説明しなさい。

(2) 公地・公民とはどのような原則か。説明しなさい。

## 解説

(1) 冠位十二階とは役人の地位をかんむりの色で示す制度。豪族の地位に関わらず、朝廷が有能とみなした人物を役人として取り立てることができた。

(例) 家柄にとらわれず、才能や功績のある人物を役人にすること。

(2) (例) 土地と人民を、豪族ではなく国家が直接支配するという原則。



**1** 次の各問いに答えなさい。

- 1

(1)	
(2)	
(3)	
(4)	
(5)	
(6)	
(7)	
(8)	
(9)	
(10)	
(11)	
(12)	

**2** 年表と資料を見て、各問いに答えなさい。

資料

[illegible]

- 2

(1)			
(2)			
(3)	名称		
	目的		
(4)	①		
	②	X	
		Y	
(5)			
(6)			
(7)			

① このきまりを何というか。

② **X**と**Y**にあてはまる語句を答えなさい。

(5) 年表中の**C**について、この使者を何というか。

(6) 年表中の**D**について、この政治改革で蘇我氏を倒した人物を2人答えなさい。

25

## Exercise

1 P.24の **Point!** を赤シートでかくして、番号順にノートにテストしなさい。

2 次のア～エは聖徳太子の行った政治について述べたものである。適切なものを1つ選び、記号で答えなさい。

- ア 役人に天皇に仕えるための心構えを示すため、冠位十二階を定めた。  
 イ 蘇我氏とともに、豪族中心の政治を行った。  
 ウ 中国のすぐれた文化や政治制度を取り入れるため遣隋使を派遣した。  
 エ 豪族の家柄に関わらず、功績や才能によって役人を登用するため、十七条の憲法を定めた。

3 年表と資料を見て、各問いに答えなさい。

年表

年代	できごと
645	大化の改新が始まる…………… <b>A</b>
663	唐・新羅の連合軍と戦う…………… <b>B</b>
701	律令が制定される…………… <b>C</b>
710	都が移る…………… <b>D</b>
743	墾田永年私財法が出される…………… <b>E</b>

資料

名前	内容
<b>X</b>	収穫の約3%の稲を納める
調	絹・糸・真綿・特産物を納める
<b>Y</b>	労役の代わりに麻布を納める
雑徭	年間60日以内の労働
兵役	衛士：都の警備
	<b>Z</b> ：北九州の警備

- (1) 年表中の**A**について、この改革は「公地・公民」を方針とした。「公地・公民」とはどのような原則か。説明しなさい。  
 (2) 年表中の**B**について、この戦いを何というか。  
 (3) 年表中の**C**について、この律令の名前を答えなさい。  
 (4) 資料中の**X**～**Z**にあてはまる語句を答えなさい。  
 (5) 年表中の**D**について、以下の問いに答えなさい。  
 ① 移ったあとの都の名前を答えなさい。  
 ② 移ったあとの都は中国の何という都にならってつくられたか答えなさい。  
 ③ このころにつくられた右の図の貨幣を何というか。



- (6) 年表中の**E**について述べた文として誤っているものを次のア～エから1つ選び、記号で答えなさい。  
 ア 貴族や豪族などが私有地を広げていった。  
 イ 農民に与える土地が不足していたのでこの法令が出された。  
 ウ 多くの農民が自分の土地をもつようになった。  
 エ のちに荘園とよばれる私有地が増えていくことになった。

2

3

(1)							
(2)							
(3)							
(4)	<table border="1"> <tr> <td><b>X</b></td> <td></td> </tr> <tr> <td><b>Y</b></td> <td></td> </tr> <tr> <td><b>Z</b></td> <td></td> </tr> </table>	<b>X</b>		<b>Y</b>		<b>Z</b>	
<b>X</b>							
<b>Y</b>							
<b>Z</b>							
(5)	<table border="1"> <tr> <td>①</td> <td></td> </tr> <tr> <td>②</td> <td></td> </tr> <tr> <td>③</td> <td></td> </tr> </table>	①		②		③	
①							
②							
③							
(6)							



## 2-8

## 飛鳥文化と天平文化



映像との対応 / 歴史「飛鳥文化と天平文化」

## Point!

- (1) <sup>(1)</sup> <sup>あすかぶんか</sup> **飛鳥文化** …聖徳太子のころに栄えた、最初の仏教文化。  
 聖徳太子が建立した<sup>(2)</sup> <sup>こうりゅう</sup> **法隆寺**は現存する世界最古の木造建築。

① <sup>(3)</sup> **法隆寺**


- (2) <sup>(4)</sup> <sup>てんぴょうぶんか</sup> **天平文化** …奈良時代の国際色豊かな文化。<sup>(5)</sup> <sup>しょうむてんのう</sup> **聖武天皇**の時期。  
 ① <sup>(6)</sup> <sup>けんとうし</sup> **遣唐使**の派遣…唐の文化や制度を学ぶため。  
 ・<sup>(7)</sup> <sup>かんじん</sup> **鑑真**…唐の僧。苦難の末に来日し、仏教の布教に努めた。  
 ② <sup>(8)</sup> **聖武天皇**…仏教の力で国家を守るため、都に<sup>(9)</sup> **東大寺**、**大仏**を、  
 諸国に国分寺・国分尼寺を建てる。  
 ・<sup>(10)</sup> <sup>しょうそういん</sup> **正倉院**…聖武天皇の遺品が納められている。  
 ③ 歴史書…神話や伝承、記録をもとに『<sup>(11)</sup> **古事記**』、『<sup>(12)</sup> **日本書紀**』が  
 まとめられた。  
 ④ 『<sup>(13)</sup> **万葉集**』…現存する日本最古の歌集。<sup>(14)</sup> **防人**の歌など約  
 4500首を収録。  
 ⑤ 『<sup>(15)</sup> **風土記**』…国ごとにつくられ、自然や産物などを記した。

① <sup>(16)</sup> **鑑真**① <sup>(17)</sup> **正倉院**


## Warm Up

下の資料Ⅰ、Ⅱについて、次の各問いに答えなさい。

資料Ⅰ



資料Ⅱ



- (1) 聖武天皇が東大寺や国分寺を建てた理由を説明しなさい。  
 (2) 資料Ⅰ、資料Ⅱの建造物がつくられた時代の文化の特徴をそれぞれ説明しなさい。

## 解説

- (1) 仏教の力で国家を守るため。  
 (2) 資料Ⅰ…飛鳥文化の代表的建造物である法隆寺。

資料Ⅰ (例) 日本で最初の仏教文化である。資料Ⅱ…聖武天皇の遺品が納められている、天平文化の代表的建造物の正倉院。

また、遺品の中には、西アジアやインドの影響を受けた文物が含まれている。

資料Ⅱ (例) 唐や西アジアの影響を受けた、国際色豊かな文化である。

Try


1 次の各問いに答えなさい。

- (1) 聖徳太子のころに栄えた、わが国最初の仏教文化を何というか。
- (2) 聖徳太子が建立した、現存する世界最古の木造建築は何か。
- (3) 唐の影響を受けた国際色豊かな奈良時代の文化を何というか。
- (4) (3)の文化が最も栄えた時期の天皇はだれか。
- (5) 唐の文化や制度を学ぶために派遣した使節を何というか。
- (6) 唐の僧で、何度も遭難しながら来日した人物はだれか。
- (7) (4)の天皇が、仏教の力で国を守ろうとして、都に大仏とともに建てた寺は何か。
- (8) (4)の天皇の遺品などを納めた建物を何というか。
- (9) 奈良時代に神話や伝承、記録などをもとにまとめられた歴史書を1つ答えなさい。
- (10) 約4500首収められた日本最古の歌集は何か。
- (11) 国ごとにつくられた、自然や産物などを記した書物は何か。

1

(1)	
(2)	
(3)	
(4)	
(5)	
(6)	
(7)	
(8)	
(9)	
(10)	
(11)	

2 下の資料について、各問いに答えなさい。



2

(1)	①	
	②	
(2)		

- (1) 資料の建造物は現存する世界最古の木造建築物である。
  - ① この建造物の名称を答えなさい。
  - ② この建造物を建立したのはだれか。答えなさい。
- (2) 資料の建造物は飛鳥文化の代表的文物である。飛鳥文化の説明として適切なものを下のア～エから1つ選び、記号で答えなさい。
  - ア 渡来人の影響を受けた、日本における最初の仏教文化である。
  - イ 自然崇拝を基本とする文化である。代表的な文物として、豊かな収穫を祈るための土偶をつくった。
  - ウ シルクロードを介した西アジアやインドの影響も見られる、国際色豊かな文化である。
  - エ 中国の影響を廃することで生み出された、わが国独自の文化である。



## Exercise

1 P.27の **Point!** を赤シートでかくして、番号順にノートにテストしなさい。

2 次の各問いに答えなさい。


- (1) 聖徳太子が活躍したころの文化を飛鳥文化というが、この文化の特色について述べた文として、適切なものをア～ウから1つ選び、記号で答えなさい。  
**ア** 自然の神々を信じる、素朴な日本固有の文化。  
**イ** 中国やインドの影響を受けた、日本で最初の仏教文化。  
**ウ** ヨーロッパ人の影響を受けた唯一神を信じる文化。
- (2) 奈良時代の聖武天皇の時期に栄えた文化を何というか。
- (3) 聖武天皇の遺品が納められている建物を何というか。
- (4) 奈良時代に編集された日本の歴史書を何というか。2つ答えなさい。
- (5) 約4500首を収めた、日本最古の歌集を何というか。
- (6) (5)には兵役で北九州の防備についた人々が詠んだ歌も収められている。この人々を何というか。

3 下の資料Ⅰ、Ⅱについて、各問いに答えなさい。

資料Ⅰ



資料Ⅱ



- (1) 資料Ⅰは仏教の布教のために唐から日本にやってきた僧の木像である。次の各問いに答えなさい。
  - ① この人物の名前を答えなさい。
  - ② この人物は、唐の文化を学ぶために日本から派遣された使節に同行して日本にやってきた。この使節を何というか。
- (2) 資料Ⅱは東大寺の敷地内に立つ、聖武天皇の遺品を納めていた建造物である。次の各問いに答えなさい。
  - ① この建造物の名前を答えなさい。
  - ② 聖武天皇が国分寺や大仏をつくらせた理由を説明しなさい。
  - ③ 聖武天皇の時代に栄えた文化を何とよぶか。また、その特徴を説明しなさい。

2

(1)	
(2)	
(3)	
(4)	
(5)	
(6)	

3

(1)	①	
	②	
(2)	①	
	②	
③	名称	
	特徴	

## 2-9

## 平安京と摂関政治

映像との対応 / 歴史「平安京と摂関政治」

## Point!

2

原始・古代の日本と世界

(1) <sup>(1)</sup> 平安京 …現在の京都に移された都。<sup>(2)</sup> 794 年, <sup>(3)</sup> 桓武天皇 が移した。

【理由】: 奈良時代に <sup>(4)</sup> 貴族や仏教勢力の権力争い により乱れた  
<sup>(5)</sup> 律令政治を立て直す ため。

① 政治改革…地方政治の立て直しと律令制の強化。

② 蝦夷の平定… <sup>(6)</sup> 坂上田村麻呂 を <sup>(7)</sup> 征夷大將軍 に任命して, 朝廷の支配に従わない東北地方の蝦夷の平定にあたらせた。

(2) <sup>(8)</sup> 摂関政治 …天皇が幼いときには <sup>(9)</sup> 摂政 として, 成人してからは <sup>(10)</sup> 関白 として朝廷の実権をにぎって行った政治。

藤原氏は, <sup>(11)</sup> 娘を天皇のきさきにし, その子を次の天皇に立てて 勢力をのばした。

全盛期は11世紀前半の <sup>(12)</sup> 藤原道長 ・ <sup>(13)</sup> 藤原頼通 父子のとき。

藤原氏は朝廷の高位高官を独占し, 地方豪族から <sup>(14)</sup> 荘園 などを寄進され, 多くの収入を得て栄えた。

(3) 新しい仏教…唐に渡った僧がもたらす。

① <sup>(15)</sup> 最澄 … <sup>(16)</sup> 天台宗 を広め, 比叡山 (滋賀県・京都府) に <sup>(17)</sup> 延暦寺 を建てた。

② <sup>(18)</sup> 空海 … <sup>(19)</sup> 真言宗 を広め, 高野山 (和歌山県) に <sup>(20)</sup> 金剛峯寺 を建てた。

## Warm Up

次の文章は佐々木先生が, 社会の授業中に藤原氏の政治について説明したものである。これを読んで次の問題に答えなさい。

「この世をば わが世とぞ思う 望月の欠けたることも 無しと思えば」

この和歌は, 藤原道長が娘の威子の婚礼にあたってよんだものです。藤原氏はこのように

ことによって, 天皇が幼い間は ( ① ), 天皇が成長してからは ( ② ) という地位につき, 独占的に政治を行いました。これを摂関政治とよびます。

(1) ①, ②にあてはまる言葉を書きなさい。

(2) 文章中の  にあてはまる, 適切な文を書きなさい。

## 解説

(1) 摂関政治がヒントになっている。

①: 摂政 ②: 関白

(2) 藤原氏は積極的に娘を天皇のきさきにした。娘が産んだ子を天皇にすることができれば, 自分は天皇の祖父になるため, 望みの地位につくことができる可能性が高かった。

(例) 娘を天皇のきさきにし, その子を次の天皇に立てる

## Try

## 2

## 原始・古代の日本と世界

## 1 次の各問いに答えなさい。

- (1) 都を平安京に移した天皇はだれか。
- (2) 蝦夷の平定のために(1)の天皇によって征夷大將軍に任じられ、東北地方に派遣された人物はだれか。
- (3) 藤原氏が朝廷の実権をにぎって行った政治を何というか。
- (4) 天皇が幼いとき、藤原氏は何という役職について実権をにぎったか。
- (5) 天皇の成人後、藤原氏は何という役職について実権をにぎったか。
- (6) 地方豪族から藤原氏に多く寄進された土地を何というか。
- (7) 平安時代の新しい仏教で、比叡山に延暦寺を建てた人物が広めた宗派を何というか。
- (8) (7)の宗派を広めた人物を答えなさい。
- (9) 平安時代の新しい仏教で、高野山に金剛峯寺を建てた人物が広めた宗派を何というか。
- (10) (9)の宗派を広めた人物を答えなさい。

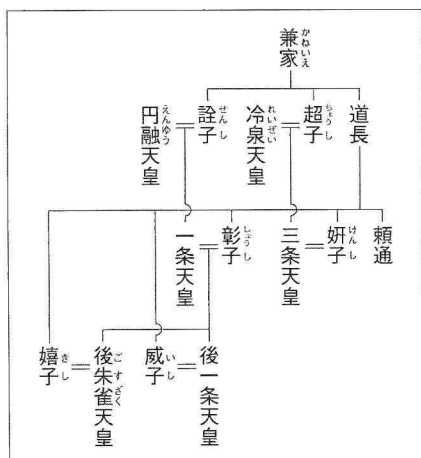
## 1

(1)	
(2)	
(3)	
(4)	
(5)	
(6)	
(7)	
(8)	
(9)	
(10)	

## 2 年表を見て、次の各問いに答えなさい。

( A ) 年	現在の京都市にあたる ( ① ) に遷都する。
894年	唐の衰退を菅原道真が訴え、遣唐使が停止される。
10～11世紀	貴族政治が強くなり、特に ( ② ) ・藤原頼通父子のときに最も強まる。

- (1) 年表中のAにあてはまる数字を答えなさい。
- (2) 年表中の①、②にあてはまる語句を答えなさい。
- (3) ①に遷都した理由は何か。説明しなさい。
- (4) 藤原氏はどのようにして権力を握ったか。次の資料をもとに説明しなさい。



## 2

(1)	
(2)	①
	②
(3)	
(4)	



## Exercise

1 P.30の **Point!** を赤シートでかくして、番号順にノートにテストしなさい。

2

2 次の各問いに答えなさい。

- (1) 794年におかれた都の名前を答えなさい。
- (2) 藤原氏が、天皇が幼いときは摂政、成人してからは関白の地位について行った政治を何というか。
- (3) 平安時代に仏教を広めた人物と宗派の名称、寺院の名前の組み合わせとして正しいものをア～クから2つ選び、記号で答えなさい。

ア 空海－天台宗－延暦寺      イ 空海－天台宗－金剛峯寺  
 ウ 空海－真言宗－延暦寺      エ 空海－真言宗－金剛峯寺  
 オ 最澄－天台宗－延暦寺      カ 最澄－天台宗－金剛峯寺  
 キ 最澄－真言宗－延暦寺      ク 最澄－真言宗－金剛峯寺

2

(1)	
(2)	
(3)	

3 下の年表を見て、各問いに答えなさい。

年	政治
794	( ① ) が都を平安京に移す……………A
802	坂上田村麻呂が東北地方に城を築く……………B
866	藤原氏が初めて摂政となる
887	藤原氏が初めて関白となる
1017	藤原道長の子 ( ② ) が摂政となる……………C

- (1) 年表中の①・②にあてはまる人物について、語群から選びそれぞれ漢字で書きなさい。

《語群》

桓武天皇      聖武天皇      聖徳太子      藤原鎌足      藤原頼通

- (2) 年表中 A の位置としてふさわしいものを、右の地図中のア～エから選び、記号で書きなさい。ただし、府県の境は現在のものを示している。



- (3) 年表中 B について、何という役職にいたか。漢字で正しく書きなさい。
- (4) 年表中 C のような藤原氏の政治を摂関政治というが、藤原氏はどのようにして勢力をのばしたのか。説明しなさい。
- (5) 摂関政治が全盛のころ、全国に広まっていた藤原氏などの貴族や寺社の所有する私有地を、何とよぶか。

3

(1)	①	
	②	
(2)		
(3)		
(4)		
(5)		

## 2-10

## 東アジアの変化と国風文化

▶ 映像との対応 / 歴史「東アジアの変化と国風文化」

## Point!

## (1) 東アジアの変化

- ① (1 <sup>しやう</sup> 遣唐使) の停止…唐の衰退や航海の危険などを理由に (2 <sup>すがわらのみちざね</sup> 菅原道真) の提案により停止。  
 ② 中国…10世紀初めに唐が滅亡。979年に (3 <sup>そう</sup> 宋) が中国を統一。  
 ③ 朝鮮半島…10世紀前半に (4 <sup>こうらい</sup> 高麗) がおこり、新羅を倒して朝鮮半島を統一。

(2) (5 <sup>こくふうぶん か</sup> 国風文化) …摂関政治の頃に栄えた、日本の風土や生活に合った貴族文化。

- ① (6 <sup>しんでんつくろ</sup> 寝殿造) …貴族の住まい。美しい庭園を取り入れた建築様式。  
 ② 平等院鳳凰堂… (7 <sup>よりみち</sup> 藤原頼通) が建てた代表的な阿弥陀堂。  
 ③ 国文学の発達…平安時代以降、女性向けの文字として

(8 <sup>仮名文字</sup> [かな文字]) が普及。


・『(9 <sup>げんじものかたり</sup> 源氏物語)』…宮廷に仕えた女官の (10 <sup>むらさきしきぶ</sup> 紫式部) による物語。

・『(11 <sup>まくらのそうし</sup> 枕草子)』…宮廷に仕えた女官の (12 <sup>せいしょうなごん</sup> 清少納言) による

随筆。

・『古今和歌集』…紀貫之らが編集した。すぐれた和歌が収録されている。

- ④ 絵画…大和絵 (日本の自然や風俗をえがいた絵画)、絵巻物 (絵と文をおりまぜて、物語のすじを展開した巻物) など。

(3) (14 <sup>じょうとんしんこう</sup> 浄土信仰) の教え…念仏を唱えて阿弥陀仏にすがれば、来世に極楽浄土へ生まれ変わるとする教え。阿弥陀仏の像や阿弥陀堂がつくられた。

⑬ (13 平等院鳳凰堂)

## Warm Up

国風文化を簡単に説明しなさい。

## 解説

唐との関係が変わってくると、唐風の文化を基にしながら、日本の風土や生活に合った文化が生まれた。

(例) 日本の風土や生活に合った貴族の文化。

## Try

## 1 次の各問いに答えなさい。

- (1) 滅亡した唐にかわり、979年に中国を統一した王朝を何というか。
- (2) 10世紀前半に、朝鮮半島は何という国によって統一されたか。
- (3) 唐の衰退や航海の危険などを理由に停止された使節は何か。
- (4) (3)の停止を提案した人物は誰か。
- (5) 日本の風土や生活に合った貴族文化を何というか。
- (6) 浄土信仰にもとづいて藤原頼通が建立した、京都宇治の阿弥陀堂を何というか。
- (7) 漢字を簡略化し、女性向けに発達した文字を何というか。
- (8) 清少納言によって書かれた随筆は何か。

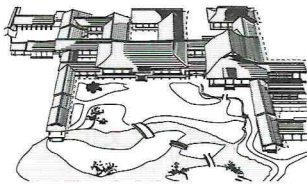
## 1

(1)	
(2)	
(3)	
(4)	
(5)	
(6)	
(7)	
(8)	

## 2 次の文章を読んで、下の各問いに答えなさい。

平安時代に生まれた文化として国風文化があります。この文化は **X** という特徴があります。また、新たな仏教が開かれたり、 **Y** という日本語の発音を表現する文字がつけられました。

- (1) **X** にあてはまる文を「風土」という語句を使って説明しなさい。
- (2) 文中の **Y** にあてはまる語句を答えなさい。
- (3) 文中の下線部について、『源氏物語』を書いた人物は誰か。
- (4) 国風文化が栄えた時期に、貴族たちは下の図のような住居で生活していた。このような住居の建築様式を何というか。



## 2

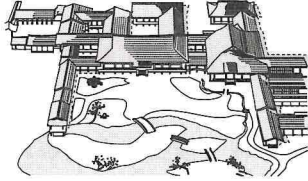
(1)	
(2)	
(3)	
(4)	



## Exercise

1 P.33の **Point!** を赤シートでかくして、番号順にノートにテストしなさい。

2 次の資料を見て、各問いに答えなさい。




- (1) 資料のような貴族の住宅で用いられている建築様式を答えなさい。
- (2) 紀貫之によって編集された和歌集は何か。ア～エから選びなさい。  
 ア 万葉集    イ 風土記  
 ウ 古事記    エ 古今和歌集
- (3) 国風文化について、各問いに答えなさい。  
 A この時代につくられた日本独自の文字を何というか。  
 B 紫式部によって書かれた物語を何というか。  
 C 清少納言によって書かれた随筆を何というか。

2

(1)		
(2)		
(3)	A	
	B	
	C	

3 次の資料を見て、各問いに答えなさい。



- (1) この資料の建築物の名前は何か。また建立した人物は誰か。
- (2) 資料の建築物は浄土信仰にもとづいてつくられている。浄土信仰の説明として、誤っているものを次のア～ウから1つ選び、記号で答えなさい。  
 ア 空海によってはじめて唐から日本にもたらされた信仰で、呪術的要素が強い。  
 イ 念仏を唱えることによって、来世で極楽浄土に生まれ変わることを願う教えである。  
 ウ 奥州（今の東北地方）でも、浄土信仰にもとづいて中尊寺金色堂がつくられた。
- (3) 資料の建築物は国風文化の代表でもある。国風文化とはどのような文化か説明しなさい。

3

(1)	名前	
	人物	
(2)		
(3)		

## 3-1

## 武士の台頭と院政

▶ 映像との対応 / 歴史「武士の台頭と院政」

## Point!

3

中世の日本

## (1) 武士の成長 (10世紀半ば～)

① 武士の反乱…935年に関東地方で<sup>(1)</sup> **平将門** (たいらのまさかど) が、939年に瀬戸内地方で<sup>(2)</sup> **藤原純友** (ふじわらのすみとも) が反乱をおこした。

② 東北地方の戦乱…11世紀後半に、東北地方の武士の対立から、前九年合戦・後三年合戦がおこった。その後平泉 (岩手県) を拠点とした<sup>(3)</sup> **奥州藤原氏** (おうしゅうとうげん) が力を持った。

③ <sup>(4)</sup> **源氏** (げん) (清和源氏) は東国に勢力をのぼし、<sup>(5)</sup> **平氏** (へい) (桓武平氏) は西国に勢力をのぼした。

(2) <sup>(6)</sup> **院政** (いんせい) … <sup>(7)</sup> **上皇** (じょうこう) とよばれた、位をゆずった天皇を中心とする政治のこと。

① 始まり…1086年<sup>(8)</sup> **白河天皇** (しらかわてんのう) が天皇の位をゆずって白河上皇となり、政治を行った。

【目的】：藤原氏の摂政・関白の影響を受けずに政治を行うため。子孫を確実に天皇にするため。

② 影響…上皇と天皇が政権をめぐる対立。

## (3) 平氏の進出

① <sup>(9)</sup> **保元の乱** (ほうげんらん) …1156年、上皇と天皇の対立に武士がまきこまれて戦った。

<sup>(10)</sup> **平清盛** (たいらのきよもり) と源義朝 (みなもとのよしとも) が味方した天皇側が勝利し、2人は政界に進出。

② <sup>(11)</sup> **平治の乱** (へいじらん) …1159年、朝廷内の対立と平清盛と源義朝の勢力争いにより発生。平清盛が勝利し、平氏の中央政界の地位が固まった。

(4) 平氏政権…1167年、平清盛が武士で初めて<sup>(12)</sup> **太政大臣** (だいじょうだいじん) となった。娘を天皇のきさきにし、その子を天皇とすることで実権をにぎった。

・<sup>(13)</sup> **日宋貿易** (にっそうぼい) …現在の神戸港にあたる港 (大輪田泊) (おおわだのとまり) を整備し、宋と貿易を行った。

## Warm Up

院政とはどのような政治のことか。簡単に説明しなさい。

## 解説

上皇とは退位した天皇のことである。退位した天皇には摂政・関白などの後見人がつかないため、藤原氏の影響を抑えることができた。

(例) 退位した天皇が上皇として引き続き政治を行うこと。

## Try

## 1 次の各問いに答えなさい。

- (1) 10世紀半ば、関東地方で反乱をおこした人物はだれか。
- (2) 11世紀後半に勢力をのばした、平泉を拠点とした一族は何氏か。
- (3) 位をゆずった天皇は何とよばれるか。
- (4) (3)が中心となって行われる政治を何というか。
- (5) 1086年に位をゆずった天皇はだれか。
- (6) 1156年、上皇と天皇の対立に藤原氏の内部争いがからみ、さらに武士をまきこんだ争いを何というか。
- (7) (6)の3年後、平氏と源氏の勢力争いからおこった争いを何というか。
- (8) (7)で勝利し、中央政界での勢力をのばした人物はだれか。
- (9) 1167年、(8)の人物は武士として初めて、何という役職についたか。

## 1

(1)	
(2)	
(3)	
(4)	
(5)	
(6)	
(7)	
(8)	
(9)	

## 2 年表を見て、各問いに答えなさい。

- (1) 年表中のA～Dにあてはまる語句を下から1つずつ選んで答えなさい。

年代	できごと
935	関東で( A )が反乱をおこす
939	西国で( B )が反乱をおこす
1086	院政が始まる
1156	( C )がおこる
1159	( D )がおこる
1167	( E )が太政大臣の位につく

藤原道長	藤原純友	平将門	源義朝
白河天皇	平治の乱	壬申の乱	保元の乱

- (2) 年表中の下線部について、院政とはどのような政治のことか。簡単に説明しなさい。
- (3) 年表中のEの人物について以下の問いに答えなさい。
- ① この人物の名前を答えなさい。
  - ② この人物が行った、中国との貿易を何というか。

## 2

(1)	A	
	B	
	C	
	D	
(2)		
(3)	①	
	②	



## Exercise

**1** P.36の **Point!** を赤シートでかくして、番号順にノートにテストしなさい。

**2** 次の各問いに答えなさい。

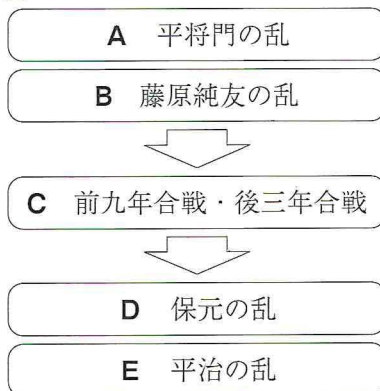
- (1) 935年に関東地方で反乱をおこした武士は誰か。
- (2) 939年に瀬戸内地方で反乱をおこした武士は誰か。
- (3) 前九年合戦・後三年合戦の後、平泉を拠点に力を持った一族を、何氏というか。
- (4) 位をゆずった天皇が中心となって政治を行うことを何というか。
- (5) 平清盛が武士として初めてついた役職を何というか。
- (6) 平清盛が現在の神戸港にあたる港を整備して行った貿易を何というか。

**2**

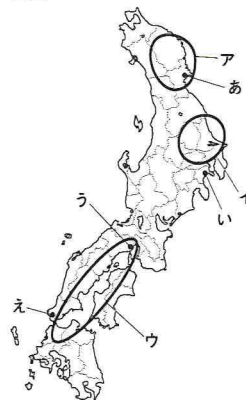
(1)	
(2)	
(3)	
(4)	
(5)	
(6)	

**3** 次の図と地図を見て、各問いに答えなさい。

図



地図



- (1) A～Cの戦乱がおこった場所を、地図中のア～ウからそれぞれ選び、記号で答えなさい。
- (2) 次の①～③の戦乱にあてはまるものを、それぞれ図中のA～Eから選び、記号で答えなさい。
  - ① 平清盛と源義朝の勢力争いから発生した。
  - ② 奥州藤原氏が力を持つきっかけとなった。
  - ③ 上皇と天皇の対立によって発生した。
- (3) 平清盛によって整備された大輪田泊の場所として適切なものを地図のあ～えより選び記号で答えなさい。

**3**

(1)	A	
	B	
	C	
(2)	①	
	②	
	③	
(3)		

## 3-2

## 鎌倉幕府の成立

映像との対応 / 歴史「鎌倉幕府の成立」

## Point!

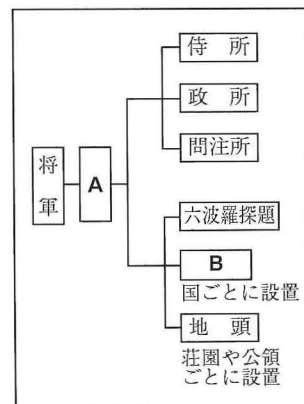
- (1) <sup>(1)</sup> 壇ノ浦 の戦い…1185年、現在の山口県でおこった源氏と平氏の最後の戦い。源 義経の活躍などにより源氏が勝利し、平氏は滅亡。
- (2) <sup>(2)</sup> 鎌倉幕府 の成立
- ① 1185年、<sup>(3)</sup> 守護・地頭 の設置。
- ・<sup>(4)</sup> 守護 …国ごとに設置。国内の軍事・警察や御家人の統制など。
  - ・<sup>(5)</sup> 地頭 …荘園や公領ごとに設置。土地の管理や年貢の取り立てなど。
- ② 1192年、<sup>(6)</sup> 源 頼朝 が <sup>(7)</sup> 征夷大將軍 に任じられる。
- (3) 封建制度…主君と家臣が、土地を仲立ちとした主従関係を結ぶしくみ。将軍と主従関係を結んだ武士を <sup>(8)</sup> 御家人 という。
- ① <sup>(9)</sup> 御恩 …将軍は御家人の領地を認め、功績があると新しい土地をあたえた。
- ② <sup>(10)</sup> 奉公 …御家人は将軍に忠誠を誓い、戦いのときは家臣を率いて出陣した。
- (4) 北条氏の政治
- ① 執権政治…頼朝の死後、<sup>(11)</sup> 北条氏が幕府の実権をにぎり、将軍を補佐する <sup>(12)</sup> 執権 という職について、政治を行った。
- ② <sup>(13)</sup> 承久の乱 …1221年、<sup>(14)</sup> 後鳥羽上皇 が政治の実権を朝廷に取り戻そうとして、幕府を倒すために兵をあげた。源頼朝の妻だった <sup>(15)</sup> 北条政子 の演説により、東国の武士を味方につけた幕府側が勝利した。乱の後には京都に <sup>(16)</sup> 六波羅探題 を設置し、朝廷や西国武士を監視した。
- ③ <sup>(17)</sup> 御成敗式目 [貞永式目] …1232年に制定された、わが国最初の武家法。執権 <sup>(18)</sup> 北条泰時 が制定した。武士に対して、裁判の基準を示した。

## Warm Up

- (1) 右の図中のA・Bにあてはまる語句を答えなさい。
- (2) 右の図中の六波羅探題が置かれた目的は何か。

## 解説

- (1) A…将軍に近い役職なので執権が入る。  
B…「国ごと」に設置されていることから守護が入る。  
A：執権 B：守護
- (2) 六波羅探題を置いたきっかけは、1221年に承久の乱で勝利したこと。これにより朝廷や西国の武士を監視することができるようになった。  
(例) 朝廷や西国の武士を監視するため。



## Try

## 1 次の各問いに答えなさい。

- (1) 源頼朝が開いた幕府を何というか。
- (2) 国ごとに設置され、国内の軍事・警察などを行った役職を何というか。
- (3) 荘園や公領ごとに設置され、土地の管理や年貢の取り立てなどを行った役職を何というか。
- (4) 将軍と主従関係を結んだ武士を何というか。
- (5) 承久の乱で、(4)の結束を訴えた幕府側の人物はだれか。
- (6) 1232年に制定された、わが国最初の武家法を何というか。
- (7) (6)が制定された時の執権は誰か。

## 1

(1)	
(2)	
(3)	
(4)	
(5)	
(6)	
(7)	

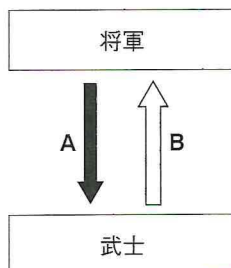
## 2 次の文章を読んで、あとの各問いに答えなさい。

栄華を誇った平氏も平清盛の死後勢いが衰え、1185年には源義経の活躍もあって **a** 壇ノ浦の戦いで滅ぼされた。

源頼朝は1192年に征夷大將軍に任じられて、**b** 封建制度による支配を行った。源氏が3代で滅びると、( ① ) 氏が執権という幕府の重職を独占し、実権をにぎった。

1221年、( ② ) は朝廷に実権を取り戻すために承久の乱をおこしたが、幕府に敗れて隠岐の島に流罪となった。

- (1) ①, ②にあてはまる言葉を、それぞれ答えなさい。
- (2) 下線部 **a** の行われた場所はどこか。右の地図中の **あ～え** から選び、記号で答えなさい。
- (3) 下線部 **b** について、次の図の **A・B** にあてはまる語句をそれぞれ漢字2文字で答えなさい。



- (4) 次の **ア～エ** は (3) の図中の **A・B** のどちらにあたるか。それぞれ記号で答えなさい。
  - ア** 先祖代々の土地の支配を認める。
  - イ** 京都や幕府周辺の警備をする。
  - ウ** 戦時に将軍のために戦う。
  - エ** ほうびとして土地を与える。

## 2

(1)	①	
	②	
(2)		
(3)	A	
	B	
(4)	ア	
	イ	
	ウ	
	エ	



## Exercise

1 P.39の **Point!** を赤シートでかくして、番号順にノートにテストしなさい。

2 次の年表を見て、あとの各問いに答えなさい。

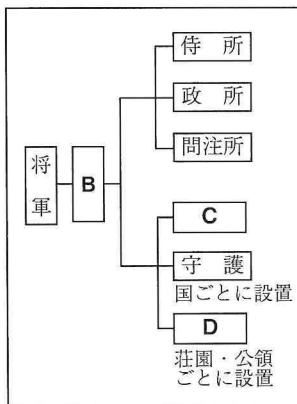
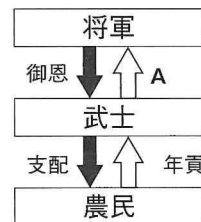
年代	できごと
1185	( ① ) で平氏がほろびる 国ごとに ( ② ), 荘園・公領ごとに ( ③ ) をおく
1192	( ④ ) が征夷大將軍に任命される
1221	<b>a</b> 承久の乱がおこる
1232	<b>b</b> 御成敗式目が制定される

- (1) 年表の①～④にあてはまる語句を書きなさい。  
 (2) 下線部 **a** の際に御家人に演説した④の妻は誰か。  
 (3) 下線部 **b** の説明として、正しいものを選び、記号で答えなさい。

- ア** 源義経によって制定された。  
**イ** 日本で天皇によって制定された、最初の法律である。  
**ウ** 裁判を公平に行うための基準を示した。

3 次の各問いに答えなさい。

- (1) 右の図は中世の支配のしくみを示している。次の問いに答えなさい。  
 ① 図中の武士を何というか。  
 ② **A** にあてはまる語句を答えなさい。  
 (2) 下の資料は鎌倉幕府の機構を表した図である。  
 あとの問いに答えなさい。



- ① 資料中の **B** にあてはまる役職は何か。  
 ② **B** の役職を独占していた一族は何氏か。  
 ③ 資料中の **C** は承久の乱後に京都に置かれたものである。これは何か。  
 ④ **C** が置かれた目的は何か。簡単に説明しなさい。  
 ⑤ 資料中の **D** にあてはまる語句を答えなさい。

2

(1)	①	
	②	
	③	
	④	
(2)		
(3)		

3

(1)	①	
	②	
(2)	①	
	②	
	③	
	④	
	⑤	

## 3-3

## 鎌倉時代の文化と民衆の生活

映像との対応 / 歴史「鎌倉時代の文化と民衆の生活」

## Point!

3

中世の日本

(1) **鎌倉文化** …力をつけた武士の好みを反映した、素朴で力強い文化。

(1) 文学・学問

・『<sup>(2)</sup> **平家物語**』…平家一門の盛衰をえがいた物語。・『<sup>(3)</sup> **琵琶法師**』…<sup>(4)</sup> **兼好法師**によって語り伝えられた。・『<sup>(5)</sup> **徒然草**』…<sup>(6)</sup> **兼好法師**の著した随筆。(2) 建築・美術…<sup>(7)</sup> **東大寺南大門**には<sup>(8)</sup> **運慶・快慶**らによる金剛力士像がある。

① (7) 金剛力士像

(3) 新しい仏教…わかりやすく、難しい修行が不要なため武士や庶民に広まった。

	宗 派	開 祖	教え・特色	
念仏宗	(8) 浄土宗	(9) 法然	念仏を唱え、阿彌陀仏にすがれば、極楽往生ができる	新仏教の先駆け
	(10) 浄土真宗 〔一向宗〕	(11) 親鸞		悪人こそ救われる
	(12) 時 宗	(13) 一遍		踊念仏で布教
(14) 日蓮宗〔法華宗〕	(15) 日蓮	題目を唱えれば人も国家も救われる 他宗を激しく非難する		
禅宗	(17) 臨済宗	(18) 栄西	宋から伝わった座禅を行い、自力で悟る	幕府の保護を受ける
	(19) 曹洞宗	(20) 道元		権力をきらう

(4) 民衆の生活の変化

・農業の進歩…牛や馬の利用、鉄製の農具、米と麦を交互につくる<sup>(21)</sup> **二毛作**が始まる。・商業の発展…寺社の門前や交通の要所に<sup>(22)</sup> **定期市**が開かれる。

## Warm Up

(1) 鎌倉文化の特徴を「武士」という言葉を用いて説明しなさい。

(2) 鎌倉時代には新しい仏教が生まれた。次の①、②はどの宗派の教えか答えなさい。

① 念仏を唱えて阿彌陀仏にすがれば、悪人こそ救われて極楽往生できる。

② 題目を唱えれば人も国家も救われる。

## 解説

(1) (例) 力をつけた武士の好みを反映した、素朴で力強い文化。

(2) 鎌倉仏教はキーワードで区別する。

「念仏」「阿彌陀仏」	{	「悪人」……………浄土真宗〔一向宗〕(親鸞)
		「踊念仏」……………時宗(一遍)
		どちらもない…浄土宗(法然)

「題目」……………日蓮宗〔法華宗〕(日蓮)

「座禅」……………	{	「幕府の保護」…臨済宗(栄西)
		なし……………曹洞宗(道元)

したがって、答えは ① 浄土真宗〔一向宗〕 ② 日蓮宗〔法華宗〕

## Try

## 1 次の各問いに答えなさい。

- (1) 念仏を唱えれば救われると説き、鎌倉時代の新しい仏教の先がけとなる宗派を開いたのはだれか。
- (2) (1)の人物によって開かれた宗派を何というか。
- (3) 題目を唱えれば人も国家も救われると説いたのはだれか。
- (4) (3)の人物が開いた宗派を何というか。
- (5) 座禅によって自ら悟ると教え、曹洞宗を伝えたのはだれか。
- (6) 座禅によって自ら悟ると教え、栄西が伝えた宗派を何というか。
- (7) 曹洞宗と(6)の宗派をまとめて何というか。
- (8) 平家一門の盛衰をえがいた物語を何というか。
- (9) (8)の物語を語り伝えた人々を何というか。
- (10) 鎌倉時代に始まった、1年に米と麦を交互につくる農法を何というか。
- (11) 鎌倉時代には寺社の門前などで何が始まったか。

## 1

(1)	
(2)	
(3)	
(4)	
(5)	
(6)	
(7)	
(8)	
(9)	
(10)	
(11)	

## 2 次の文は修学旅行で東大寺南大門を訪れた2人の会話である。これを読んで、あとの各問いに答えなさい。

安田君：これは（ ① ）だね。（ ② ）が中心となってつくったんだ。

西村君：すごい筋肉だね。鎌倉文化は  文化だからね。

安田君：東大寺は奈良時代につくられたんだけど、鎌倉時代には新しい仏教も生まれたよね。

- (1) 右の写真は安田君と西村君が見ている仏像である。①、②にあてはまる言葉を、それぞれ答えなさい。
- (2) 文中の  にあてはまるように、鎌倉文化の特徴を簡潔に説明しなさい。
- (3) 文中の下線部について、次の①～③の宗派にあてはまる開祖と特色を、それぞれ選びなさい。

① 浄土真宗 ② 時宗 ③ 曹洞宗

【開祖】

ア 親鸞 イ 法然 ウ 道元 エ 栄西 オ 一遍

【特色】

- ア 念仏を唱えて阿弥陀仏にすがれば、悪人こそ救われると説く。
- イ 題目を唱えれば人も国家も救われると主張する。
- ウ 座禅を行うことで、自分自身で悟りを開こうとする。
- エ 踊念仏をとおして布教を行う。



## 2

(1)	①		
	②		
(2)			
(3)		開祖	特色
	①		
	②		
	③		



## Exercise

1 P.42の **Point!** を赤シートでかくして、番号順にノートにテストしなさい。

2 次の各問いに答えなさい。

- (1) 鎌倉時代に東大寺南大門につくられた右の写真の木像は何とよばれるものか。また、作者を次のア～エから1つ選び、記号で答えなさい。



ア 運慶    イ 一遍    ウ 鑑真    エ 最澄

- (2) 鎌倉文化の特色を次のア～エから1つ選び、記号で答えなさい。

ア 唐や西アジアの影響を受けた、国際色豊かな文化。  
 イ 新興の武士階級の好みを反映した、素朴で力強い文化。  
 ウ 日本ではじめて生まれた仏教文化。  
 エ 日本の風土や生活と合った独自の文化。

- (3) 鎌倉時代の仏教について、右の資料のA～Eにあてはまる語句を下から1つずつ選んで答えなさい。

親鸞    空海    日蓮    曹洞  
 天台    時    浄土    臨済  
 真言

宗派名	開祖
A宗	法然
浄土真宗	B
C宗	一遍
D宗	栄西
E宗	道元

- (4) 鎌倉時代の仏教について述べた次の文の□にあてはまる内容を「修行」という語句を使って答えなさい。

それまでの仏教は、山奥の寺できびしい修行を行っていた。一方で鎌倉時代の仏教は、□ことから、武士や庶民に広まった。

- (5) 兼好法師によって書かれた随筆は何か。

3 鎌倉時代の民衆の生活について、次の文章の①～③にあてはまる語句を語群から選び記号で答えなさい。

鎌倉時代には、同じ土地で1年間に米と麦などを作る（①）が行われるようになった。また、農作業では牛馬や（②）製の農具などが使用され、肥料も工夫されるようになった。寺社の門前や交通の要地では、（③）が開かれた。

ア 荘園    イ 二毛作    ウ 三毛作    エ 定期市    オ 鉄  
 カ 口分田    キ 木    ク 青銅    ケ 二期作

2

(1)	作品名	
	作者	
(2)		
(3)	A	
	B	
	C	
	D	
	E	
(4)		
(5)		

3

①	
②	
③	


## 3-4

## 元寇と鎌倉幕府の滅亡

映像との対応 / 歴史「元寇と鎌倉幕府の滅亡」

## Point!

- (1) <sup>(1)</sup> モンゴル帝国 … <sup>(2)</sup> チンギス・ハン がモンゴル高原の諸民族を統一して建国。  
 5代目の <sup>(3)</sup> フビライ・ハン は都を大都（現在の北京）に移し、国号を <sup>(4)</sup> 元 とした。フビライ・ハンに仕えたイタリア人 <sup>(5)</sup> マルコ・ポーロ は『東方見聞録』で日本を「黄金の国ジパング」と紹介している。
- (2) <sup>(6)</sup> 元寇 … 元軍が2度にわたり九州北部を襲来したこと（1274年文永の役、1281年弘安の役）。当時の執権は、<sup>(7)</sup> 北条時宗 。
- ① 結果…元軍の火器〔火薬〕・集団戦法に苦しめられるが、元軍は暴風雨などで大打撃を受けて退却。
- ② 御家人の不満…防衛戦だったため、幕府は御家人に <sup>(8)</sup> 十分な恩賞をあたえられなかった。
- (3) 鎌倉幕府の衰退と滅亡
- ① <sup>(9)</sup> 徳政令 … 1297年に幕府が出した、借金を帳消しにし、売った土地を無償で取り返させる法令。  
 【目的】：元寇の恩賞不足や分割相続による御家人の生活苦を救済するため。
- ② 鎌倉幕府の滅亡… <sup>(10)</sup> 後醍醐天皇 が朝廷に実権を取り戻そうとして挙兵。1333年に幕府は滅亡。
- (4) <sup>(11)</sup> 建武新政 … 1333年に後醍醐天皇が自ら政治を行うことを始めた。公家重視の政治であったため、武士の不満が高まった。



① 蒙古襲来絵詞…右側が日本の武士。

## Warm Up

元寇について、次の各問いに答えなさい。

- (1) 元寇後、御家人の不満が高まったが、これはなぜか。
- (2) 鎌倉幕府は元寇の後、御家人の借金を帳消しにし、売った土地を取り返させる徳政令を出した。それはなぜか説明しなさい。

## 解説

- (1) 元寇は防衛戦であり、新しく領地を得ることができず、御家人に対して十分な恩賞をあたえられなかった。これが原因で御家人の不満が高まった。  
(例) 十分な恩賞があたえられなかったから。
- (2) 御家人の生活苦を救うためだが、生活苦の理由には、「元寇の恩賞がもらえなかったため」の他に「分割相続（兄弟で親の土地を分け合う習慣）」が考えられる。  
(例) 元寇の恩賞の不足や分割相続による、御家人の生活苦を救済するため。

## Try

## 1 次の各問いに答えなさい。

- (1) 1206年、モンゴル高原を統一して国家を建設した人物はだれか。
- (2) モンゴル帝国の国号を改め、都を大都に移した人物はだれか。
- (3) (2)の人物は、国号を何と定めたか。
- (4) (2)の人物に仕え、『東方見聞録』を著した人物はだれか。
- (5) (3)の軍が2度にわたり九州北部に襲来したできごとを何というか。
- (6) (5)の当時の鎌倉幕府の執権はだれか。
- (7) 鎌倉幕府の滅亡後、自ら政治を行った天皇はだれか。
- (8) (7)の天皇が行った政治を何というか。

## 1

(1)	
(2)	
(3)	
(4)	
(5)	
(6)	
(7)	
(8)	

## 2 年表を見て、次の各問いに答えなさい。

- (1) 年表中の **a**、**b** にあてはまる言葉を答えなさい。

年代	できごと
1206	チンギス・ハンが ( <b>a</b> ) 帝国を築く
1274	文永の役がおこる
1281	弘安の役がおこる
1333	鎌倉幕府が滅びる
〃	( <b>b</b> ) が建武の新政を始める

- (2) 年表中の **A** のできごとに関係のある中国の国名を、次の **A**～**E** から1つ選び、記号で答えなさい。

**A** 元   **I** 漢   **ウ** 隋   **E** 宋

- (3) 年表中の **A** について、この時の日本の執権を答えなさい。
- (4) 年表中の **A** の後、幕府から徳政令が出された理由として、誤っているものを **A**～**ウ** から1つ選び、記号で答えなさい。  
**A** 御家人は、**A** で戦ったが恩賞を得られず、生活が苦しくなっていたから。  
**I** **A** の戦いにより多くの御家人が領地を失ったから。  
**ウ** 兄弟で親の土地を分け合う習慣があり、貧しい御家人が増えていたから。

## 2

(1)	<b>a</b>	
	<b>b</b>	
(2)		
(3)		
(4)		



## Exercise

**1** P.45の **Point!** を赤シートでかくして、番号順にノートにテストしなさい。


**2** 年表を見て、次の各問いに答えなさい。

年代	おもなできごと
1206	( ① ) がモンゴル高原を統一する
1271	モンゴル帝国が国号を ( ② ) と改める
1274	文永の役……………A
1281	弘安の役……………B
1333	( ③ ) 幕府が滅びる
〃	( ④ ) の新政が始まる……………C

- (1) 年表中の①～④にあてはまる語句を答えなさい。
- (2) ②の国号に定めた人物はだれか。
- (3) 年表中のA、Bを合わせて何というか。
- (4) (3)の後、御家人の幕府への不満が高まった。その理由を答えなさい。
- (5) 年表中のA、Bの後、生活苦の御家人を救うために出された法令を何というか。
- (6) Cの新政を行った天皇はだれか。

**3** 次の各問いに答えなさい。

- (1) 次の図は「蒙古襲来絵詞」である。下の各問いに答えなさい。



- ① 元軍はA、Bのどちらか。
  - ② 元軍は1274年、1281年の2度にわたって日本に襲来した。これらの襲来を何というか。
  - ③ このときの幕府の執権はだれか。
- (2) この元軍との戦いの後、鎌倉幕府は徳政令を出した。それはなぜか。「分割相続」という語句を使って、説明しなさい。

**2**

(1)	①	
	②	
	③	
	④	
(2)		
(3)		
(4)		
(5)		
(6)		

**3**

(1)	①	
	②	
	③	
(2)		

## 3-5

## 室町幕府の成立と都市の発達

映像との対応 / 歴史「室町幕府の成立と都市の発達」

## Point!

- (1) 南北朝の動乱〔内乱〕…建武の新政に対する武士の不満をうけて<sup>(1)</sup> **足利尊氏**が兵をあげる。  
<sup>(2)</sup> **後醍醐天皇**は吉野（奈良県）に逃れ、建武の新政は2年余りで失敗に終わった。

- ① <sup>(3)</sup> **南朝**…後醍醐天皇が吉野に朝廷を移す。  
 ② <sup>(4)</sup> **北朝**…足利尊氏が京都に別の天皇をたて、征夷大將軍に任じられて幕府を開く。

- (2) <sup>(5)</sup> **室町幕府**の成立…1338年、**足利尊氏**が開いた。

- ① <sup>(6)</sup> **管領**…將軍の補佐役。  
 ② <sup>(7)</sup> **鎌倉府**…東国10か国を支配するために置かれた役所。

- (3) <sup>(10)</sup> **守護大名**の誕生…守護が莊園や公領を侵略し、一国を支配。  
 (4) <sup>(11)</sup> **足利義満**…3代將軍。京都の室町に幕府を移す。南北朝を統一。  
 (5) 東アジアとの交流

- ① 14世紀になると元が国内の混乱でおとろえ、漢民族によって<sup>(12)</sup> **明**が建国された。  
 ② <sup>(13)</sup> **倭寇**…中国や朝鮮の沿岸で海賊行為を行った。  
 ③ <sup>(14)</sup> **勘合貿易**〔**日明貿易**〕の開始…1404年に足利義満が始めた貿易。  
<sup>(15)</sup> **正式な貿易船であることを証明する**ため、<sup>(16)</sup> **勘合**という合い札を用いた。

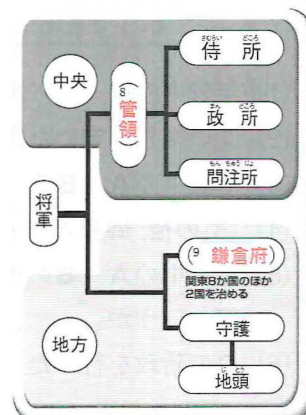
- ④ 朝鮮半島…14世紀末に李成桂が高麗を滅ぼして<sup>(17)</sup> **朝鮮(国)**を建国した。  
 ⑤ 琉球…15世紀初めに尚氏が沖縄島を統一し<sup>(18)</sup> **琉球王国**を建てる。

琉球王国は日本や中国、朝鮮半島、東南アジアとの<sup>(19)</sup> **中継貿易**で栄えた。

- ⑥ アイヌ…アイヌ民族は本州の人々との交易に不満を持ち、15世紀に<sup>(20)</sup> **コシャマイン**を中心に戦いをおこした。

- (6) 産業の発達

- ① 農業…米と麦の二毛作が各地に広がる。<sup>(21)</sup> **堆肥**などが使用されはじめ、収穫高が増加した。  
 ② 商業…定期市が発達し、貨幣の流通が盛んになった。商工業者の同業者組合である<sup>(21)</sup> **座**も発達し、<sup>(22)</sup> **土倉**、<sup>(23)</sup> **酒屋**などの高利貸し（お金の貸し付けを行う業者）も増えた。  
 ③ 運送業…船で物を輸送する<sup>(24)</sup> **問**、馬で輸送する<sup>(25)</sup> **馬借**の活動が盛んになった。



① 室町幕府のしくみ

## Warm Up

室町時代の日本と明の貿易では、右の勘合とよばれる合い札が使われた。その理由を簡潔に説明しなさい。

## 解説

当時、日本人や日本人を装った倭寇が海賊行為を行っていた。足利義満はこれを禁じ、正式な貿易船には勘合の片側を持たせた。

明側が反対側を持っており、ぴったり合うかどうかで正式な貿易船かどうかを判断できた。

(例) 正式な貿易船であることを証明するため。

勘合

勘合

## Try

## 1 次の各問いに答えなさい。


- (1) 建武の新政に対する武士たちの不満をうけ、兵をあげたのはだれか。
- (2) 1338年に(1)の人物が開いた幕府を何というか。
- (3) 守護が荘園や公領を侵略し、一国を支配するようになっていったが、このような守護を何というか。
- (4) (2)の幕府の3代将軍はだれか。
- (5) (2)の幕府で、将軍の補佐役を担った役職は何か。
- (6) 中国や朝鮮の沿岸で海賊行為を行った集団を何というか。
- (7) (4)の人物が中国との貿易で使用した合い札を何というか。
- (8) 李成桂が高麗を滅ぼして建国した国は何か。
- (9) 琉球王国はどのような貿易を行うことで栄えたか。
- (10) 本州の人々との交易への不満から戦いをおこした、アイヌ民族の首長は誰か。
- (11) 室町時代の商工業者の同業者組合を何というか。
- (12) 室町時代の高利貸しの名前を2つ答えなさい。
- (13) 室町時代の運送業者の名前を2つ答えなさい。

## 1

(1)	
(2)	
(3)	
(4)	
(5)	
(6)	
(7)	
(8)	
(9)	
(10)	
(11)	
(12)	
(13)	

## 2 室町時代の貿易や産業について、次の各問いに答えなさい。

- (1) 右の資料は日本と明との交易で使用されていた合い札である。
  - ① この合い札の名前から、日明貿易はまた何とよばれているか。
  - ② なぜこの合い札が使用されたのか、説明しなさい。



## 2

(1)	①	
	②	
(2)		

- (2) 室町時代の産業について述べたア～エのうち正しいものを1つ選び、記号で答えなさい。
  - ア 農業では二期作がさらに広がった。
  - イ 商工業者の同業者組合である問が発達した。
  - ウ 馬で輸送する馬借の活動が盛んになった。
  - エ 定期市が発達し、管領などの高利貸しもあらわれた。



## Exercise

**1** P.48の **Point!** を赤シートでかくして、番号順にノートにテストしなさい。

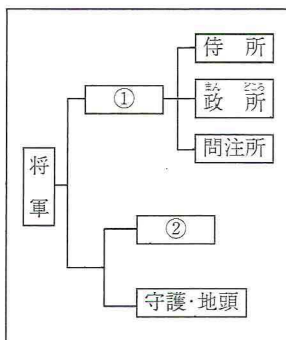
**2** 次の各問いに答えなさい。

- (1) 南北朝の動乱について説明した下の文章の、①～⑤にあてはまる語を答えなさい。

( ① ) に対する武士の不満を受けた足利尊氏が兵をあげ、(①)はわずか2年で崩壊した。後醍醐天皇は吉野に逃れ、その朝廷は( ② ) とよばれた。これに対して足利尊氏は京都に別の天皇を立てた。この朝廷を( ③ ) とよび、2つの朝廷が対立する南北朝時代は以後50年以上続いた。

足利尊氏は1338年に征夷大將軍に任じられ( ④ ) を開いたが、その3代將軍である( ⑤ ) が南北朝を統一し、南北朝時代は終わった。

- (2) 室町幕府のしくみを示した次の図の①・②にあてはまる語句を答えなさい。



- (3) 室町時代の商工業について、次の①～③の文が表すものをそれぞれ答えなさい。

- ① 馬を用いて荷物を運ぶ業者  
 ② 港町で船を用いて荷物を運ぶ業者  
 ③ 商工業者の同業者組合

**3** 次の①～④が説明しているものを、下の語群から選びなさい。

- ① 正式な貿易船であることを証明するために合い札を用いて行った貿易  
 ② 琉球王国が行っていた貿易  
 ③ 李成桂によって建国された朝鮮半島の国  
 ④ ①の貿易を行っていた国

中継貿易	日宋貿易	勘合貿易
明	朝鮮国	宋

**2**

(1)	①	
	②	
	③	
	④	
	⑤	
(2)	①	
	②	
(3)	①	
	②	
	③	

**3**

①	
②	
③	
④	

## 3-6

## 戦乱と文化

映像との対応 / 歴史「戦乱と文化」

## Point!

## (1) さまざまな一揆

- ① <sup>(1)</sup> <sup>しょうちょう</sup>正長の土一揆…1428年、借金の帳消しなどを求めて、土倉などを襲った一揆。
- ② <sup>(2)</sup> <sup>やましろうくにいつき</sup>山城の国一揆…1485年、武士や農民らが畠山氏を追放し、8年間自治を行った。
- ③ <sup>(3)</sup> <sup>いっこう</sup>加賀の一向一揆…1488年、浄土真宗〔一向宗〕の信徒らが守護大名を滅ぼし、約100年間の自治を行った。

(2) <sup>(4)</sup>応仁の乱…1467年、8代将軍<sup>(5)</sup> <sup>あしかがよしまさ</sup>足利義政のときにおこり、京都を中心に約11年間続いた。

- ① 影響…100年ほど戦乱の世が続き、幕府は無力化した。
- ② <sup>(6)</sup>戦国大名の登場…<sup>(7)</sup> <sup>げこくじょう</sup>下剋上の世の中になり、実力のある者が守護大名を滅ぼした。
- ・下剋上…<sup>(8)</sup> **実力のある者が上の身分の者に打ち勝つ**風潮。
  - ・<sup>(9)</sup> <sup>ぶんこくほう</sup>分国法…戦国大名が自分の領国を治めるために定めた法令。家臣や農民を統制。

一、けんかをしたときは、理非を問わず両方罰すること。

一、許しを得ないで、他国に手紙を出してはならない。

(武田氏・甲州法度之次第)

⑩ <sup>(10)</sup>分国法の例

## (3) 室町文化…公家と武家の文化が融合した、簡素で深みのある文化。

- ① <sup>(11)</sup>金閣…3代将軍足利義満が京都の北山に建てた別荘。
- ② <sup>(12)</sup>銀閣…8代将軍足利義政が京都の東山に建てた別荘。
- ・畳、ふすま、床の間などを用い、現代の和風建築の基礎となった<sup>(13)</sup> <sup>しやういんつくり</sup>書院造が広まった。
- ③ <sup>(14)</sup> <sup>ざるがくでんがく</sup>能〔能楽〕…猿楽や田楽をもとにした芸能。<sup>(15)</sup> <sup>かんあみぜあみ</sup>観阿弥・世阿弥親子が大成。
- ④ <sup>(16)</sup> <sup>すいぼくが</sup>水墨画…<sup>(16)</sup> <sup>せつしゅう</sup>雪舟が墨一色で自然をえがき、日本の水墨画を大成。

## Warm Up

資料Ⅰ、Ⅱを見て、次の各問いに答えなさい。


(1) 資料Ⅰは足利義満の建てた別荘である。何という建築物か。

資料Ⅰ



(2) 資料Ⅱは足利義政の建てた別荘の敷地内にある部屋である。この部屋に見られる建築様式を何というか。

資料Ⅱ



## 解説

(1) 足利義満の別荘…金閣

足利義政の別荘…銀閣 したがって、答えは 金閣。

(2) 写真から「畳」「ふすま」「床の間」が確認できる。これらは現代の和風建築のもととなった書院造の特徴である。

書院造

## Try

## 1 次の各問いに答えなさい。


- (1) 1428年に借金の帳消しを求めておこった民衆の暴動を何というか。
- (2) 1485年に武士や農民らが一体となって守護大名の支配に対抗した一揆を何というか。
- (3) 1467年から約11年間続いた戦乱を何というか。
- (4) 実力のある者が上の身分の者に打ち勝つ風潮を何というか。
- (5) (4)の風潮のなかから登場した、幕府の権威によらずに自分の実力で領国を支配する領主を何というか。
- (6) (5)が自分の領国を治めるために独自に定めた法令を何というか。
- (7) 室町幕府の3代将軍が京都の北山の別荘に建てたものは何か。
- (8) 室町幕府の8代将軍が京都の東山の別荘に建てたものは何か。
- (9) (8)の一部にも取り入れられた、15世紀後半を代表する建築様式を何というか。
- (10) 日本の水墨画を大成した人物はだれか。
- (11) 猿楽などをもとに大成された芸能を何というか。
- (12) (11)を大成した人物を2人答えなさい。

## 1

(1)	
(2)	
(3)	
(4)	
(5)	
(6)	
(7)	
(8)	
(9)	
(10)	
(11)	
(12)	

## 2 次の各問いに答えなさい。

- (1) 右の写真は、銀閣と同じ敷地にある東求堂同仁齋の内部である。写真に見られるような、畳がしかれ、床の間が設けられるなど、寺院の様式を武家の住居に取り入れた建築の様式は、何とよばれるか、その名称を書きなさい。



- (2) 足利義満のころの文化を代表する建造物を、次のア～エから1つ選び、記号で答えなさい。

ア



イ



ウ



エ



- (3) 次のア～エから、室町時代の説明として誤っているものを選びなさい。

ア 応仁の乱によって京都が荒廃したが、乱後、幕府の勢力は拡大した。

イ 公家と武家の文化が融合した文化が広がった。

ウ 守護大名などの支配者層が追放される一揆が起こった。

エ 実力者が上の身分の者に打ち勝つ下剋上の風潮が広がった。

## 2

(1)	
(2)	
(3)	





## 4-1

## イスラム教とヨーロッパ諸国の発展

映像との対応 / 歴史「イスラム教とヨーロッパ諸国の発展」

## Point!

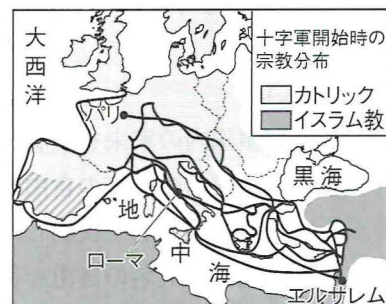
- (1) <sup>(1)</sup> **イスラム教** …メッカの大商人ムハンマドが開いた。  
 ・ <sup>(2)</sup> **十字軍** の遠征… <sup>(3)</sup> **ローマ教皇 [法王]** (カトリック教会の長) の呼びかけにより、イスラム教徒から <sup>(4)</sup> **聖地エルサレムを取り戻すため** に十字軍を派遣。遠征は失敗し、教皇の権威はおとろえ、財政も苦しくなった。
- (2) <sup>(5)</sup> **ルネサンス [文芸復興]** …人間の個性や自由を重視する古代ギリシャ・ローマの文芸を見直し、復興する動きのこと。14世紀の <sup>(6)</sup> **イタリア** で始まり、ヨーロッパ各地に広がった。  
 ・ 文芸, 芸術, 天文学などが発展。  
 ・ <sup>(7)</sup> **レオナルド・ダ・ビンチ** …肖像画「モナ・リザ」  
 ・ 中国から火薬, <sup>らしんばん</sup> 羅針盤, <sup>かっぱんいんさつ</sup> 活版印刷が伝えられた。
- (3) <sup>(8)</sup> **宗教改革** …キリスト教の本来の精神に戻ろうとする運動。財政難のため <sup>(9)</sup> **免罪符** を販売するローマ教皇に対し、ドイツ人神父の <sup>(10)</sup> **ルター** が抗議して始まった。フランスやスイスでは <sup>(11)</sup> **カルバン** が展開した。  
 ① <sup>(12)</sup> **プロテスタント** …宗教改革により生まれた新しい教え。旧来の教えの <sup>(13)</sup> **カトリック** と対立した。  
 ② <sup>(14)</sup> **イエズス会** … <sup>(15)</sup> **フランシスコ・ザビエル** らによって設立され、宣教師を海外に派遣してカトリックの布教に努めた。

## Warm Up

- (1) 右の資料中の ——— はローマ教皇の呼びかけで行われた十字軍の遠征の進路である。この遠征は何のために行われたか、説明しなさい。
- (2) イエズス会は宣教師をアジアなどに派遣して布教を行った。これは何のためか。「宗教改革」という言葉を使って説明しなさい。

## 解説

- (1) 資料中にエルサレムがあることに注意。エルサレムはイエス・キリストが亡くなったとされている土地であり、キリスト教にとって重要な聖地だった。  
 (例) 聖地エルサレムをイスラム教徒から取り戻すため。
- (2) カトリックは西ヨーロッパで唯一のキリスト教会だったが、宗教改革によって、勢力をプロテスタントと分け合うことになった。その勢力回復のためにアジアやアフリカへの積極的な布教を行った。  
 (例) 宗教改革で失った勢力をアジアで確保するため。



## Try

## 1 次の各問いに答えなさい。

- (1) ムハンマドが開いた宗教は何か。
- (2) ローマ教皇の呼びかけにより、聖地エルサレムを(1)の信徒から取り戻すために派遣された遠征軍を何というか。
- (3) 14世紀に始まった、古代ギリシャ・ローマの文芸を見直し、復興する動きのことを何というか。
- (4) (3)の動きが最初におこった国はどこか。
- (5) 「モナ・リザ」の作者はだれか。
- (6) 財政難のため、ローマ教皇は何を販売して資金を集めていたか。
- (7) (6)の販売などに抗議して、ドイツで宗教改革を始めた人物はだれか。
- (8) フランスやスイスで宗教革命を展開したのはだれか。
- (9) 宗教改革によって生まれたキリスト教の新しい宗派を何というか。
- (10) (9)に対し、従来のキリスト教の宗派を何というか。
- (11) (10)の宗派は改革を進めるとともに、海外への布教に努めた。この活動の中心となった修道会は何か。
- (12) (11)の修道会を設立した宣教師の1人で、後に日本にも来た人物はだれか。

## 1

(1)	
(2)	
(3)	
(4)	
(5)	
(6)	
(7)	
(8)	
(9)	
(10)	
(11)	
(12)	

## 2 キリスト教世界と外の世界に関する、次の各問いに答えなさい。

- (1) 11世紀に十字軍が派遣されたころ、下の資料中のA・Bの地域においても信仰されていた宗教・宗派を、次から1つずつ選びなさい。

カトリック    イスラム教    仏教    プロテスタント

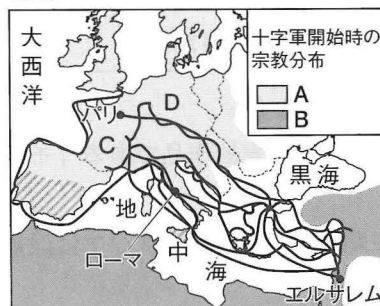
- (2) 資料中の——は、十字軍の遠征の進路である。この遠征を行った目的を答えなさい。

資料

- (3) 資料中のC・Dの国で主におこった、ローマ教皇の方針を批判し、聖書にもとづく信仰をめざした動きを何というか答えなさい。

- (4) (3)の中心を担ったドイツ人はだれか答えなさい。

- (5) (3)の動きを受けて、イエズス会がアジアなどに宣教師を派遣した目的を説明しなさい。



## 2

(1)	A	
	B	
(2)		
(3)		
(4)		
(5)		



## Exercise

1 P.54の **Point!** を赤シートでかくして、番号順にノートにテストしなさい。

2 年表を見て、各問いに答えなさい。

年代	できごと
1096	( ① ) の呼びかけで聖地を取り戻すため ( ② ) の遠征が始まる
14～16世紀	( ③ ) から始まったルネサンスがヨーロッパに広まる ( ① ) が ( ④ ) の販売を始める
1517	( ⑤ ) がドイツで宗教改革を始める
1534	イエズス会が結成される

- (1) 年表中の①～⑤にあてはまる語句を答えなさい。  
 (2) 年表中の下線部について、この会に属し、アジアへの布教を行った右の資料の人物は誰か、答えなさい。



2

(1)	①	
	②	
	③	
	④	
	⑤	
(2)		

3 次の文章を読んで、各問いに答えなさい。

中世ヨーロッパではキリスト教は ( ① ) を頂点とするカトリック教会と、ビザンツ帝国と結びついた正教会に分かれていた。( ① ) はキリスト教の聖地エルサレムを ( ② ) 教の勢力から奪還するために十字軍を組織した。エルサレムの奪還には失敗したが、東方との交流がさかんになり、a ルネサンス が花開いた。

また、西ヨーロッパでは ( ① ) の権威に ( ③ ) (ドイツ) や ( ④ ) (スイス) が反対する ( ⑤ ) がおこり、プロテスタントというキリスト教の新宗派が生まれた。カトリック側でもプロテスタントに対抗して b イエズス会 が結成された。

- (1) ①～⑤にあてはまる語句を書きなさい。  
 (2) 下線部 a についてルネサンスの代表的作品である「モナ・リザ」はだれの作品か。  
 (3) 下線部 b について、イエズス会が宣教師をアジアに派遣した目的を説明しなさい。

3

(1)	①	
	②	
	③	
	④	
	⑤	
(2)		
(3)		

## 4-2

## ヨーロッパ諸国の海外進出と日本への来航

映像との対応 / 歴史「ヨーロッパ諸国の海外進出と日本への来航」

## Point!

(1) 大航海時代…<sup>(1)</sup> **スペイン**, **ポルトガル** がアジアへの新航路を開拓。イスラム教徒が仲介していたため高価だった<sup>(2)</sup> **香辛料** を直接入手することが目的。

(2) 新航路の開拓

① <sup>(3)</sup> **コロンブス** …1492年, スペインの援助を受け西インド諸島に到達。アメリカ大陸発見につながる。② <sup>(4)</sup> **バスコ・ダ・ガマ** …1498年, アフリカ南端の喜望峰を経由しインドに到達。ポルトガル人。③ <sup>(5)</sup> **マゼラン**…1522年, 部下が初の<sup>(6)</sup> **世界一周** に成功。

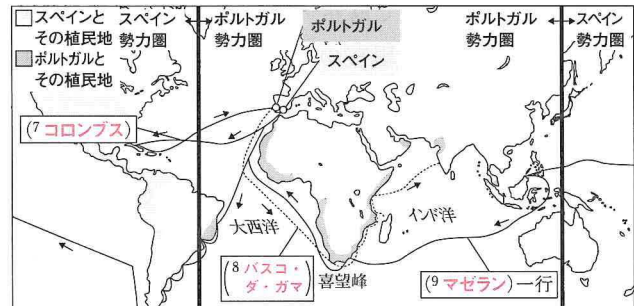
(3) アメリカ大陸の文明と植民地化

・14～16世紀のアメリカ大陸には, 現在のメキシコにアステカ王国, ペルーなどに

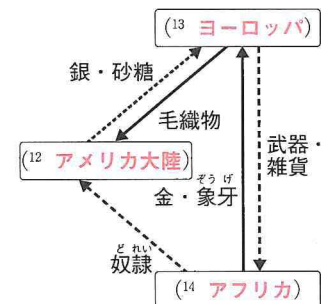
<sup>(10)</sup> **インカ帝国** が栄えていた。<sup>(11)</sup> **スペイン** 人はこれらの国を滅ぼし, 植民地化した。

(4) 大西洋の三角貿易…ヨーロッパ, アフリカ, アメリカ大陸間で貿易が行われた。

(5) 日本への来航

① <sup>(15)</sup> **鉄砲** の伝来…1543年, <sup>(16)</sup> **ポルトガル** 人が乗った船が<sup>(17)</sup> **種子島** に漂着。新しい武器として広まり, 堺 (大阪府) などで国内生産されるようになった。② キリスト教…1549年, 鹿児島に着いた<sup>(18)</sup> **イエズス会** の宣教師<sup>(19)</sup> **フランシスコ・ザビエル** によって伝えられた。キリスト教の信者をキリシタンといい, 大名の中には自ら信者になる<sup>(20)</sup> **キリシタン大名** もあらわれた。③ <sup>(21)</sup> **南蛮貿易** …南蛮人とよばれた<sup>(22)</sup> **ポルトガル人**, **スペイン人** と行った貿易。銀, 刀剣などを輸出し, 鉄砲, 火薬, ガラス製品などを輸入した。

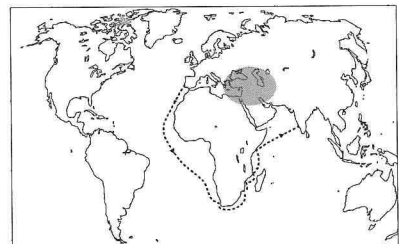
① 新航路の開拓



① 大西洋の三角貿易

## Warm Up

右の資料中の-----はバスコ・ダ・ガマの開拓した新航路である。ポルトガルやスペインは, なぜこのような航路を開拓しようとしたのか。資料中の●の地域がイスラム教徒の勢力下にあったことを参考に説明しなさい。



## 解説

アジア原産の香辛料は, イスラム教徒が仲介していたため高価だった。イスラム教徒の勢力範囲を経由せずに直接輸入するために, ヨーロッパ諸国は新航路を開拓しようとした。

(例) 香辛料をイスラム教徒の勢力圏を通らずに直接輸入するため。

## Try

## 1 次の各問いに答えなさい。

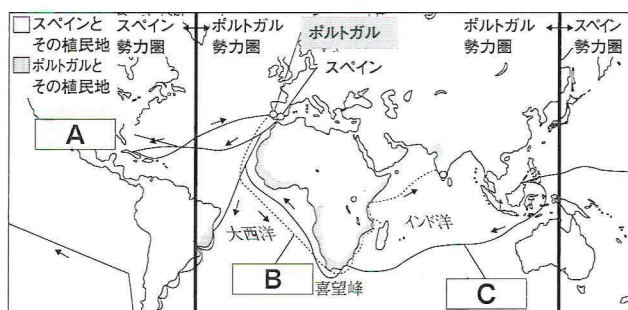
- (1) 調味料や薬として使用されていたアジアの特産物は何か。
- (2) 1492年に西インド諸島に到達した人物はだれか。
- (3) アフリカ大陸の南端を経由し、1498年にインドに到達した人物はだれか。
- (4) 1522年に初めて世界一周を達成した艦隊を率いていた人物はだれか。
- (5) 15～16世紀、現在のペルーなどに独自の文明を築いていた国を何と  
いうか。
- (6) (5)の国を征服して植民地としたのはどこの国の人々か。
- (7) 1543年に日本に伝わった武器は何か。
- (8) (7)を伝えたのはどこの国の人たちか。
- (9) (8)の人たちは、日本のどこに漂着したか。

## 1

(1)	
(2)	
(3)	
(4)	
(5)	
(6)	
(7)	
(8)	
(9)	

## 2 次の各問いに答えなさい。

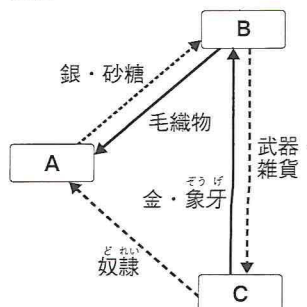
- (1) 次の地図のA～Cの航路を発見した人物として正しいものをア～エ  
から1つずつ選び、それぞれ記号で答えなさい。



ア マゼラン                      イ バスコ・ダ・ガマ  
ウ マルコ・ポーロ            エ コロンブス

- (2) このように新しい航路を開拓しようとした理由を「イスラム教徒」という言葉を使って説明しなさい。
- (3) 右の資料は大西洋における三角貿易を表している。A～Cにあてはまる語句として正しいものを、次のア～ウから1つずつ選び、記号で答えなさい。

ア アフリカ  
イ ヨーロッパ  
ウ アメリカ大陸



## 2

(1)	A	
	B	
	C	
(2)		
(3)	A	
	B	
	C	



## Exercise

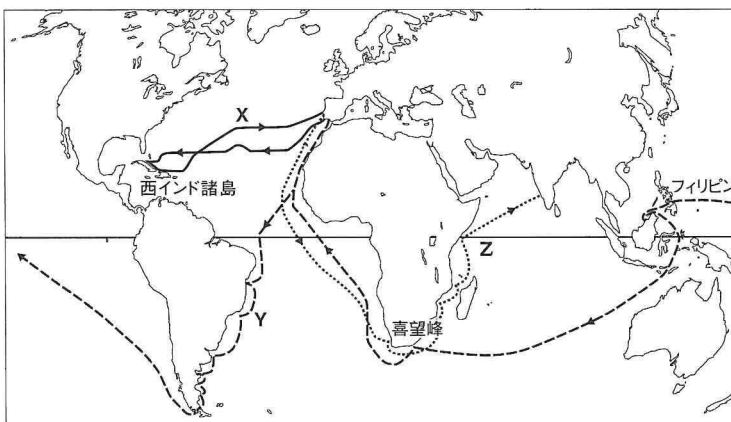
1 P.57の **Point!** を赤シートでかくして、番号順にノートにテストしなさい。

2 年表と資料を見て、各問いに答えなさい。

年表

年代	できごと
1492	Aが西インド諸島に到達する
1498	Bがインドに到達する
1522	Cの艦隊が世界一周を達成する
1534	Dが結成される
1543	Eに鉄砲が伝わる

資料



- 年表中のA～Cにあてはまる人物名を答えなさい。
- 資料のX～Zは年表中のA～Cのいずれかの航路である。A～Cの航路にあてはまるものをそれぞれ答えなさい。
- 年表中のDにはカトリック教会を改革するために結成された組織が入る。これは何か。
- 大航海時代に積極的に海外進出したヨーロッパの国を2つ答えなさい。
- 年表中のEにあてはまる場所を答えなさい。

3 次の各問いに答えなさい。

- 右の絵は日本にキリスト教を伝えた宣教師を示している。この宣教師の名前を答えなさい。
- (1)の人物はカトリック教会の何という会に所属していたか。
- 当時の大名には貿易の利益を期待してキリスト教徒になる者もいた。このような大名を何というか。
- ポルトガル人やスペイン人で行った貿易を何というか。



2

(1)	A	
	B	
	C	
(2)	A	
	B	
	C	
(3)		
(4)		
(5)		

3

(1)	
(2)	
(3)	
(4)	

## 4-3

## 信長・秀吉の統一事業

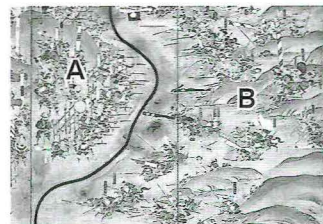
▶ 映像との対応 / 歴史「信長・秀吉の統一事業」

## Point!

- (1) <sup>(1)</sup> 織田信長 … <sup>おわり</sup> 尾張 (愛知県) の戦国大名。
- ① 1560年, <sup>(2)</sup> 桶狭間の戦い で <sup>(3)</sup> 今川義元 を破る。
- ② 比叡山の <sup>(4)</sup> 延暦寺 を焼き打ち。仏教勢力をおさえた。
- ③ 1575年, <sup>(5)</sup> 長篠の戦い で甲斐の武田氏を破る。<sup>(6)</sup> 鉄砲 を組織的に使った最初の戦い。
- ④ <sup>(7)</sup> 安土城 を琵琶湖 (滋賀県) のほとりに建築。天下統一の拠点になる。  
・ <sup>(8)</sup> 楽市・楽座 … 市場の税を免除し, 座の特権を廃止し, だれもが自由に商工業を営めるようにした。  
【目的】: <sup>(9)</sup> 商工業を発展させる) ため。
- ・ 関所を廃止し, 自由に人が移動できるようにした。
- ⑤ 1582年, <sup>(10)</sup> 本能寺の変 で家臣の <sup>(11)</sup> 明智光秀 に襲われ自害。
- (2) <sup>(12)</sup> 豊臣秀吉 … <sup>(13)</sup> 本能寺の変 の直後, <sup>(14)</sup> 明智光秀 を倒し, 織田信長の後継者になる。
- ① 1583年, <sup>(15)</sup> 大阪城 を築き, そこを拠点に1590年, 全国を統一。朝廷から <sup>(16)</sup> 関白 に任命される。
- ② <sup>(17)</sup> 太閤検地 … 「ものさし」や「ます」を統一し, 全国の田畑を調べ, 予想される収穫高を石高で表し, それを検地帳に記録。  
【目的】: 土地と農民を支配し, 年貢を確実に徴収するため。
- ③ <sup>(18)</sup> 刀狩 … 農民や寺院から武器を取り上げた。  
【目的】: <sup>(19)</sup> 農民の一揆を防ぎ, 田畑の耕作に専念させる) ため。  
<sup>(20)</sup> 兵農分離 が進み, 身分制度の基礎が固まった。
- ④ キリスト教の禁止…1587年, <sup>(21)</sup> バテレン追放令 を出し, 宣教師や信者を国外へ追放。
- ⑤ <sup>(22)</sup> 朝鮮 侵略…2度にわたって大軍を送った。

## Warm Up

右の資料には長篠の戦いでの武田軍と織田・徳川連合軍との様子がえがかれている。織田・徳川連合軍はA, Bのどちらか。また, なぜそう判断できるのか書きなさい。



## 解説

Aをよく見ると, 鉄砲隊を整列させて効率よく使用している様子が見える。

A 理由: (例) 鉄砲を組織的に効率よく使っているから。

## Try

## 1 次の各問いに答えなさい。

- (1) 1575年に織田信長が甲斐の武田氏を破った戦いを何というか。
- (2) 織田信長が仏教勢力をおさえるために焼き打ちにした寺はどこか。
- (3) 織田信長が琵琶湖のほとりに築いた城を何というか。
- (4) 織田信長は、だれもが自由に商工業を営めるよう、市場の税を免除して座の特権を廃止したが、この政策を何というか。
- (5) 豊臣秀吉が拠点とした城はどこか。
- (6) 豊臣秀吉が行った、全国の田畑を調べて収穫高を石高で表すなどした政策を何というか。
- (7) 豊臣秀吉が農民や寺院から武器を取り上げた政策を何というか。
- (8) (6)と(7)の結果、武士と農民の身分の区別が進んでいったが、これを何というか。
- (9) 豊臣秀吉が2度にわたって大軍を送ったのはどこか。

## 2 年表と資料を見て、各問いに答えなさい。

年代	ことがら
1560	桶狭間の戦い……………ア
1571	延暦寺焼き打ち……………イ
1575	長篠の戦い……………ウ
1582	本能寺の変……………エ
1587	キリスト教の宣教師を国外に追放……………A

## 資料1

織田信長が京都に攻めのぼろうとする今川義元を討った戦い。

## 資料2

- X** この町は、楽市としていいつけてあるのだから、税金も労役も全て免除する。(一部)
- Y** 諸国の百姓が、刀、わきざし、弓、槍、鉄砲、その他の武器を持つことを固く禁止する。(一部)

- (1) 資料1の説明に関係のあるものを年表中の**ア～エ**から1つ選び、記号で答えなさい。
- (2) 長篠の戦いにおいて、織田・徳川連合軍の戦い方の特徴を答えなさい。
- (3) 織田信長はだれの裏切りにより自害したのか。人物名を答えなさい。
- (4) 資料2の**X**と**Y**の政策名をそれぞれ答えなさい。
- (5) **Y**の政策は何を目的として行われたか。説明しなさい。
- (6) 年表中の**A**について、この法令を何というか。

## 1

(1)	
(2)	
(3)	
(4)	
(5)	
(6)	
(7)	
(8)	
(9)	

## 2

(1)					
(2)					
(3)					
(4)	<table> <tr><td>X</td><td></td></tr> <tr><td>Y</td><td></td></tr> </table>	X		Y	
X					
Y					
(5)					
(6)					

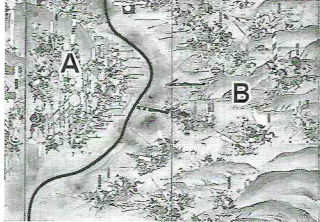


## Exercise

1 P.60の **Point!** を赤シートでかくして、番号順にノートにテストしなさい。

2 次の各問いに答えなさい。

資料1



資料2

一、この町全体に楽市をお命じになられたからには、いろいろの座の制約や税をかけることなどは、全部免除する。

資料3

諸国の百姓が刀やわきざし、弓、やり、鉄砲そのほかの武具を持つことは、かたく禁止する。

- (1) 資料1は織田・徳川の連合軍と甲斐の武田軍の戦いの様子を示している。AとBのうち、織田・徳川の連合軍はどちらか、記号で答えなさい。
- (2) 資料1の戦いとして正しいものを、次のア～エから選び、記号で答えなさい。  
 ア 桶狭間の戦い      イ 白村江の戦い  
 ウ 壇ノ浦の戦い      エ 長篠の戦い
- (3) 資料2の政策を何というか。
- (4) 織田信長が資料2の政策を行った目的を答えなさい。
- (5) 豊臣秀吉が行った、資料3の政策を何というか。
- (6) 資料3の政策は何を目的として実施されたのか。次のア～エからもっとも適当なものを選び、記号で答えなさい。  
 ア 商工業を発展させるため。  
 イ 仏教勢力をおさえるため。  
 ウ 農民が一揆をおこすのを防ぐため。  
 エ 田畑の収穫高を明確にするため。
- (7) 豊臣秀吉が行った、全国の田畑を調べ、収穫高を石高で表すことを定めた政策を何というか。
- (8) 資料3と(7)の結果、百姓と武士の身分の区別がはっきりしていくことになる。このことを何というか。

2

(1)	
(2)	
(3)	
(4)	
(5)	
(6)	
(7)	
(8)	

## 4-4

## 桃山文化

映像との対応 / 歴史「桃山文化」

## Point!

(<sup>1</sup> 桃山文化) …織田信長や豊臣秀吉の時代に栄えた、新興の大名や大商人の気風を反映した、豪華で雄大な文化。

- ① 建築… (<sup>2</sup> 天守) を持つ壮大な城 (安土城, 大阪城, 姫路城など)。  
 ② 絵画… (<sup>3</sup> 狩野永徳) の「(<sup>4</sup> 唐獅子図屏風)」など。  
 ③ 茶道… (<sup>5</sup> 千利休) がわび茶を完成した。  
 ④ 芸能… (<sup>6</sup> 阿国 [出雲の阿国]) がかぶき踊りを始めた。



⑦ (7) 姫路城



⑧ (8) 唐獅子図屏風



⑨ (9) 阿国 [出雲の阿国] のかぶき踊り



## Warm Up

右の資料は「唐獅子図屏風」である。これについて、次の各問いに答えなさい。

- (1) この作品の作者は誰か。次のア～エから選び、記号で答えなさい。

資料

ア 世阿弥 イ 狩野永徳 ウ 千利休 エ 雪舟

- (2) この作品に代表される桃山文化とはどのような文化か。もっとも適当なものを次のア～エから選び、記号で答えなさい。

ア 力をつけた武士の好みを反映した、素朴で力強い文化。  
 イ 大名や大商人の気風を反映した、豪華で雄大な文化。  
 ウ 唐や西アジアの影響を受けた、国際色豊かな文化。  
 エ 日本の風土や生活に合った貴族文化。



## 解説

- (1) イ

- (2) 「適当なもの」を選ぶ問題は、「間違っているもの」を消去して選ぶ。

ア…鎌倉文化についての説明

ウ…天平文化についての説明

エ…国風文化についての説明

したがって、答えは イ。

## Try

**1** 次の各問いに答えなさい。

- (1) 16世紀後半を中心に栄えた、新興の大名や大商人の気風を反映した、豪華で雄大な文化を何というか。
- (2) この時期に築かれた城には、高くそびえる何がつくられたか。
- (3) 弟子の狩野山楽とともに、はなやかな障壁画をえがいた狩野派の中心人物はだれか。
- (4) (3)の人物の代表的な作品を1つ答えなさい。
- (5) わび茶を完成した人物はだれか。
- (6) かぶき踊りを始めた女性はだれか。

**2** あとの問いに答えなさい。

- (1) 桃山文化について各問いに答えなさい。
  - ① 桃山文化はどのような特色を持った文化か。簡潔に説明しなさい。
  - ② 右の資料は、狩野永徳によってえがかれた桃山文化の代表的作品である。作品名を答えなさい。
- (2) 次の①・②にあてはまる人物名を答えなさい。
  - ① 質素なわび茶の作法を完成させた。
  - ② かぶき踊りを始めた。

**1**

(1)	
(2)	
(3)	
(4)	
(5)	
(6)	

**2**

(1)	①	
	②	
(2)	①	
	②	



## Exercise

1 P.63の **Point!** を赤シートでかくして、番号順にノートにテストしなさい。

2 次の文は姫路城を訪れた2人の生徒の会話である。これを読んで、あとの各問いに答えなさい。

黒田くん：**a** 姫路城はカッコいいね。

宮本さん：天守が立派ね。これは、西洋のお城を参考に、**b** 織田信長が初めて日本の建築に取り入れたんだって。

黒田くん：今まで歴史の時間に **c** いろんな文化について学んだけど、安土桃山時代以降は西洋の影響を受けているんだね。

宮本さん：**d** 現代まで受け継がれているものも多いわね。

(1) **a** について、次の **ア～エ** から姫路城を選び、記号で答えなさい。


ア




イ



ウ



エ



(2) **b** の織田信長や豊臣秀吉の時代に栄えた文化を何というか。

(3) **c** について、次の **ア～エ** から (2) の文化の特徴を述べたものを選び、記号で答えなさい。

**ア** 大名や大商人の気風を反映した、豪華で雄大な文化。

**イ** 日本の風土や生活に合った貴族文化。

**ウ** 力をつけた武士の好みを反映した、素朴で力強い文化。

**エ** 公家と武家の文化が融合した、簡素で深みのある文化。

(4) **d** について、右の資料は、現代まで受け継がれているある伝統芸能を始めた女性をえがいたものだといわれている。この女性の名前を答えなさい。



2

(1)

(2)

(3)

(4)

## 5-1

## 江戸幕府の成立

映像との対応 / 歴史「江戸幕府の成立」

## Point!

## (1) 成立

- ① 1600年、<sup>(1)</sup> 関ヶ原の戦い で <sup>(2)</sup> 徳川家康 が豊臣氏の家臣である <sup>(3)</sup> 石田三成 を破る。
- ② 1603年、<sup>(4)</sup> 徳川家康 が征夷大將軍となり、江戸（東京都）に幕府を開く。
- ③ 1614, 1615年の2度にわたる <sup>(5)</sup> 大阪の陣 で <sup>(6)</sup> 豊臣氏 を滅ぼす。

## (2) 江戸幕府の全国支配

- ① 約400万石の直轄地と旗本・御家人の領地の計約700万石（全国の約4分の1）を支配。
- ② 京都や大阪などの重要都市や佐渡金山（新潟県）などの主要鉱山を直接支配した。
- (3) <sup>(7)</sup> 大名 …将軍から1万石以上の領地をあたえられた武士。3種類に分けられた。
  - ・ <sup>(8)</sup> 親藩 …徳川家一族の大名。江戸周辺や重要地に配置。
  - ・ <sup>(9)</sup> 譜代大名 …関ヶ原の戦いより前からの徳川氏の家臣。江戸周辺や重要地に配置。
  - ・ <sup>(10)</sup> 外様大名 …関ヶ原の戦い以後に徳川氏に従った大名。九州や東北などの遠隔地に配置。
- (4) <sup>(11)</sup> 幕藩体制 …将軍と大名が主従関係を結び、幕府と藩が土地と民衆を支配するしくみ。
- (5) <sup>(12)</sup> 武家諸法度 …大名を統制するため出された法令。1615年に初めて出された。
- (6) <sup>(13)</sup> 禁中並公家諸法度 …天皇や公家の行動を制限。
- (7) <sup>(14)</sup> 参勤交代 …3代将軍 <sup>(15)</sup> 徳川家光 のときに確立した制度。大名の妻子を江戸に住ませ、大名には <sup>(16)</sup> 江戸と領地を1年ごとに往復させた。  
<sup>(17)</sup> 江戸での生活や領国との往復に、ばく大な費用がかかった ので大名にとって大きな負担となった。

## Warm Up

右の資料は、江戸幕府がどのように大名を配置したのかを示したものである。これを見て、次の各問いに答えなさい。

- (1) 外様大名とはどのような大名か、次のア～ウから選び、記号で答えなさい。

- ア 関ヶ原の戦い以後に徳川家に従った大名  
 イ 関ヶ原の戦い以前からの徳川家の家臣  
 ウ 徳川家一族の大名

- (2) 江戸幕府はなぜ資料のように大名を配置したのか。その目的を説明しなさい。



## 解説

## (1) ア

- (2) 親藩・譜代大名が江戸の近く、外様大名が遠くに配置されている点に注目する。

(例) 親藩や譜代大名を江戸の近くに配置し、外様大名の反乱を防ぐため。

Try

1 次の各問いに答えなさい。

- (1) 1600年に現在の岐阜県でおこった戦いを何というか。
- (2) (1)の戦いで勝利し、江戸に幕府を開いた人物はだれか。
- (3) (1)の戦いに敗れた豊臣氏の家臣はだれか。
- (4) 将軍から1万石以上の領地をあたえられた武士を何というか。
- (5) 1614、1615年の大阪の陣によって滅ぼされた一族は何氏か。
- (6) 徳川氏一族の大名を何というか。
- (7) (1)の戦い以前から徳川氏に従っていた大名を何というか。
- (8) (1)の戦い以後に徳川氏に従うようになった大名を何というか。
- (9) 将軍と大名が主従関係を結び、幕府と藩が全国の土地と民衆を支配するしくみを何というか。
- (10) 1615年に大名を統制するために出された法令を何というか。
- (11) 天皇や公家の行動を制限する法令を何というか。
- (12) 江戸幕府の3代将軍はだれか。
- (13) (12)の人物のときに確立された、大名の妻子を人質として江戸に住ませ、大名には江戸と領地を1年ごとに行き来させた制度を何というか。

1

(1)	
(2)	
(3)	
(4)	
(5)	
(6)	
(7)	
(8)	
(9)	
(10)	
(11)	
(12)	
(13)	

2 次の各問いに答えなさい。

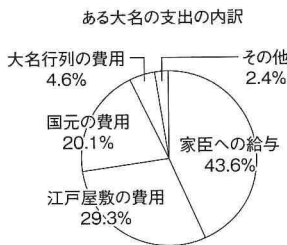
- (1) 1603年に江戸幕府を開いた人物はだれか。
- (2) 江戸幕府が1614、1615年に大阪城を攻めて倒したのは何氏か。
- (3) 次の①、②の大名は何というか、それぞれ答えなさい。
  - ① 古くから徳川氏の家臣である大名。
  - ② 関ヶ原の戦い後、徳川氏に従った大名。
- (4) (3)②の大名はどのような地域に置かれたか。「江戸」という言葉を使って答えなさい。
- (5) 次の資料1は武家諸法度の一部である。これと資料2を見て、下の各問いに答えなさい。

資料1

1615年  
一、諸大名の居城は、修理をするときでも幕府に届け出ること。まして、新たに城を築くことはかたく禁止する。

1635年  
一、諸国の大名は、領国と江戸に交代して住むこと。毎年4月には参勤すること。

資料2



2

(1)	
(2)	
(3)	①
	②
(4)	
(5)	①
	②

- ① 下線部の制度を定めたのはだれか。
- ② 下線部はなぜ大名にとって負担だったのか。資料2を参考にして答えなさい。



## Exercise

1 P.66の **Point!** を赤シートでかくして、番号順にノートにテストしなさい。

2 次の各問いに答えなさい。

- (1) 江戸幕府が開かれる3年前、「天下分け目」の大きな戦いがあった。  
その戦いを何というか。また、その戦いで徳川方に対抗した勢力の  
リーダーの名を **ア～エ** から1つ選び、記号で答えなさい。

**ア** 豊臣秀吉      **イ** 明智光秀

**ウ** 石田三成      **エ** 武田勝頼

- (2) 次の大名をそれぞれ何とよぶか、答えなさい。

① 徳川氏一族の大名。

② (1)の戦い以前からの徳川氏の家臣。

③ (1)の戦い以後に徳川氏に従った大名。

- (3) 大名統制について、参勤交代とはどのような制度か説明しなさい。

2

(1)	戦い	
	リーダー	
(2)	①	
	②	
	③	
(3)		

3 年表や資料を見て、各問いに答えなさい。

年表

年	できごと
1603	( ① ) が江戸に幕府を開く
1615	( ② ) の陣で豊臣氏が滅びる 資料1を出す
1635	( ③ ) が参勤交代を制度化する

資料1

一、学問と武道にひたすら精を出すようにしなさい。  
一、諸国の城は、修理する場合であっても、必ず幕府に申し出ること。まして新しい城を造ることは厳しく禁止する。

- (1) 年表中の①～③に適する語句を答えなさい。

- (2) 資料1は江戸幕府が大名を統制するために出した法令である。その名称を答えなさい。

- (3) 幕府は大名の配置を資料2のようにした。このように配置した目的を答えなさい。

- (4) 下線部について、それが大名にとって大きな負担だった理由として、

誤っているものを、次の **ア～ウ** から1つ選び、記号で答えなさい。

**ア** 妻子は人質として江戸に住まわせなければならなかったから。

**イ** 江戸での生活や領国との往復に、ばく大な費用が掛かったから。

**ウ** 不在中の領国の政治を幕府に依頼しなければならなかったから。

資料2

● 親藩・譜代大名  
○ 外様大名



3

(1)	①	
	②	
	③	
(2)		
(3)		
(4)		

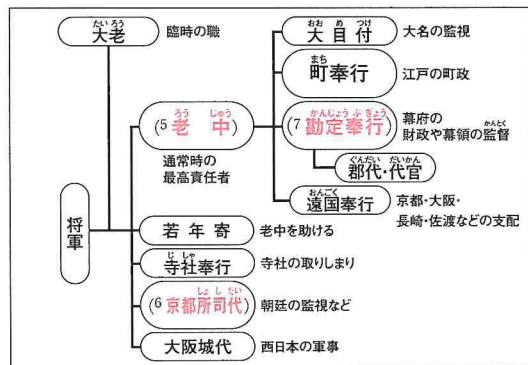
## 5-2

## 幕府のしくみと身分制度

映像との対応 / 歴史「幕府のしくみと身分制度」

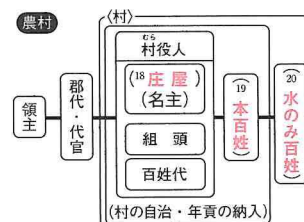
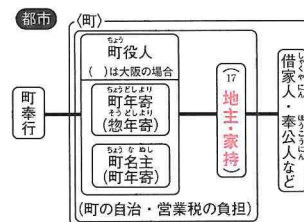
## Point!

- (1) 身分制度…<sup>(1)</sup> **武士** (日本の人口全体の約7%)  
と<sup>(2)</sup> **百姓** (約84~85%), <sup>(3)</sup> **町人** (約5~6%) などの身分に分かれていた。
- (2) 武士の特権…名字を名のること, <sup>(4)</sup> **帯刀** など。
- (3) 町人の生活  
町の運営…町ごとに<sup>(8)</sup> **名主** などの町役人が選ばれて自治を行う。  
選ばれるのは<sup>(9)</sup> **地主・家持** に限られ、  
借家人などは町の運営に参加できなかった。



① 江戸幕府のしくみ

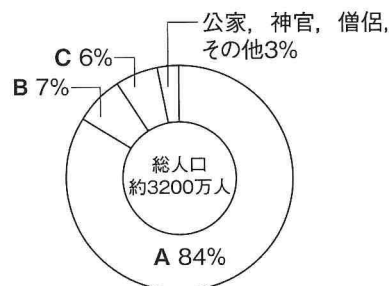
- (4) 百姓の生活
- ① <sup>(10)</sup> **五人組** …5~6戸の農家を1組とし、<sup>(11)</sup> **年貢** 納入や<sup>(12)</sup> **犯罪** 防止に連帯責任を負わせた。
- ② 村の運営…百姓には土地を持つ<sup>(13)</sup> **本百姓** と小作(土地を持たないため他人の土地を耕作すること)をする<sup>(14)</sup> **水のみ百姓** とに分かれていた。  
<sup>(15)</sup> **庄屋 [名主]・組頭・百姓代** などの村役人が選ばれ、村のおきてを決めた。
- (5) <sup>(16)</sup> **えた・ひにん** …百姓や町人とは別に、厳しく差別された人々。



② 都市と農村の支配のしくみ

## Warm Up

- (1) 右のグラフは江戸時代の身分別人口割合を表している。  
**A~C**にあてはまる語句を答えなさい。
- (2) **A**の身分は五人組として組織された。その目的は何か。



## 解説

- (1) 江戸時代の身分で一番割合が多かったのは百姓、次いで武士、町人となる。  
**A 百姓 B 武士 C 町人**
- (2) 五人組とは、百姓を5~6戸で1組とし、年貢の納入や犯罪の防止に連帯責任を負わせる制度である。  
(例) 年貢の納入や犯罪の防止に連帯責任を負わせるため。

## Try

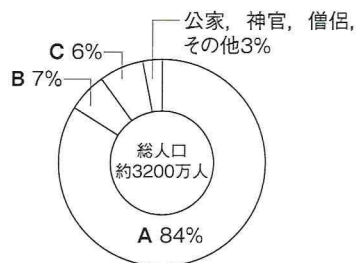
## 1 次の各問いに答えなさい。

- (1) 江戸時代の身分のうち、人口全体の約84～85%と最も多かった身分は何か。
- (2) 江戸時代の身分のうち、人口全体の約7%を占め、いくつかの特権があった身分は何か。
- (3) 江戸時代の(2)の特権は名字を名のること以外に何があるか。
- (4) 5～6戸の農家を1組として、年貢の納入や犯罪の防止などについて共同責任を負わせた制度を何というか。漢字3字で答えなさい。
- (5) 組頭、百姓代とともに、農村の運営にあたった村役人を何というか。
- (6) 百姓、町人とは別に厳しく差別をされた身分を2つ答えなさい。
- (7) 江戸幕府の組織のうち、将軍の下で政治の運営にあたった常任の最高位の役職は何か。
- (8) 京都の朝廷の監視を行った役職を答えなさい。

## 2 次の各問いに答えなさい。

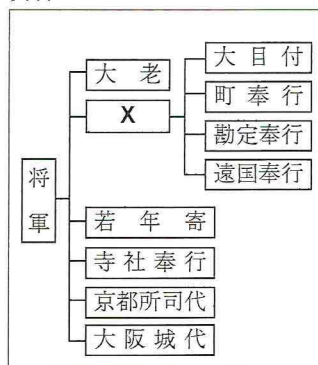
- (1) 右の資料1は江戸時代後期の身分 資料1

別の人口割合を表している。資料中のA～Cにあてはまる身分を答えなさい。



- (2) 幕府や藩は百姓5～6戸でひとまとめにしていたが、この組織を何というか。
- (3) (2)のような組織をつくった目的は何か、答えなさい。
- (4) 右の資料2は江戸幕府のしくみを表している。資料2中のXにあてはまる語句を答えなさい。

資料2



## 1

(1)	
(2)	
(3)	
(4)	
(5)	
(6)	
(7)	
(8)	

## 2

(1)	A	
	B	
	C	
(2)		
(3)		
(4)		

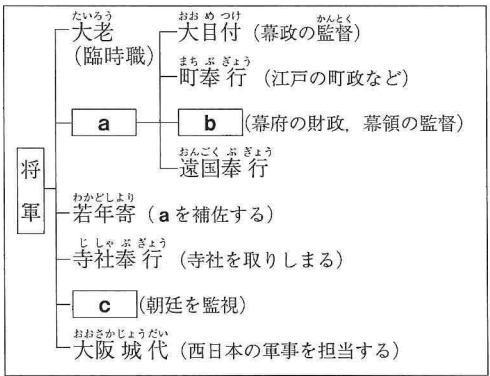


Exercise

1 P.69の **Point!** を赤シートでかくして、番号順にノートにテストしなさい。

2 次の各問いに答えなさい。

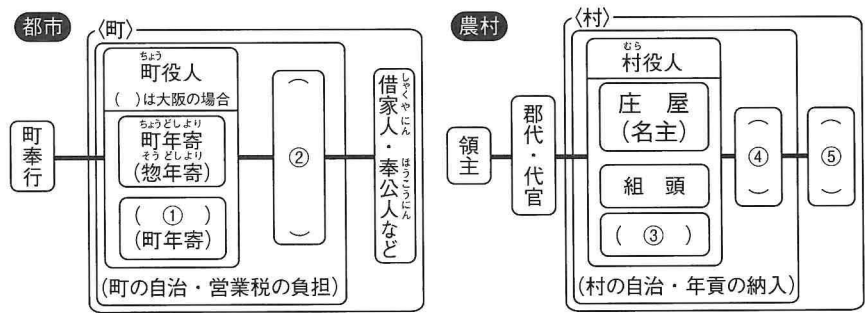
- (1) 江戸幕府を開いたのはだれか。
- (2) 幕府と藩が全国の土地・人民を支配する政治体制を何というか。
- (3) 右の資料は江戸幕府のしくみを表した図である。図中の **a**～**c** にあてはまる役職は何か。
- (4) 5～6戸の農家を1組とした江戸時代の百姓を管理する制度を何というか。
- (5) (4)の制度の目的を説明しなさい。
- (6) 江戸時代の身分制度において、最も人口が多い身分を答えなさい。



2

(1)	
(2)	
(3)	a
	b
	c
(4)	
(5)	
(6)	

3 下の2つの図は江戸幕府による都市と農村の支配のしくみを表している。①～⑤にあてはまる身分は何か。下の **ア**～**カ** から選び、それぞれ記号で答えなさい。



3

①	
②	
③	
④	
⑤	

- ア** 町人の中から選ばれて自治を行う町名主
- イ** 厳しく差別された階級であるえた・ひにん
- ウ** 自分の土地を持っている本百姓
- エ** 土地や家屋の持ち主で、町役人に選ばれる資格のある地主・家持
- オ** 村の自治に参加する村役人の一種である百姓代
- カ** 土地を持たず小作によって生活していた水のみ百姓

## 5-3

## 鎖国

映像との対応 / 歴史「鎖国」

## Point!

(1) (1) <sup>しゅいせんぼうえき</sup>朱印船貿易 … 徳川家康が (2) <sup>しゅいんじょう</sup>朱印状 という渡航許可証をあたえ、貿易を奨励。東南アジア各地に (3) <sup>にほんまち</sup>日本町 が形成された。

(2) 禁教と鎖国

① (4) <sup>きんきょうれい</sup>禁教令 … 1612年、信者が団結して一揆をおこすことをおそれ、幕領で (5) <sup>きりすとく</sup>キリスト教 を禁止。(6) <sup>しんしやをみつけだす</sup>信者を見つけだす ために絵踏を行った。また宣教師の流入を防ぐために貿易に制限を加え、1635年には日本人の海外への出国と帰国を全面的に禁止。そして朱印船貿易を停止した。



① (14 絵踏) に使われた道具

② (7) <sup>しまばら</sup>島原・<sup>あまくさいつき</sup>天草一揆 … 1637年、九州の島原（長崎県）、と天草（熊本県）で、キリスト教徒や農民が (8) <sup>あまくさしろう</sup>天草四郎 という少年を中心に、(9) <sup>きんきょう</sup>禁教 と (10) <sup>じゅうぜい</sup>重税 に反対した。

③ (11) <sup>きこく</sup>鎖国 … 日本人の海外往来を禁じ、幕府が貿易と海外情報を独占している状態。1624年に (12) <sup>すぺいん</sup>スペイン 船、1639年に (13) <sup>ぽるとガル</sup>ポルトガル 船の来航を禁じ、1641年にオランダ商館を長崎の出島に移した。

## Warm Up

鎖国が完成するまでにおきた、ア～エのできごとを、おこった順番に並べかえなさい。

- ア ポルトガル船の来航を禁じた。
- イ スペイン船の来航を禁じた。
- ウ 島原・天草一揆がおきた。
- エ オランダ商館を長崎の出島に移した。

## 解説

ア…1639年。

イ…1624年。スペイン船→ポルトガル船の順に来航が禁じられた。

ウ…1637年。これにより、幕府や大名はキリスト教への対応をさらに厳しくするようになる。

エ…1641年。これにより、鎖国が完成した。

したがって答えは イ→ウ→ア→エ

Try

1 次の各問いに答えなさい。

- (1) 徳川家康が奨励した貿易を何というか。
- (2) (1)の貿易を行うのに必要とされた許可状を何というか。
- (3) (1)の貿易が盛んになり、東南アジア各地に形成された町を何というか。
- (4) 1637年に九州でおこったキリシタンや農民による一揆を何というか。
- (5) (4)の一揆の中心となった少年はだれか。
- (6) 江戸時代にキリシタンを見つけ出すために行われたことは何か。
- (7) 1639年に来航が禁止されたのはどこの国の船か。
- (8) 日本人の海外往来が禁止され、幕府が貿易と海外の情報を独占するようになった。このような状態を何というか。

2 江戸幕府の対外政策について、各問いに答えなさい。

- (1) 東南アジアとの貿易では、資料1のよ 資料1  
うな渡航許可証をあたえられた商人の  
みが貿易を認められた。この資料1を  
何というか。
- (2) 江戸幕府は、最初は黙認していたキリ  
スト教を禁止し、資料2を使った。こ 資料2  
れを使って行ったことを何というか。
- (3) (2)の政策を行った目的を説明しなさい。



3 鎖国が完成するまでにおきた、ア～エの4つのできごとを、おこった順  
番に並べかえなさい。

- ア オランダ商館を長崎の出島に移した。
- イ 島原・天草一揆がおきた。
- ウ スペイン船の来航を禁じた。
- エ ポルトガル船の来航を禁じた。

1

(1)	
(2)	
(3)	
(4)	
(5)	
(6)	
(7)	
(8)	

2

(1)	
(2)	
(3)	

3

→ → →
-------



## Exercise

**1** P.72の **Point!** を赤シートでかくして、番号順にノートにテストしなさい。

**2** 次の年表を見て、各問いに答えなさい。

年代	できごと
1612	幕領でキリスト教が禁止される
1624	( ① ) 船の来航が禁止される
1637	九州地方で <b>X</b> 一揆がおこる
1639	( ② ) 船の来航が禁止される
1641	( ③ ) 商館が平戸から長崎の出島に移される

(1) 年表中の①～③にあてはまる語句を次のア～エから選び、それぞれ記号で答えなさい。

ア イギリス      イ オランダ

ウ スペイン      エ ポルトガル

(2) 年表中のXにあてはまる語句を答えなさい。

(3) (2)がおきた理由を次のA～Dから2つ選び、記号で答えなさい。

A 重税                      B キリスト教徒の弾圧

C 村落の境界争い      D 貿易の禁止

**3** 次の各資料を見て、各問いに答えなさい。

(1) 右の資料1は徳川家康が保護した貿易船の航路を表している。この貿易は何とよばれたか答えなさい。

(2) 資料1の◎で表された、多くの日本人が移住してつくられた町を何というか答えなさい。


(3) 右下の資料2はある政策のために使われたものである。資料2を使って行うことを何というか。

(4) (3)の政策を行った目的を答えなさい。

資料1



資料2



**2**

(1)	①	
	②	
	③	
(2)		
(3)		

**3**

(1)	
(2)	
(3)	
(4)	

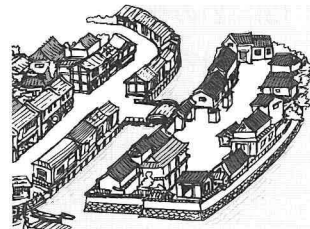
## 5-4

## 鎖国下での対外関係

映像との対応 / 歴史「鎖国下での対外関係」

## Point!

- (1) 鎖国下の貿易…長崎では<sup>(1)</sup> オランダ、中国〔清〕のみと貿易が行われた。オランダとの貿易は厳しく管理され、<sup>(2)</sup> 出島<sup>(2)</sup> でのみ行われた。



① (3) 出島

- (2) <sup>(4)</sup> 朝鮮<sup>(4)</sup> …豊臣秀吉の侵略以降、国交がとだえていたが、<sup>(5)</sup> 対馬<sup>(5)</sup> 藩を通じて国交を回復。朝鮮からは将軍が代わるごとに<sup>(6)</sup> 朝鮮通信使<sup>(6)</sup> という使節が送られてきた。

- (3) <sup>(7)</sup> 琉球王国<sup>(7)</sup> …<sup>(8)</sup> 薩摩<sup>(8)</sup> 藩（鹿児島県）と中国の両方に服属。ただし国際的には独立国であり、<sup>(9)</sup> 明、清<sup>(9)</sup> と貿易を行っていた。独自の文化を発展させた。

- (4) <sup>(10)</sup> 蝦夷地<sup>(10)</sup> …独自の言語・文化を持つ<sup>(11)</sup> アイヌ民族<sup>(11)</sup> が住んでおり、主に<sup>(12)</sup> 海産物<sup>(12)</sup> を千島列島、樺太、中国北方の人々と交易していた。

和人（本州住民）では<sup>(13)</sup> 松前<sup>(13)</sup> 藩がアイヌの人々との取り引きを独占。アイヌの人々は不利な取り引きに対して、17世紀後半、<sup>(14)</sup> シラクシャイン<sup>(14)</sup> を中心に蜂起。松前藩と戦ったが敗れた。



① 鎖国下で対外的に開かれていた窓口

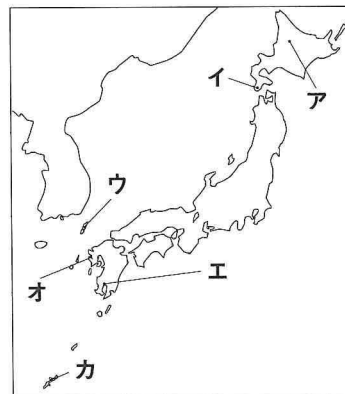
## Warm Up

次の①～⑥の文はどの地域を説明したものか。地図の<sup>ア</sup>～<sup>カ</sup>からあてはまるものをそれぞれ選びなさい。

- ① オランダが唯一日本人と貿易できる、出島があった都市
- ② 服属する琉球王国を通じて中国と間接的に貿易を行った藩
- ③ 和人で唯一アイヌ民族と交易を行っていた藩
- ④ 朝鮮と日本の国交を回復する窓口となった藩
- ⑤ 国際的には独立国であり、明や清と貿易を行っていた国
- ⑥ 独自の言語・文化を持つアイヌ民族が生活していた地域

## 解説

- ① 長崎の説明。したがって、答えは オ。 ② 薩摩藩の説明。したがって、答えは エ。  
 ③ 松前藩の説明。したがって、答えは イ。 ④ 対馬藩の説明。したがって、答えは ウ。  
 ⑤ 琉球王国の説明。したがって、答えは カ。 ⑥ 蝦夷地の説明。したがって、答えは ア。



## Try

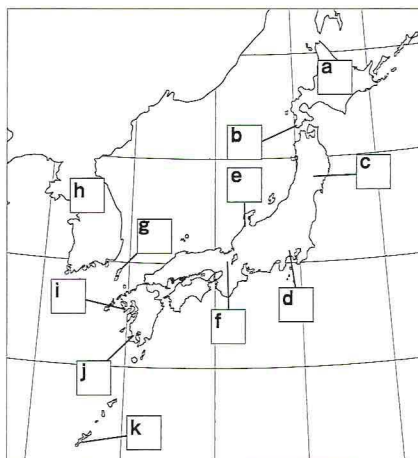
## 1 次の各問いに答えなさい。

- (1) 鎖国のなか貿易が許されたヨーロッパの国はどこか。
- (2) (1)の国はある都市でのみ貿易が許されたが、この都市はどこか。
- (3) (2)の都市で貿易が許されたアジアの国はどこか。
- (4) (2)の都市につくられた島を何というか。
- (5) 対馬藩を通じて日本との国交を回復した国はどこか。
- (6) (5)の国は日本との貿易を始めたが、将軍が代わるごとに(5)の国から送られてきた使節を何というか。
- (7) 日本のある藩と中国の両方に服属していた王国はどこか。
- (8) (7)の王国が服属していた日本の藩はどこか。
- (9) (7)の王国が貿易を行っていた中国の王朝はどこか。2つ答えなさい。
- (10) 現在の北海道は、江戸時代に何とよばれていたか。
- (11) (10)の地域に暮らしていた人々を何というか。
- (12) (11)の人々が千島列島や樺太の人々と交易していた産物は、主に何か。
- (13) (11)の人々との取り引きを独占していた藩はどこか。
- (14) 17世紀後半、(13)の藩との不利な取り引きに不満を持ち、蜂起して戦った(11)の首長はだれか。

2 鎖国体制下でも交易が続けられた(1)～(4)の位置を地図中のa～kから1つずつ選び、記号で答えなさい。また、交易相手として適切な語句をA～カから1つずつ選び、記号で答えなさい。

- (1) 松前
- (2) 対馬
- (3) 薩摩
- (4) 長崎

- |         |        |
|---------|--------|
| ア オランダ  | イ スペイン |
| ウ ポルトガル | エ 琉球王国 |
| オ アイヌ   | カ 朝鮮   |



## 1

(1)	
(2)	
(3)	
(4)	
(5)	
(6)	
(7)	
(8)	
(9)	
(10)	
(11)	
(12)	
(13)	
(14)	

## 2

(1)	位置	
	相手	
(2)	位置	
	相手	
(3)	位置	
	相手	
(4)	位置	
	相手	



## Exercise

**1** P.75の **Point!** を赤シートでかくして、番号順にノートにテストしなさい。

**2** 次の地図や資料を見て、各問いに答えなさい。

(1) 地図中の **A** にあった藩はアイヌ民族

との交易を和人として独占していた。次の問いに答えなさい。

- ① 藩の名は何か。
- ② 17世紀後半、アイヌ民族は不利な取り引きに不満を持ち、和人と戦った。この戦いの中心人物は誰か。

(2) 地図中の **B** にあった藩について答えなさい。

- ① この藩は、日本と朝鮮との国交回復に功績があった。藩の名は何か。
- ② 朝鮮から将軍が代わるごとに送られていた使節を何というか。

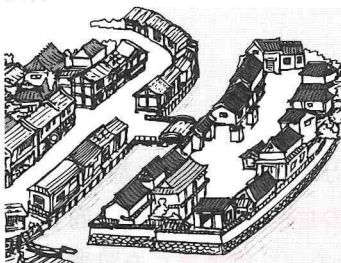
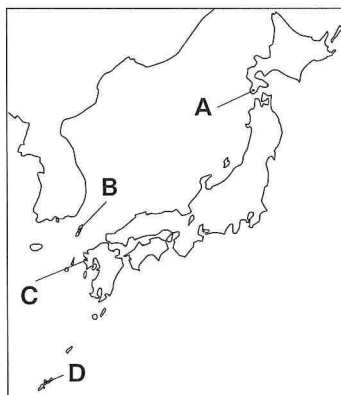
(3) 資料は地図中の **C** にある人工の島

である。次の問いに答えなさい。

- ① この島の名は何というか。
- ② この島でのみ日本人と貿易を行うことができたヨーロッパの国はどこか。

(4) 中国とともに地図中の **D** を服属さ

せており、貿易によって利益を得ていたのは何という藩か。



**2**

(1)	①	
	②	
(2)	①	
	②	
(3)	①	
	②	
(4)		

## 5-5

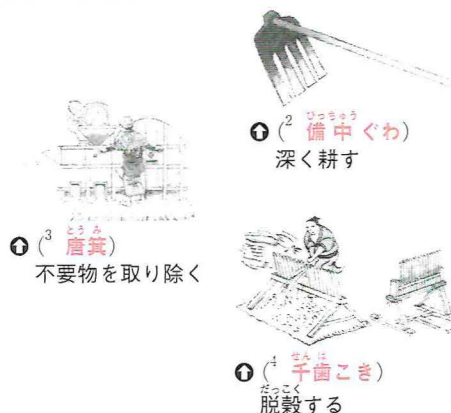
## 産業の発達

映像との対応 / 歴史「産業の発達」

## Point!

- (1) 農業の発達…幕府や藩の財政は年貢米でまかなわれていた  
ので、新田開発を奨励。18世紀の初めには  
江戸時代初期に比べて、耕地面積が約2倍に  
なった。

① 農具の改良によって生産性が向上。(右の図を参照)

② (1) 商品作物…売ることによって現金収入を得るために生産  
する作物。

- (2) 交通の発達

① 陸上交通…江戸を起点として、(5) 東海道、中山道、甲州道中、日光道中、奥州道中の(6) 五街道を整備。

② 水上交通…各地の年貢米や特産物などを運ぶ必要から発達。(7) 東廻り  
航路や(8) 西廻り航路が開かれたほか、江戸と大阪の間  
を(9) 菱垣廻船や(10) 樽廻船などが往復した。

- (3) 都市の発達…江戸、大阪、京都は三都とよばれ、特に発達した。

① (14) 江戸…人口約100万人の世界有数の都市。「将軍のおひざもと」といわれた。

② (15) 大阪…「(16) 天下の台所」とよばれ、商業が盛ん。幕府や諸藩は年貢米や特産物を保管・  
販売するため(17) 蔵屋敷を設置した。

③ (18) 京都…古くからの文化の中心。西陣織や清水焼などの工芸品をつくる手工業が盛ん。

- (4) 町人の台頭

① (19) 株仲間…商工業者の同業者組合。幕府や藩に税を納めて営業を独占した。

② (20) 両替商…金銀の交換や預金・貸し付けなど、現在の銀行のような仕事を行った。

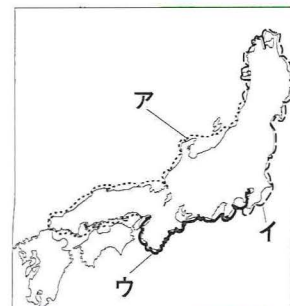
## Warm Up

次の①～③の航路は右の地図のア～ウのどれにあたるか。それぞれ選び、記号で答えなさい。

- ① 東廻り航路    ② 西廻り航路    ③ 菱垣廻船・樽廻船

## 解説

- ① 東北地方などの米を、東回りで江戸に運ぶ。イ  
② 東北地方などの米を、西回りで大阪や江戸に運ぶ。ア  
③ 江戸と大阪をつなぐ定期船。ウ




Try

1 次の各問いに答えなさい。

- (1) 江戸時代に発達した農具のうち、田畑を深く耕すために役立ったものを何というか。
- (2) (1)と同じく、脱穀を楽に行うのに役立った農具を何というか。
- (3) 農業生産力が向上し、農民は年貢のための米以外に、販売目的の作物も生産するようになったが、このような作物を何というか。
- (4) 江戸を起点にして整備された五街道には、中山道、甲州道中、日光道中、奥州道中のほかに何があるか。
- (5) 江戸時代に発達した海上の航路を1つ答えなさい。
- (6) 江戸と大阪の間には樽廻船以外に何という定期船が運航したか。
- (7) 「将軍のおひざもと」とよばれ、多くの人口を抱えていた都市はどこか。
- (8) 全国の物資が集まり、商業都市として栄えた都市はどこか。また、このことから、この都市は何とよばれるようになったか。
- (9) 古くからの文化の中心で、西陣織や清水焼などの工芸品をつくる手工業が発達した都市はどこか。
- (10) 幕府や諸藩が米や特産物を保管・販売するために置いた建物を何というか。
- (11) 江戸時代の商工業者の同業組合を何というか。
- (12) 貨幣の交換や預金・貸し付けなどを行った業者を何というか。

2 産業の発達について、各問いに答えなさい。



- (1) 上の図①, ②にあてはまる農具の名前を答えなさい。
- (2) 各藩が大阪に置いた年貢米や特産物を保管するための施設を何というか。
- (3) 東北地方から日本海と瀬戸内海を通過して大阪につながる航路を何というか。
- (4) 江戸と大阪の間の航路で使用された定期船を1つ答えなさい。

1

(1)	
(2)	
(3)	
(4)	
(5)	
(6)	
(7)	
(8)	都市
	よび名
(9)	
(10)	
(11)	
(12)	

2

(1)	①	
	②	
(2)		
(3)		
(4)		



## Exercise

1 P.78の **Point!** を赤シートでかくして、番号順にノートにテストしなさい。

2 右下の地図を見て、各問いに答えなさい。

(1) 地図中の **A** の都市について、正しい説明文を **A**～**E** から1つ選び、記号で答えなさい。

**A** 諸藩の蔵屋敷が置かれ、商業が盛んで、「天下の台所」とよばれた。

**I** 「将軍のおひざもと」とよばれ、人口100万人をこえた。

**ウ** 出島がつくられており、オランダ人が唯一ここで日本と貿易できた。

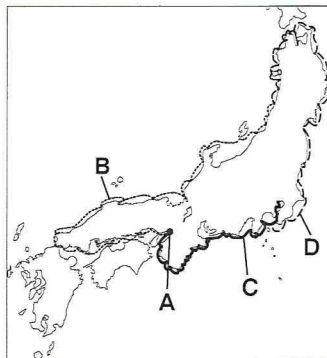
**E** 古くからの文化の中心で、西陣織や清水焼などの手工業が盛んであった。

(2) 地図中の **B**～**D** の航路の名前を次の **A**～**ウ** から1つずつ選び、それぞれ記号で答えなさい。

**A** 西廻り航路

**I** 東廻り航路

**ウ** 菱垣廻船の航路




(3) 農作業の能率を上げた、下の資料の農具の名前を **A**～**ウ** から1つ選び、記号で答えなさい。

**A** 備中ぐわ

**I** 千歯こき

**ウ** 唐箕



(4) 江戸時代に広まった、幕府や藩に税を納めて営業を独占した同業者の組合を何というか。

2

(1)	
(2)	<b>B</b>
	<b>C</b>
	<b>D</b>
(3)	
(4)	

## 5-6

## 元禄文化

▶ 映像との対応 / 歴史「元禄文化」

## Point!

(<sup>1</sup> 元禄文化) …町人中心の明るく活気のある文化。5代将軍 (<sup>2</sup> 徳川綱吉) のころに、  
(<sup>3</sup> 上方 [京都, 大阪]) を中心に発達した。

## (1) 文学・芸能

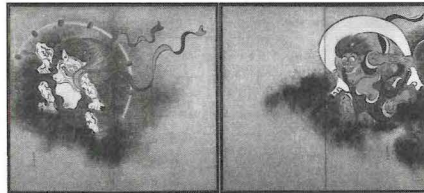
- ① 俳諧… (<sup>4</sup> 松尾芭蕉) が新しい作風を生み出した。東北・北陸地方を歩いて執筆した『(<sup>5</sup> 奥の細道)』が有名。
- ② (<sup>6</sup> 人形浄瑠璃) …代表的な脚本家の (<sup>7</sup> 近松門左衛門) が『(<sup>8</sup> 曾根崎心中)』などを書いた。
- ③ 浮世草子… (<sup>9</sup> 井原西鶴) は、武士や町人の生活をもとに『日本永代蔵』などの小説を著した。

## (2) 絵画

- ① (<sup>10</sup> 浮世絵) …江戸で活躍した (<sup>11</sup> 菱川師宣) が「(<sup>12</sup> 見返り美人図)」をえがいた。
- ② 装飾画… (<sup>13</sup> 俵屋宗達) (「風神雷神図屏風」) の影響を受けた尾形光琳が大成。



① 見返り美人図



② 風神雷神図屏風

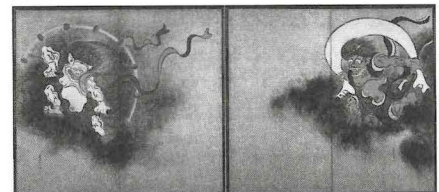
## Warm Up

資料を見て、次の問いに答えなさい。

- (1) 右の資料は装飾画をえがいた人物の代表作「風神雷神図屏風」である。その人物とはだれか。
- (2) 元禄文化の特色を説明した次の文の空欄に適する語を書きなさい。なお、①には地域、②には身分の名称が入る。

( ① ) を中心に発達した、( ② ) 中心の  
明るく活気のある文化。

資料



## 解説

## (1) 俵屋宗達

- (2) 江戸時代初期、商業は江戸よりも上方（京都、大阪）が発達していた。そのため、経済力のある町人階級から豊かな文化が生まれた。

したがって、答えは ① 上方 ② 町人。

## Try

## 1 次の各問いに答えなさい。

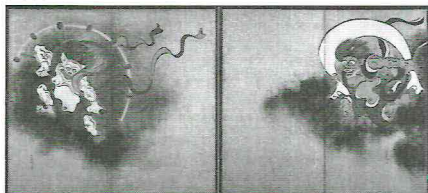
- (1) 5代将軍徳川綱吉のころに発達した文化を何というか。
- (2) (1)の文化が発達した京都や大阪のことを何というか。漢字2字で答えなさい。
- (3) 俳諧で新しい作風を生み出した人物はだれか。
- (4) (3)の人物が残した代表的な紀行文を1つ答えなさい。
- (5) (1)の文化を代表する人形浄瑠璃の脚本家はだれか。
- (6) 「見返り美人図」のような絵画を何というか。
- (7) 「見返り美人図」の作者はだれか。
- (8) 「風神雷神図屏風」の作者はだれか。
- (9) 『日本永代蔵』などの浮世草子を書いたのはだれか。

## 1

(1)	
(2)	
(3)	
(4)	
(5)	
(6)	
(7)	
(8)	
(9)	

## 2 下の資料を見て、次の各問いに答えなさい。

資料1



資料2



## 2

(1)		
(2)	①	
	②	
	③	
(3)		

- (1) 資料1の装飾画の作者の名前を答えなさい。
- (2) 資料2について次の問いに答えなさい。
  - ① 作品の名前は何か。
  - ② 作者を次のア～エから1つ選び、記号で答えなさい。  
ア 狩野永徳    イ 雪舟    ウ 菱川師宣    エ 近松門左衛門
  - ③ このような絵画は何とよばれたか。名称を答えなさい。
- (3) 元禄文化について述べている文として正しいものはどれか。次のア～エから1つ選び、記号で答えなさい。
 

ア 江戸を中心に発達した、町人中心の明るく活気のある文化。

イ 千利休は武士や町人の生活をもとに俳諧の新しい作風を作り出した。

ウ 近松門左衛門は、町人社会の義理や人情を題材に、人形浄瑠璃の脚本を書いた。

エ 松尾芭蕉は全国を歩き、『日本永代蔵』を執筆した。

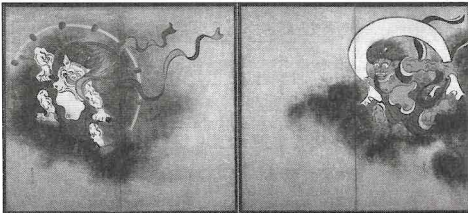



## Exercise

**1** P.81の **Point!** を赤シートでかくして、番号順にノートにテストしなさい。

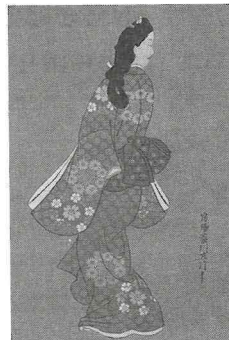
**2** 次の各問いに答えなさい。

- (1) 元禄文化が栄えた「上方」とはどこか。都市の名前を2つ答えなさい。
- (2) 元禄文化では、人形を使った伝統芸能が盛んだった。この伝統芸能を何というか。**ア～エ**から1つ選び、記号で答えなさい。  
**ア** 歌舞伎 **イ** 人形浄瑠璃 **ウ** 能 **エ** 雅楽
- (3) (2)の伝統芸能には『曾根崎心中』という作品がある。その脚本の作者を**ア～エ**から1つ選び、記号で答えなさい。  
**ア** 松尾芭蕉 **イ** 近松門左衛門  
**ウ** 菱川師宣 **エ** 井原西鶴
- (4) 以下の図の**ア～エ**のうち、元禄文化に関係あるものを1つ選び、記号で答えなさい。

**ア****イ****ウ****エ**

**3** 右の絵を見ながら話している2人の会話を読み、次の問題に答えなさい。

A: この絵は菱川師宣のえがいた「( ① )」だね。  
B: 元禄文化の代表的絵画だね。菱川師宣がえがいた ( ② ) 絵は、値段の安い版画になったから、江戸時代にとってもはやったんだよ。



- (1) 空欄①, ②にあてはまる言葉を答えなさい。
- (2) 下線部の元禄文化とはどのような文化か。説明しなさい。

**2**

(1)	
(2)	
(3)	
(4)	

**3**

(1)	①	
	②	
(2)		

## 5-7

## 幕府政治の乱れ

映像との対応 / 歴史「幕府政治の乱れ」

## Point!

- (1) 5代将軍<sup>(1)</sup> 徳川綱吉<sup>とくがわつなよし</sup>の政治…1680～1709年。儒学〔朱子学<sup>しゆしがく</sup>〕を奨励<sup>しょうれい</sup>し、湯島聖堂<sup>ゆしませいどう</sup>を開いた。
- ① 幕府の財政難…貨幣の質を落として発行量を増やすが、物価が上昇した。
- ② <sup>(2)</sup> 生類憐みの令<sup>しょうるいあわれれい</sup>…極端な動物愛護令は人々を苦しめ、反感をかった。
- (2) <sup>(3)</sup> 新井白石<sup>あらい はくせき</sup>の政治…1709～1716年。6, 7代将軍に仕えた朱子学者。生類憐みの令を廃止した。
- ・貿易の制限…金・銀の海外流出をおさえるため、長崎貿易を制限し、貨幣の質を元にもどして物価の安定をはかった。

## (3) 幕政の改革

名称	年代	改革した人物	改革の内容
<sup>(4)</sup> 享保 <sup>きやうほう</sup> の改革	1716年 ～ 1745年	8代将軍 <sup>(5)</sup> 徳川吉宗 <sup>とくがわよしむね</sup>	<ul style="list-style-type: none"> <li>・<sup>(6)</sup> 公事方御定書<sup>くしかたあさためぎ</sup>の制定…裁判の基準を制定。</li> <li>・<sup>(7)</sup> 目安箱<sup>めやすばこ</sup>の設置…庶民の意見を聞くため。</li> <li>・上げ米の制…<sup>(8)</sup> 参勤交代<sup>さんきんこうたい</sup>を緩め、米を献上させた。</li> <li>・年貢率の引き上げ…質素・儉約を勧める。</li> </ul> <p>【結果】財政は一時持ち直す。</p>
<sup>(9)</sup> 田沼意次 <sup>たぬまおきつぐ</sup> の政治	1772年 ～ 1786年	老中 <sup>(10)</sup> 田沼意次 <sup>たぬまおきつぐ</sup>	<ul style="list-style-type: none"> <li>・<sup>(11)</sup> 株仲間<sup>かぶなかい</sup>の奨励…特権をあたえるかわりに税を納めさせる。</li> <li>・長崎貿易の拡大…金・銀の輸入と貿易の拡大。</li> </ul> <p>【結果】いろいろ政治が行われ、政治が乱れた。</p>
<sup>(12)</sup> 寛政 <sup>かんせい</sup> の改革	1787年 ～ 1793年	老中 <sup>(13)</sup> 松平定信 <sup>まつだいらさだのぶ</sup>	<ul style="list-style-type: none"> <li>・ききん対策…商品作物の栽培を制限し、農村に米を蓄えさせる。</li> <li>・<sup>(14)</sup> 借金<sup>かきん</sup>の帳消し…旗本・御家人の救済のため。</li> <li>・学問…<sup>(15)</sup> 朱子学<sup>しゅうしがく</sup>以外の学問を禁止。昌平坂学問所をつくった。</li> </ul> <p>【結果】厳しすぎて人々の不満を招き、失脚。</p>

## Warm Up

- (1) 次のア～エの政治が行われた時期を古い順に並べかえ、記号で答えなさい。
- ア 御家人の借金を帳消しにした。また、朱子学以外の学問を禁止した。
- イ 生類憐みの令を制定した。また貨幣の発行量を増やした。
- ウ 公事方御定書を制定した。また、参勤交代を緩める上げ米の制を導入した。
- エ 長崎貿易を拡大し、商人が株仲間を結ぶことを奨励した。
- (2) 次の狂歌（政治を風刺する短歌）は誰が担当した政治を皮肉ったものか。人物名を答えなさい。
- 「白河の清きに魚のすみかねて もとの濁りの田沼恋しき」

## 解説

- (1) ア…松平定信の寛政の改革  
イ…徳川綱吉の政治  
ウ…徳川吉宗の享保の改革  
エ…田沼意次の政治
- したがって、答えは **イ→ウ→エ→ア**。
- (2) 「白河」は元白河藩主であった松平定信を指す。また、「もとの」「田沼」とあることから田沼意次の後、幕政を担当した人物であることがわかる。
- 松平定信

## Try

## 1 次の各問いに答えなさい。

- (1) 江戸幕府の5代将軍はだれか。
- (2) (1)の人物が出した、極端な動物愛護令を何というか。
- (3) 6, 7代将軍に仕え、政治を行った人物はだれか。
- (4) 江戸幕府の8代将軍はだれか。
- (5) (4)の人物が行った改革を何というか。
- (6) (4)の人物が裁判の基準を示すために制定したものは何か。
- (7) (4)の人物が庶民の意見を聞くために設置したものは何か。
- (8) (4)の人物が定めた上げ米の制により緩和されたものは何か。
- (9) 商人の力を利用して幕府の財政の立て直しをはかったが、わいろ政治との批判を受けた人物はだれか。
- (10) (9)の人物は、商工業者が何をつくることを奨励したか。
- (11) (9)の人物のあと、政治改革を進めた老中はだれか。
- (12) (11)の人物による改革を何というか。

## 1

(1)	
(2)	
(3)	
(4)	
(5)	
(6)	
(7)	
(8)	
(9)	
(10)	
(11)	
(12)	

## 2 次の歴史カードは、盛田さんの班が江戸時代の政治について勉強する授業で作ったものである。これを見て、次の各問いに答えなさい。

A 寛政の改革 ( ① )

B 享保の改革 ( ② )

C 田沼意次の政治

- (1) 空欄①・②にあてはまる人物名を答えなさい。
- (2) A～Cを時代の古い順に並べかえ、記号で答えなさい。
- (3) 次の狂歌（政治を風刺する短歌）はA～Cのどの政治を皮肉ったものか。記号で答えなさい。  
「白河の清きに魚のすみかねて もとの濁りの田沼恋しき」
- (4) Cで行われたことを、次のA～Eから1つ選び、記号で答えなさい。  
A 株仲間の奨励      E 目安箱の設置  
ウ 株仲間の解散      F 質素・儉約を勧める

## 2

(1)	①	
	②	
(2)	→	→
(3)		
(4)		



## Exercise

1 P.84の **Point!** を赤シートでかくして、番号順にノートにテストしなさい。

2 年表と資料を見て、各問いに答えなさい。

年表

年代	できごと
1680年	( ① ) が5代将軍となる
1709年	新井白石が登用される……………A
1716年	( ② ) が改革を始める……………B
1772年	( ③ ) が老中となる……………C
1787年	( ④ ) が改革を始める……………D

資料

<b>ア</b>	<ul style="list-style-type: none"> <li>・凶作に備えて村ごとに米を蓄えさせる。</li> <li>・旗本や御家人の借金を帳消しにする。</li> <li>・湯島に昌平坂学問所をつくる。</li> <li>・厳しく風紀を取りしめる。</li> </ul>
<b>イ</b>	<ul style="list-style-type: none"> <li>・貨幣の質を元に戻す。</li> <li>・長崎での貿易を制限して、金銀の海外流出を防ぐ。</li> </ul>
<b>ウ</b>	<ul style="list-style-type: none"> <li>・商工業者の ( <b>X</b> ) を増やして営業税を取る。</li> <li>・長崎での貿易を盛んにするため海産物の輸出をすすめる。</li> <li>・蝦夷地の開拓を計画。</li> </ul>
<b>エ</b>	<ul style="list-style-type: none"> <li>・目安箱を設置する。</li> <li>・ ( <b>Y</b> ) を定め裁判の基準にする。</li> <li>・豊作や不作にかかわらず一定の年貢を取る。</li> </ul>

2

(1)	①	
	②	
	③	
	④	
(2)		
(3)		
(4)	<b>X</b>	
	<b>Y</b>	
(5)	<b>C</b>	
	<b>D</b>	

(1) 年表中の①～④にあてはまる人物名を下から1つずつ選んで答えなさい。

( 徳川吉宗    徳川綱吉    徳川家光 )  
 ( 松平定信    徳川秀忠    田沼意次 )

(2) 年表中の①の人物が出した、極端な動物愛護を強制する法令を何というか。

(3) Bの改革を何というか。

(4) 資料中のア～エの内容は、年表中のA～Dの政治や改革のいずれかの内容である。XとYにあてはまる語句を答えなさい。

(5) 年表中のCとDの政治や改革の内容として正しいものを資料中のア～エから1つずつ選び、記号で答えなさい。

## 5-8

## 社会の変化


映像との対応 / 歴史「社会の変化」

## Point!

- (1) <sup>(1)</sup> **貨幣経済** の広がり…原因①：商品作物の栽培が盛んになったため。  
 原因②：農具や肥料の購入が必要になったため。  
 影響：土地を手放して小作人になる者や土地を買い集める地主が現れ、  
 貧富の差が広がった。
- ① <sup>(2)</sup> **問屋制家内工業** …豊かな商人や地主が、原料・道具を農民に貸し、製品を買い取る。  
 ② <sup>(3)</sup> **工場制手工業** [**マニファクチュア**] …豊かな商人や地主が小作人などを作業場に集めて  
 分業で生産させる。
- (2) 百姓一揆と打ちこわし…ききんがおこると回数が多くなった。
- ① <sup>(4)</sup> **百姓一揆** …年貢の軽減や不正な役人の交代を求めて集団で領主に反抗。  
 ・ <sup>(5)</sup> **からかさ連判状** … <sup>(6)</sup> **指導者をかくす** ため一揆の参加者が円形  
 に署名した。
- ・ <sup>(7)</sup> **打ちこわし** …米などの物価上昇により、都市の人々が米屋や大商人  
 を襲った。
- ② <sup>(8)</sup> **天保のききん** …1830年代におきたききん。1837年に、苦しむ人々を救済するために大阪町  
 奉行所の元役人の <sup>(9)</sup> **大塩平八郎** が大阪で <sup>(10)</sup> **大塩平八郎の乱** をおこす。
- (3) <sup>(12)</sup> **天保の改革** …1841年～1843年に行われた、老中 <sup>(13)</sup> **水野忠邦** による改革。
- ① 内容
- ・ <sup>(14)</sup> **株仲間** の解散…物価を引き下げのために商人に自由な取引をさせようとした。
  - ・ 農村の復興…江戸への出稼ぎを禁止し、農民を村に帰させた。
- ② 結果…民衆の反発を招き、2年で失脚。

① <sup>(11)</sup> **からかさ連判状**

## Warm Up



- (1) 上の図Aは百姓に織機やお金を貸して布を織らせている生産の様子、上の図BはAののち行われるようになった生産の様子である。それぞれの工業を何というか。漢字で答えなさい。
- (2) 上の図Bの工業について説明しなさい。

## 解説

図A…家の中で少人数で生産している様子が読み取れる。問屋制家内工業である。

図B…作業場に人が集まり分業で生産している。工場制手工業（マニファクチュア）である。

- (1) **A 問屋制家内工業**      **B 工場制手工業**
- (2) (例) 小作人などを作業場に集めて分業で生産を行う工業のこと。

## Try


## 1 次の各問いに答えなさい。

- (1) 商品作物の栽培が盛んになり、貧富の差が広がったのは、農村に何が広がったからか。
- (2) 18世紀には、豊かな商人や地主が資金、原料、道具を農民に貸し、生産された製品を買い取るしくみが広まったが、これを何というか。
- (3) 19世紀には、豊かな問屋商人や地主が小作人などを作業場に集めて、分業による生産を行ったが、これを何というか。
- (4) 江戸時代、負担の増大に苦しむ百姓が団結しておこした一揆を何というか。
- (5) (4)の、中心人物を隠すために円形に署名されたものを何というか。
- (6) 米などの物価の上昇に苦しむ都市の貧しい人々が、米屋や大商人を集団で襲うことを何というか。
- (7) 1830年代におこったききを何というか。
- (8) (7)で苦しむ人々を救済するために、大阪町奉行所の元役人で陽明学者でもある人物が反乱をおこした。この乱を何というか。

## 2 次の各問いに答えなさい。

都市では米の買い占めを行った商人が **X** にあい、農村では年貢の軽減などを求めて **Y** がおきた。

- (1) ききんがおこったあとの社会の様子についてまとめた上の文の **X**・**Y** にあてはまる語句をそれぞれ答えなさい。
- (2) 右の資料は、農民らが一揆をおこしたときの連判状 資料である。農民らが、円形に署名した理由を答えなさい。
- (3) 貨幣経済の広がりにより、手工業が発達した。小作人を作業場に集めて分業で生産する方法を何というか。



## 1

(1)	
(2)	
(3)	
(4)	
(5)	
(6)	
(7)	
(8)	

## 2

(1)	<b>X</b>	
	<b>Y</b>	
(2)		
(3)		



## Exercise


1 P.87の **Point!** を赤シートでかくして、番号順にノートにテストしなさい。

2 次の各問いに答えなさい。

記号	ア	イ	ウ	エ
改革	( A )	享保の改革	寛政の改革	田沼の政治
中心人物	水野忠邦	( B )	( C )	田沼意次
内容	<ul style="list-style-type: none"> <li>・ <b>X</b> の解散</li> <li>・ 農民の帰村</li> <li>・ 外国船対策の転換</li> </ul>	<ul style="list-style-type: none"> <li>・ 上げ米の制</li> <li>・ 目安箱の設置</li> <li>・ 公事方御定書</li> </ul>	<ul style="list-style-type: none"> <li>・ ききん対策</li> <li>・ 借金の帳消し</li> <li>・ 学問統制</li> </ul>	<ul style="list-style-type: none"> <li>・ <b>X</b> の奨励</li> <li>・ 蝦夷地の調査</li> <li>・ 干拓事業</li> </ul>

- (1) 表中の**A**にあてはまる語句を書きなさい。
- (2) 表中の**B・C**にあてはまる人物名を**ア～エ**から1つずつ選び、記号で答えなさい。
- ア** 徳川綱吉    **イ** 徳川吉宗    **ウ** 新井白石    **エ** 松平定信
- (3) 表中の**X**にあてはまる語句を答えなさい。
- (4) 表中の**ア～エ**を年代が古い順に並べかえなさい。
- (5) 表中の**ア**の改革の前に、大阪で反乱を起こした大阪町奉行所の元役人だった人物は誰か。

3 図を見て、次の各問いに答えなさい。



- (1) 上の図**A・B**の工業を何というか。それぞれ漢字で答えなさい。
- (2) 上の図**B**の工業について「作業場」「分業」の語句を用いて説明しなさい。

2

(1)	
(2)	B
	C
(3)	
(4)	→ → →
(5)	

3

(1)	A
	B
(2)	

## 5-9

## 外国船の来航

映像との対応 / 歴史「外国船の来航」

## Point!

- (1) 外国船の来航…1792年：<sup>(1)</sup> **ラクスマン** 来航：ロシアの使節が根室<sup>ねむろ</sup>に来航し漂流民を届け、通商を要求。
- 1804年：<sup>(2)</sup> **レザノフ** 来航：ロシアの使節が長崎に来航。帰路に一部が蝦夷地を襲った。
- 1808年：<sup>(3)</sup> **フェートン号** 事件：イギリスの軍艦がオランダ船を追って長崎港に侵入。
- 1837年：<sup>(4)</sup> **モリソン号** 事件：アメリカの商船が漂流民を届け、通商を要求。浦賀と山川で撃退される。
- (2) 北方の探検…幕府はロシアの南下に備えるために<sup>(5)</sup> **間宮林蔵**<sup>まみやりんぞう</sup>らに蝦夷地などの探検を命じた。
- (3) <sup>(6)</sup> **異国船打払令**<sup>いこくせんうちばらいれい</sup>…1825年、幕府は鎖国を守るために、日本の沿岸に近づく外国船の撃退を命じた。<sup>(7)</sup> **オランダ**、**中国〔清〕**は打ち払いの対象外。
- (4) <sup>(8)</sup> **蛮社の獄**<sup>ばんしゃごく</sup>…1839年、鎖国政策を批判した蘭学者の<sup>(9)</sup> **渡辺崋山**<sup>わたなべ かせん</sup>、**高野長英**<sup>たかの ちやうえい</sup>らを処罰。
- (5) 雄藩の成長…薩摩藩は黒砂糖の専売制や<sup>(10)</sup> **琉球王国**<sup>りゅうきゅう</sup>を通じた密貿易で経済力をつけた。

西洋はキリスト教徒だから、どこの海辺に来てても居合わせた者が有無をいわさず、ひたすら打ち払い、上陸すればとらえるか、またはうち殺してもよい。

① 異国船打払令

## Warm Up

次の①～③は外国船の日本への来航事件である。それぞれがおこった場所を地図中のア～ウからそれぞれ選びなさい。

- ① モリソン号事件
- ② ラクスマン来航
- ③ フェートン号事件

## 解説

- ① モリソン号事件はアメリカの商船が、鹿児島<sup>かごしま</sup>の山川<sup>さんげん</sup>と神奈川の浦賀<sup>うが</sup>で撃退された事件。  
したがって、答えは ウ。
- ② ラクスマンは漂流民の大黒屋光太夫<sup>おおくろやひくたう</sup>を根室<sup>ねむろ</sup>に送り届け、通商を要求した。  
したがって、答えは ア。
- ③ フェートン号事件はオランダ船をとらえるために、イギリスの軍艦が長崎<sup>ながさき</sup>港に侵入した事件。  
したがって、答えは イ。



## Try

## 1 次の各問いに答えなさい。

- (1) 1792年に根室に来航したロシアの使節はだれか。
- (2) 幕府に命じられ、蝦夷地などの探検をした人物はだれか。
- (3) 鎖国を守るために幕府が1825年に出した法令は何か。
- (4) (3)の法令の対象外とされた国を2つ答えなさい。
- (5) 1839年の蛮社の獄で処罰された蘭学者を2人答えなさい。
- (6) 薩摩藩はどこを通じた密貿易で経済力をつけたか。

## 1

(1)	
(2)	
(3)	
(4)	
(5)	
(6)	

## 5

近世の日本と世界

## 2 年表を読み、各問いに答えなさい。

年代	できごと
1792	( ① ) が根室に来航し漂流民を送り届け、通商を求める。
1804	レザノフが長崎に来航し通商を求めるが、幕府は拒否する。
1808	( ② ) 号がオランダ船を追って長崎港に侵入。
1825	異国船打払令が出される。
1837	( ③ ) 号が来航し漂流民を送り届け、通商を要求。幕府はこれを撃退。

- (1) 年表中の①～③にあてはまる語句を答えなさい。
- (2) 年表中の①～③について、これらに関係する国として正しいものを次のア～エから1つずつ選び、それぞれ記号で答えなさい。  
ア アメリカ    イ イギリス    ウ ポルトガル    エ ロシア
- (3) 年表中の下線部について、幕府の対応を批判し、処罰された人物を次のア～エから1つ選び、記号で答えなさい。  
ア 大塩平八郎    イ 水野忠邦  
ウ 田沼意次    エ 高野長英

## 2

(1)	①	
	②	
	③	
(2)	①	
	②	
	③	
(3)		



## Exercise

**1** P.90の **Point!** を赤シートでかくして、番号順にノートにテストしなさい。

**2** 次の各問いに答えなさい。

- (1) 次の文は1825年に出了れた法令の一部である。この法令の名前を答えなさい。

西洋はキリスト教の国だから、どこの海辺に来てても居合わせた者が有無をいわず、ひたすら打ち払い、上陸すればとらえるか、またはうち殺してもよい。

- (2) ロシアの南下に備えるために、蝦夷地などの探検を行ったのはだれか。  
 (3) モリソン号事件を批判した蘭学者を2人答えなさい。  
 (4) (3)の2人が処罰された事件を何というか。

**3** 次の①～④の文は江戸時代に外国船が日本に來航した事件を説明したものである。それぞれの下線部の名称を答え、事件がおこった場所を地図の **ア～ウ** から選りなさい。ただし、同じ記号を2度選んでもかまわない。

- ① イギリスの軍艦がオランダ船を追って日本の港に侵入した。  
 ② アメリカの商船が漂流民を届け、日本に通商を要求し撃退された。  
 ③ ロシアの使節が通商を要求。漂流民を届け、長崎來航の許可を得る。  
 ④ ロシアの使節が通商を要求。帰路に蝦夷地を襲った。



**2**

(1)	
(2)	
(3)	
(4)	

**3**

①	名称	
	場所	
②	名称	
	場所	
③	名称	
	場所	
④	名称	
	場所	

## 5-10

## 新しい学問と化政文化

映像との対応 / 歴史「新しい学問と化政文化」


## Point!

## (1) 教育の普及と教育施設


- ① 幕府…寛政の改革で湯島聖堂を幕府の学問所として、朱子学を講義。
- ② 諸藩…<sup>(1)</sup> 藩校をつくり、儒学を指導して藩士の教育にあたった。
- ③ 庶民…町や農村に<sup>(2)</sup> 寺子屋が開かれ、子どもたちに読み・書き・そろばんを教えた。

## (2) 学問の発達

- ① <sup>(3)</sup> 国学…日本の古典を研究し、儒教や仏教が伝来する前の日本の文化や、日本人の考え方を明らかにする学問。
  - ・<sup>(4)</sup> 本居宣長…『<sup>(5)</sup> 古事記伝』を著し、国学を大成。のちの尊王論（天皇を敬う思想）や攘夷論（外国人を撃退しようとする思想）に影響をあたえた。
- ② <sup>(6)</sup> 蘭学…オランダ語で西洋の学術や文化を研究する学問。
  - ・<sup>(7)</sup> 杉田玄白は前野良沢らとオランダ語の人体解剖書を翻訳し、『<sup>(8)</sup> 解体新書』を出版。
- ③ その他
  - ・<sup>(9)</sup> 伊能忠敬…西洋の測量術を学び、日本地図を作成。
  - ・関孝和…日本式の数学である和算を確立。

①『<sup>(10)</sup> 解体新書』(3) <sup>(11)</sup> 化政文化…19世紀初めごろ、<sup>(12)</sup> 江戸を中心に発達した<sup>(13)</sup> 町人文化。

- ① 小説
  - ・<sup>(14)</sup> 十返舎一九…こっけい本の『<sup>(15)</sup> 東海道中膝栗毛』を著す。
  - ・滝沢馬琴…長編小説の『南総里見八犬伝』を著す。
- ② 風景画…歌川広重の「東海道五十三次」、<sup>(16)</sup> 葛飾北斎が富士山をかいた「<sup>(17)</sup> 富嶽三十六景」など。
- ③ 美人画…<sup>(18)</sup> 喜多川歌麿の「ポッピンを吹く女」など。
- ④ 狂歌、川柳…和歌や俳諧の形式で政治や社会を皮肉った。
- ⑤ 俳諧…与謝蕪村、小林一茶など。

①「<sup>(19)</sup> 富嶽三十六景」の神奈川沖浪裏

## Warm Up

化政文化とはどのような文化か、簡潔に説明しなさい。

## 解説

元禄文化の中心は上方（京都、大阪）だったが、化政文化の時代には中心が江戸に移った。

(例) 江戸を中心に発達した町人文化。

## Try

## 1 次の各問いに答えなさい。

- (1) 諸藩が藩士の教育のためにつくった学校を何というか。
- (2) 『古事記伝』を著し、国学を大成した人物はだれか。
- (3) オランダ語の人体解剖書を翻訳した人物は前野良沢ともう1人はだれか。
- (4) (3)の人体解剖書は、日本では何という書名で出版されたか。
- (5) 西洋の測量術を学び、精密な日本地図をつくった人物はだれか。
- (6) 19世紀初めに栄えた文化を何というか。
- (7) (6)の文化は、どの都市を中心に栄えたか。
- (8) (6)の文化はどのような身分の人々に広まったか。
- (9) 『東海道中膝栗毛』を書いた人物はだれか。
- (10) 美人画を大成した人物はだれか。
- (11) 「富嶽三十六景」などの風景画を残した人物はだれか。


## 1

(1)	
(2)	
(3)	
(4)	
(5)	
(6)	
(7)	
(8)	
(9)	
(10)	
(11)	

## 2 次の各問いに答えなさい。


- (1) 次の資料に関係の深い人物名を下から1つずつ選んで答えなさい。

資料2



『解体新書』

資料1



『富嶽三十六景』

〔 本居宣長    葛飾北斎    杉田玄白    伊能忠敬 〕

- (2) 西洋の学問をオランダ語を通して研究する学問を何というか。
- (3) 町人や百姓の子どもが通っていた教育施設を何というか。
- (4) (3)の開設数が増え、教育が庶民にまで普及し始めた時代に、江戸を中心に栄えた文化を何というか。ア～エから1つ選び、記号で答えなさい。  
ア 文政文化    イ 天保文化    ウ 化政文化    エ 天明文化
- (5) 十返舎一九の書いたこっけい本のタイトルは何か。

## 2

(1)	資料1	
	資料2	
(2)		
(3)		
(4)		
(5)		




## Exercise

1 P.93の **Point!** を赤シートでかくして、番号順にノートにテストしなさい。

2 江戸時代の文化について、各問いに答えなさい。

- (1) 風景画で優れた作品を残し、右の絵をかいたのはだれか。
- (2) 庶民に「読み・書き・そろばん」など実用的な知識を教えた教育施設を何というか。
- (3) 杉田玄白などがオランダ語で書かれた解剖書を翻訳して出版した書物を何というか。
- (4) 本居宣長は日本の古くからの文化や精神を研究する学問を発展させた。この学問を何というか。
- (5) ヨーロッパの測量技術を用い、日本地図をつくった人物はだれか。
- (6) 美人画を大成し、「ポップンを吹く女」をかいた人物はだれか。




2

(1)	
(2)	
(3)	
(4)	
(5)	
(6)	


3 次の各問いに答えなさい。

- (1) 次のア～ウの絵画から、元禄文化期に成立したものと化政文化期に成立したものを、それぞれ1つずつ選び、記号で答えなさい。

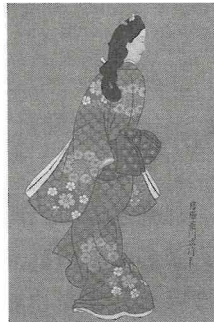
ア



イ



ウ



- (2) 次のア～エの文芸作品から、元禄文化に属するものと化政文化に属するものを、それぞれ1つずつ選び、記号で答えなさい。

ア 『曾根崎心中』    イ 『枕草子』  
ウ 『平家物語』    エ 『東海道中膝栗毛』

- (3) 化政文化の特徴を簡潔に説明しなさい。

3

(1)	元禄文化	
	化政文化	
(2)	元禄文化	
	化政文化	
(3)		

## 6-1

## 市民革命

映像との対応 / 歴史「市民革命」

## Point!

- (1) <sup>(1)</sup> **絶対王政** …国王が議会・貴族・市民などに対して強力な権力を持ち、政治を行うこと。
- (2) <sup>(2)</sup> **市民革命** …商工業者などの市民階級が、自由と平等をめざして絶対王政を倒した革命。
- ① <sup>(3)</sup> **イギリス** …国王が議会を無視した政治を行っていた。
- ・ <sup>(4)</sup> **ピューリタン革命** …1640年ごろ、王政が倒れ、共和政が成立。<sup>(5)</sup> **クロムウェル** が指導。
  - ・ <sup>(6)</sup> **名誉革命** …1688年、議会は国王を追放し、オランダから新国王を迎えた。国民の自由と権利が保障される <sup>(7)</sup> **権利章典** が発布され、議会の承認なしに法律をつくらることができない議会政治が確立した。
- ② <sup>(8)</sup> **アメリカ** …不当な税金をかけるイギリスに不満を持っていた。
- ・ <sup>(9)</sup> **独立戦争** …1775年、<sup>(10)</sup> **ワシントン** を司令官として、13州の人々が立ち上がった。
  - ・ <sup>(11)</sup> **独立宣言** …1776年、人間の平等、自由などを宣言。<sup>(12)</sup> **イギリス** から独立し、初代大統領には <sup>(13)</sup> **ワシントン** が選出された。
- ③ <sup>(14)</sup> **フランス** …国王ルイ16世は三部会で増税を提案。平民は国民議회를結成し反対した。
- ・ 3つの身分…第一身分 <sup>(15)</sup> **聖職者**、第二身分 <sup>(16)</sup> **貴族**、第三身分 <sup>(17)</sup> **平民**
  - ・ <sup>(18)</sup> **フランス革命**  
… <sup>(19)</sup> **1789** 年、パリの民衆がバスチユ牢獄を襲い、革命が始まった。
  - ・ <sup>(20)</sup> **人権宣言** …自由、平等、国民主権などを宣言。  
国王を処刑し共和政が成立した。
- 第1条 人は生まれながらにして <sup>(21)</sup> **自由** で <sup>(22)</sup> **平等** の権利を持っている。

第3条 あらゆる主権の源は、もともと <sup>(23)</sup> **国民** の中にある。
- ・ 1804年、<sup>(24)</sup> **ナポレオン** が国民投票で皇帝となり、ヨーロッパの大部分を支配した。
- (3) 思想家
- ・ <sup>(25)</sup> **ロック** …イギリスの思想家。「社会契約説」にもとづき王に抵抗する権利を主張した。
  - ・ <sup>(26)</sup> **ルソー** …フランスの思想家。「社会契約説」により人民に主権があると主張した。
  - ・ <sup>(27)</sup> **モンテスキュー** …フランスの思想家。『法の精神』を著して「三権分立」を唱えた。

## Warm Up

次の①～③の文書名を、あとの語群から選びなさい。

- ① 国王は、議会の承認なく法律を制定または停止することができない。
- ② 人は生まれながらに、自由で平等な権利を持つ。社会的な区別は、ただ公共の利益に関係のある場合にしか設けられてはならない。…主権の源は、もともと国民の中にある。…
- ③ 我々は以下のことを自明の（真）理であると信じる。人間はみな平等に創られ、ゆずりわたすことのできない権利を神によってあたえられている。

語群 [ 独立宣言 人権宣言 権利章典 ]

## 解説

- ①：「議会の承認」とあるので、**権利章典**。
- ②：「社会的な区別」「主権の源」について述べているので、**人権宣言**。
- ③：「自明の（真）理であると信じる」というのは**独立宣言**中の表現。



## Try

## 1 次の各問いに答えなさい。

- (1) 商工業者などの市民階級が自由と平等を求めて絶対王政を倒した革命を何というか。
- (2) 1640年ごろと1688年に(1)の革命がおこった国はどこか。
- (3) 1640年ごろにクロムウェルが指導した革命を何というか。
- (4) 1688年におこった、オランダから新国王を迎えた革命を何というか。
- (5) (4)の革命の後に発布されたものは何か。
- (6) 1775年に(2)の国からの独立をめざして戦争をおこしたのは現在のどこの国か。
- (7) (6)の戦争を何というか。
- (8) パリの民衆がバスチーユ牢獄を襲撃して始まった革命を何というか。
- (9) (8)の革命がおこったのは西暦何年のことか。
- (10) イギリスの思想家で、「社会契約説」に基づき王に抵抗する権利を主張したのはだれか。
- (11) フランスの思想家で、「社会契約説」により人民に主権があると主張したのはだれか。
- (12) フランスの思想家で、『法の本質』を著して「三権分立」を唱えたのはだれか。
- (13) (8)の革命後、国民投票を経て皇帝となったのはだれか。

## 2 次の各問いに答えなさい。

- (1) 啓蒙思想について次の表の空欄にあてはまる語句や人物名をア～クより選び、記号で答えなさい。

人物名	( ① )	( ② )	( ③ )
国籍	( ④ )	( ⑤ )	( ⑤ )
考え方	社会契約説と抵抗権を唱えた	社会契約説と人民主権を唱えた	三権分立を唱えた。

**ア** アメリカ    **イ** モンテスキュー    **ウ** ロック  
**エ** イギリス    **オ** クロムウェル    **カ** フランス  
**キ** ルソー    **ク** ルター

- (2) 次のA～Cの宣言やきまりを見て、以下の問いに答えなさい。

<b>A</b> 第1条…国王は議会の承認なしに、法律とその効力を停止することはできない。 第4条…国王は議会の承認なく、税金を課すことはできない。	<b>B</b> 第1条…人は生まれながらにして自由で平等の権利を持つ。 第3条…主権の源は、もともと国民にある。	<b>C</b> 我々は以下のことを自明の(真)理であると信じる。人間はみな平等に創られ、ゆずりわたすことのできない権利を神によってあたえられている。
--	---	--

- ① A～Cの資料が出された国をそれぞれ答えなさい。
- ② A～Cの資料を出された年代の古い順に並べかえなさい。

## 1

(1)	
(2)	
(3)	
(4)	
(5)	
(6)	
(7)	
(8)	
(9)	
(10)	
(11)	
(12)	
(13)	

## 2

(1)	①		
	②		
	③		
	④		
	⑤		
(2)	①	A	
		B	
		C	
	②		→



## Exercise

1 P.96の **Point!** を赤シートでかくして、番号順にノートにテストしなさい。

2 次の各問いに答えなさい。


(1) 下の資料はフランス革命勃発後に発表された宣言の一部である。

第1条 人は生まれながらに、【 A 】で平等な権利を持つ。社会的な  
 区別は、ただ公共の利益に関係ある場合にしか、設けられてはならない。  
 第3条 あらゆる主権の源<sup>しゅげん</sup>は、もともと【 B 】の中にある。  
 (部分要約)

- ① この宣言を何というか。  
 ② この宣言のA、Bにあてはまる語句を答えなさい。

(2) 右の絵は、フランス革命前のフランスの社会  
 を風刺したものである。a～cが表している  
 身分を、次から1つずつ選んで答えなさい。

[ 平民 貴族 聖職者 ]



2

(1)	①	
	②	A
(2)	a	
	b	
	c	

3 近代革命と社会の変化について、各問いに答えなさい。

年代	出来事
1640	( ① ) 革命がおこる
1688ごろ	( ② ) 革命がおこる……………A
1775	( ③ ) 戦争が始まる……………B
1789	( ④ ) 革命がおこる……………C

(1) 年表中①～④にあてはまる語句を下のA～コから選び、記号で答えなさい。

A フランス    イ ピューリタン    ウ 東西    エ 栄誉  
 オ オランダ    カ 名誉    キ イギリス    ク 南北  
 ケ 独立    コ ドイツ

(2) 年表中A・B・Cについて、それぞれの出来事の後に出されたもの  
 として適切なものを下のA～ウの中から1つずつ記号で選んで答え  
 なさい。また、それぞれの名称を答えなさい。

A

イ

ウ

人は生まれながらに、  
 自由で ( X ) な権  
 利を持つ。社会的な区  
 別は、ただ公共の利益  
 に関係のある場合にし  
 か設けられてはならな  
 い。

国王は、議会の承認  
 なく法律を制定また  
 は停止することはで  
 きない。

我々は以下のことを自明  
 の真理であると信じる。  
 人間はみな ( X ) に  
 創られ、ゆずりわたすこ  
 とのできない権利を神に  
 よって与えられている。

3

(1)	①	
	②	
	③	
	④	
(2)	A	
	名称	
	B	
	名称	
	C	
	名称	
(3)		

(3) (2)のA・ウの資料中のXに共通して入る語句は何か。

## 6-2

## 産業革命

映像との対応 / 歴史「産業革命」

## Point!

- (1) <sup>(1)</sup> 産業革命 …技術の向上による産業と社会のしくみの変化のこと。
- ① 産業革命は18世紀の後半に <sup>(2)</sup> イギリス の <sup>(3)</sup> 綿織物業<sup>めんおりもの</sup> で始まり、大量生産を行うための技術の改良や機械の発明が次々と生まれた。
- ② イギリスの <sup>(4)</sup> ワット が改良した蒸気機関は、工業の生産力を大きく向上させた。
- ③ イギリスは、安価な製品を世界中に輸出し、「<sup>(5)</sup> 世界の工場」<sup>(5)</sup> とよばれた。
- (2) <sup>(6)</sup> 資本主義 …資本（土地や工場）を所有する資本家が、<sup>(7)</sup> 労働者<sup>(7)</sup> を雇って生産するしくみ。
- ① 産業革命の結果、工場での大量生産が可能になり、資本家と労働者の間で貧富の差が拡大していった。女性や子どもの長時間労働が大きな社会問題になった。
- ② 労働者の間では、労働組合を結成して、労働条件の改善や労働者を保護する法律の制定を目指す動きも見られた。
- (3) <sup>(8)</sup> 社会主義 …土地や工場など生産に必要なものを私的に所有せず、<sup>(9)</sup> 公<sup>おおやけ</sup> の所有とする考え。「貧富の差を生み出す原因は資本主義にある」と批判した <sup>(9)</sup> マルクス<sup>(9)</sup> が主張。

## Warm Up

産業革命について、次の各問いに答えなさい。

- (1) 産業革命とは何か。25字程度で説明しなさい。
- (2) 産業革命後におきた社会問題について、「女性や子ども」という語句を用いて説明しなさい。

## 解説

- (1) (例) 技術の向上による産業と社会のしくみの変化のこと。(24字)
- (2) 産業革命により生まれた資本主義では、資本家が労働者を雇って商品を生産するため、以下のような社会問題がおこった。
- ・商品が売れない不況になるとすぐに労働者が解雇された。
  - ・生産費を安くするため、賃金の安い女性や子どもを長時間働かせた。
- ここでは「女性や子ども」が指定されているので、後のものについて書く。
- (例) 女性や子どもの長時間労働が大きな社会問題となった。

## Try

**1** 次の各問いに答えなさい。

- (1) 18世紀後半、ヨーロッパのある国で始まった、工場での機械生産などの技術向上による社会や経済のしくみの変化を何というか。
- (2) (1)のある国とはどこか。
- (3) (2)の国の工業生産力を大きく向上させた蒸気機関を改良した人物はだれか。
- (4) (1)の結果、(2)の国は何とよばれるようになったか。
- (5) 資本家が労働者を雇って生産する経済のしくみを何というか。
- (6) 貧富の差は(5)に原因があると考え、平等な社会をめざした思想を何というか。
- (7) (6)の思想を唱え、19～20世紀の労働運動に影響をあたえたドイツの思想家はだれか。

**2** 次の各問いに答えなさい。

- (1) 産業革命とは何か。「技術」「変化」という語句を使って説明しなさい。
- (2) 産業革命のころの社会の様子を表すものとして、正しいものを2つ選びなさい。  
**ア** 工場で働く労働者の生活は楽になり、豊かな生活が送れるようになった。  
**イ** 農業の発達で、農村の人口が増加した。  
**ウ** 労働災害や貧富の差をめぐる社会問題が生じた。  
**エ** 綿織物などを中心に、安い製品を大量に生産できるようになった。
- (3) 産業革命によって、資本を持つものが ( ① ) を雇って生産するしくみが広まった。このような経済のしくみを ( ② ) という。  
 ①, ②に入る適語を答えなさい。
- (4) 産業革命の結果、どのような社会問題がおこってきたか。簡潔に説明しなさい。
- (5) (4)の問題を解決するために、( ① ) は『資本論』を著して ( ② ) 主義を唱えた。①, ②に入る適語を答えなさい。

**1**

(1)	
(2)	
(3)	
(4)	
(5)	
(6)	
(7)	

**2**

(1)	
(2)	
(3)	①
	②
(4)	
(5)	①
	②



## Exercise

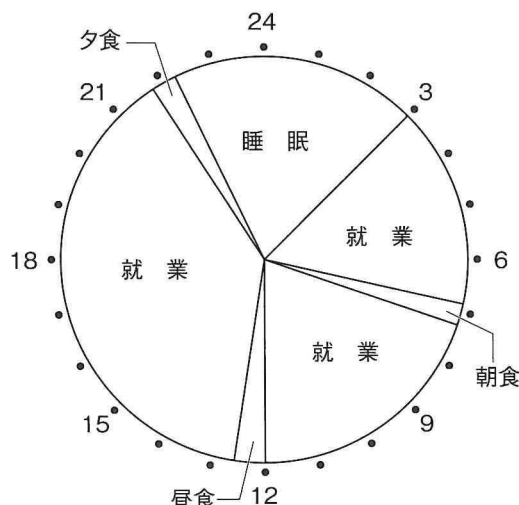
**1** P.99の **Point!** を赤シートでかくして、番号順にノートにテストしなさい。

**2** 次の各問いに答えなさい。

- (1) 1789年のフランス革命と同じころ、「製品を機械で生産する工業」が始まった。この産業の変化を何というか。
- (2) (1)が世界で初めておこった国はどこか。
- (3) (1)の結果、(2)の国は「世界の( )」とよばれるようになった。( )にあてはまる語句を答えなさい。
- (4) (1)の結果、資本家と労働者の格差が拡大したことを批判して、社会主義の思想を主張した人物はだれか。

**3** イギリスの産業革命について、次の各問いに答えなさい。

- (1) 産業革命はどのような産業から始まったか。[ ]の中から1つ選びなさい。  
[ 造船業 製鉄業 綿織物業 毛織物業 ]
- (2) 資本主義とは、どのような生産活動をするしくみか。「資本家」「労働者」という語句を用いて説明しなさい。
- (3) 右の資料は「繊維工場働く子どもの1日」を示したものである。この資料から読み取ることができる、当時の労働問題は何か。
- (4) (3)のような労働問題を受けて、労働者を中心に平等な社会をめざそうとする考え方が生まれた。この考えを何主義というか。



**2**

(1)	
(2)	
(3)	
(4)	

**3**

(1)	
(2)	
(3)	
(4)	

## 6-3

## 欧米諸国の発展

映像との対応 / 歴史「欧米諸国の発展」

## Point!

## (1) ドイツ

- ① 19世紀のドイツは、多くの国々が分立していた。そのなかで、強大な軍事力と経済力を持っていたプロイセン王国が諸国をまとめた。
- ② プロイセンの首相の<sup>(1)</sup> **ビスマルク**は<sup>(2)</sup> **鉄血政策**とよばれる富国強兵をおし進め、工業が急速に発展した。
- ③ オーストリアやフランスとの戦争に勝利し、1871年に統一国家である<sup>(3)</sup> **ドイツ帝国**を建国した。

## (2) ロシア

19世紀中ごろ、ロシア帝国は不凍港（冬でも使える港）を手に入れるため、黒海や地中海沿岸へ進出し、南に勢力をのばす<sup>(4)</sup> **南下政策**を取り、オスマン帝国（トルコ）に宣戦したが敗戦。

## (3) アメリカ

- ① イギリスから独立したアメリカは、19世紀中ごろ、<sup>(5)</sup> **奴隷制度**に反対する北部と<sup>(6)</sup> **自由貿易**を主張する南部に分かれて対立が激しくなった。
- ② <sup>(7)</sup> **南北戦争**…1861年に開戦。北部を率いた<sup>(8)</sup> **リンカン**大統領は「<sup>(9)</sup> **人民の、人民による、人民のための政治**」の一節で有名な演説を行い、1863年に<sup>(10)</sup> **奴隷解放宣言**を出した。1865年に北部が勝利して終結。
- ③ 南北戦争後、大陸横断鉄道が開通し、工業が急速に発展した。

## Warm Up

- (1) 19世紀中ごろのロシアが行った南下政策とは何か、説明しなさい。
- (2) 19世紀のアメリカでおこった南北戦争について、誤っているものを1つ選びなさい。
- ア リンカンが率いる北部が勝利を収めた。
- イ 北部は大農場で奴隷による綿花の栽培を行っていた。
- ウ 南部は自由貿易を求めている。
- エ この戦争後、大陸横断鉄道が開通した。

## 解説

- (1) 北方に位置するロシアでは冬に港が凍結してしまう。不凍港を手に入れるため、ロシアは南に領土を広げようとする傾向がある。
- (例) 不凍港を手に入れるため、黒海や地中海沿岸に進出し南に勢力をのばすこと。
- (2) 奴隷制度を支持したのは南部。理由は綿花栽培の労働者として奴隷が必要だったため。したがってイが誤り。
- イ

## Try

**1** 次の各問いに答えなさい。

- (1) 1871年、鉄血政策を進めた人物を首相として建国された帝国名を答えなさい。
- (2) (1)の首相とはだれか。
- (3) アメリカで1861年におこった内戦を何というか。
- (4) (3)の戦争で、対立の焦点となった問題は何か。2つ答えなさい。
- (5) (3)の戦争で北部を勝利に導いた指導者はだれか。
- (6) (5)の人物が出した宣言を何というか。
- (7) (5)の人物は、「( )の、( )による、( )のための政治」と演説した。文中の( )に共通してあてはまる語句を答えなさい。

**2** 19世紀の欧米諸国についてのA～Cの文を読み、各問いに答えなさい。

- A** この国では皇帝の専制政治が続き、たえず南に勢力をのばしていった。また、近代化の必要性から農奴を解放した。
- B** この国では貿易や奴隷制度をめぐる内戦がおこった。大陸横断鉄道を開通させ、工業もめざましく発展していった。
- C** 富国強兵をすすめたこの国はオーストリアやフランスと戦い、その後統一した帝国をつくった。
- (1) A～Cの国名を答えなさい。
  - (2) Aの国の「たえず南に勢力をのばしていった」政策を何というか。
  - (3) Bの国の内戦は北部と南部に分かれて行われた。勝利したのはどちらか。
  - (4) Cの国で富国強兵をすすめ、「鉄血宰相」とよばれた人物はだれか。

**3** 19世紀中ごろ、ロシアが行った対外政策を、「黒海や地中海」という語句を用いて説明しなさい。**1**

(1)	
(2)	
(3)	
(4)	
(5)	
(6)	
(7)	

**2**

(1)	A	
	B	
	C	
(2)		
(3)		
(4)		

**3**

--



## Exercise

**1** P.102の **Point!** を赤シートでかくして、番号順にノートにテストしなさい。

**2** 次の各問いに答えなさい。

- (1) 19世紀に、小国が分立していたドイツを統一したプロイセンの首相はだれか。
- (2) (1)の人物が行った政策を何というか。
- (3) (1)の指導の下、統一された国を何というか。
- (4) アメリカで貿易や奴隷制度をめぐる対立からおきた内戦を何というか。
- (5) (4)のときの大統領で、奴隷解放宣言を行ったのはだれか。

**2**

(1)	
(2)	
(3)	
(4)	
(5)	

**3** 世界進出をめざす欧米諸国について、次の各問いに答えなさい。

- (1) ロシアが黒海から地中海へ出るルートを求めて進めた政策を何というか。
- (2) 19世紀のアメリカが北部と南部に分かれて対立した内戦の様子について、正しいものを1つ選びなさい。  
**ア** 南部の経済は工業によって支えられていた。  
**イ** リンカンが1863年に奴隷解放を宣言した。  
**ウ** 北部は自由貿易を求めている。  
**エ** この内戦は南部が勝利を収めた。
- (3) (2)の内戦中、リンカンは演説を行った。次の演説の英文を日本語で意味の通じるように訳しなさい。

**3**

(1)	
(2)	
(3)	

government of the people, by the people, for the people

## 6-4

## 欧米諸国のアジア侵略

映像との対応 / 歴史「欧米諸国のアジア侵略」

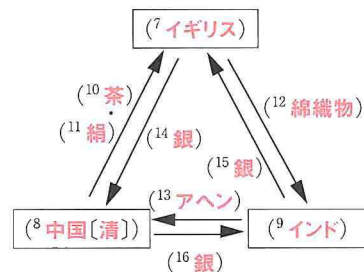
## Point!

## (1) 欧米諸国のアジア侵略

① (¹ **イギリス**) のアジア貿易…産業革命後、工業製品を売るために、アジア諸国に市場の開放を要求した。(² **中国** [清]) との貿易は大幅な赤字であった。

(³ **三角貿易**) …貿易赤字削減のために行う。


- ・中国からイギリス…(⁴ **茶**, **絹**) を輸出。
- ・イギリスからインド…工業製品や(⁵ **綿織物**) を輸出。
- ・インドから中国…インド産の麻薬(⁶ **アヘン**) を密輸。



① 三角貿易

② (¹⁷ **アヘン戦争**) …1840年、(¹⁸ **イギリス**) と(¹⁹ **中国** [清]) の間でおこった戦争。中国[清]によるアヘン密輸の取りしまり強化がきっかけ。近代的な兵力を持つイギリスが勝利。

③ (²⁰ **南京条約**) …1842年、中国[清]は(²¹ **香港**) をイギリスにゆずり、多額の賠償金を支払った。さらに翌年、イギリスに



② アヘン戦争

(²² **領事裁判権** [治外法権] を認め)、中国に(²³ **関税自主権がない**) 不平等条約を押しつけられた。

- ・領事裁判権[治外法権]を認める…国内で罪を犯した外国人を自国の法律で裁けない。
- ・関税自主権がない…輸入品にかかる関税の率を自主的に決める権利がない。

## (2) 各地の反乱

① (²⁶ **太平天国の乱**) …アヘン戦争後、中国の農民の生活はますます苦しくなった。

(²⁷ **洪秀全**) が農民を率いて兵をあげ、各地に反乱が広まった。

② (²⁸ **インド大反乱**) …1857年におきたイギリスの支配に対する大反乱。イギリスの安い綿製品が大量に流入したことにより、インドの綿布産業は大打撃を受けていた。イギリスは(²⁹ **ムガル帝国**) (当時のインドの王朝) を滅ぼし、インドの植民地支配を強化した。

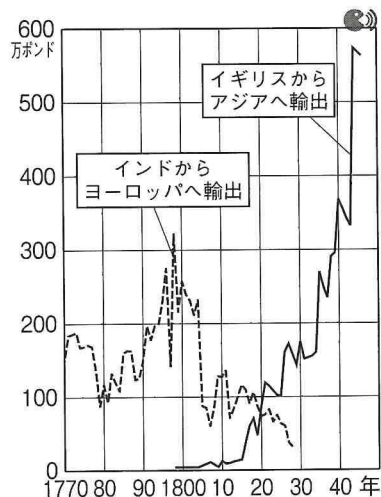
## Warm Up

右のグラフはイギリスとインドの綿布輸出額を表している。1830年代にイギリスからアジアへの輸出が急増した理由を説明しなさい。

## 解説

イギリスは産業革命によって大量に綿布を生産できるようになっており、インドにイギリスの綿布が流入した。これにより、インドの綿布産業は大打撃を受け、インド大反乱の一因となった。

(例) 産業革命により、大量に綿織物をつくることができたから。



## Try

## 1 次の各問いに答えなさい。

- (1) 19世紀前半にアジアでイギリスの植民地となっていたのはどこか。
- (2) イギリスは(1)の国に工業製品を輸出した。この工業製品とは何か。
- (3) イギリスは東アジアのある国との貿易で大幅な赤字だった。ある国とはどこか。
- (4) (3)の国からイギリスへは、おもに何が輸出されていたか。2つ答えなさい。
- (5) イギリスが(3)の国との貿易赤字削減のために行った貿易を何というか。
- (6) (1)の国から(3)の国には、麻薬が密輸された。この麻薬は何か。
- (7) 1840年にイギリスと(3)の間でおこった戦争を何というか。
- (8) (7)の戦争の結果、何という条約が結ばれたか。
- (9) (7)の戦争に敗れた(3)はイギリスにどこをゆずることになったか。
- (10) 中国で洪秀全が農民を率いておこした反乱を何というか。
- (11) 1857年、イギリス人に雇われていたインド人兵士が反乱をおこすと、反英感情を持つ多くの人々がこれに加わり、大規模な反乱となった。これを何というか。
- (12) (11)の反乱をしずめたイギリスが滅ぼした、当時のインドの王朝の名前を答えなさい。

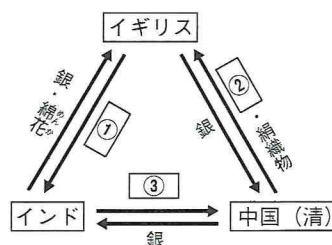
## 1

(1)	
(2)	
(3)	
(4)	
(5)	
(6)	
(7)	
(8)	
(9)	
(10)	
(11)	
(12)	

## 2 次の各問いに答えなさい。

- (1) 右の図は19世紀前半の3国の貿易の様子を、示している。①～③にあてはまる語句を次から1つずつ選んで答えなさい。

〔 香辛料    生糸    アヘン 〕  
〔 綿織物    米    茶 〕



- (2) (1)のような貿易を何というか。
- (3) 1840年にイギリスと中国(清)の間でおこった戦争を何というか。
- (4) (3)の戦争の後、中国(清)はイギリスと南京条約を結んだ。その内容として正しいものをア～エから1つ選び、記号で答えなさい。  
 ア 賠償金を中国(清)に支払う。  
 イ 香港を日本にゆずる。  
 ウ 中国(清)はイギリスに領事裁判権を認める。  
 エ イギリスは中国(清)の関税自主権を認める。
- (5) 1857年のインド人兵士の反乱をきっかけに、インド各地に広まった反乱を何というか。

## 2

(1)	①	
	②	
	③	
(2)		
(3)		
(4)		
(5)		



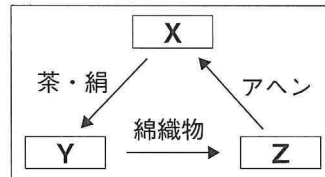
## Exercise

1 P.105の **Point!** を赤シートでかくして、番号順にノートにテストしなさい。

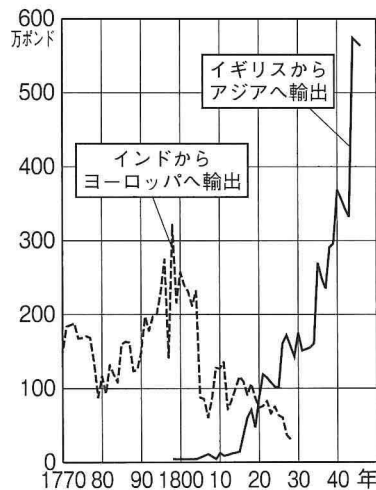
2 19世紀のヨーロッパとアジアの貿易関係を示した右の図を見て、各問いに答えなさい。

- (1) 図中の **X** ~ **Z** にあてはまる国名を次から1つずつ選んで答えなさい。

〔 清    アメリカ    イギリス 〕  
〔 インド    フランス 〕




- (2) 19世紀前半に**X**と**Y**は戦争を行うが、この戦争を何というか。
- (3) (2)の講和条約の内容などに反発して、**X**の国内に広まった内乱を何というか。
- (4) (3)の指導者はだれか。
- (5) 右のグラフはインドとイギリスの綿布輸出額を表している。イギリスからアジアへの輸出が急増した理由を「産業革命」という語句を使って説明しなさい。
- (6) 1857年にインドでおきたイギリスに対する大規模な反乱は何か。



3 右の絵は1840年におきた戦争の様子である。次の各問いに答えなさい。

- (1) この戦争を何というか。
- (2) 右の絵の **A**, **B** の船は、それぞれどこの国の船か。
- (3) この戦争の結果、結ばれた条約名を答えなさい。
- (4) (3)の条約によって、**B**の国が**A**の国からゆずり受けた都市の名前を答えなさい。
- (5) (3)の条約を結んだ後、**A**の国は**B**の国と不平等条約を結んだ。**A**の国にとって不平等とされる理由を2つ、簡潔に説明しなさい。



2

(1)	X	
	Y	
	Z	
(2)		
(3)		
(4)		
(5)		
(6)		

3

(1)		
(2)	A	
	B	
(3)		
(4)		
(5)		

6

市民革命・欧米の侵略・明治維新

## 6-5

## 開国

映像との対応 / 歴史「開国」

## Point!

## (1) 黒船来航

① 1853年, アメリカの使節 (<sup>1</sup> **ペリー**) が4隻の軍艦を率いて (<sup>2</sup> **浦賀**) (神奈川県) に来航し, 日本に開国をせまった。

② (<sup>3</sup> **日米和親条約**) …1854年に結ぶ。(<sup>4</sup> **下田**) (静岡県) と (<sup>5</sup> **函館**) (北海道) を開港。

③ (<sup>6</sup> **日米修好通商条約**)

…1858年に結んだ条約。アメリカ総領事 (<sup>7</sup> **ハリス**) と大老 (<sup>8</sup> **井伊直弼**) が結んだ。アメリカとの貿易が始まる。(<sup>9</sup> **函館**, **神奈川** [横浜], **長崎**, **新潟**, **兵庫** [神戸]) の5港を開港。アメリカに (<sup>10</sup> **領事裁判権** [治外法権] を認め), 日本に (<sup>11</sup> **関税自主権がない**) 不平等条約であった。

・領事裁判権 [治外法権] を認める…外国人が日本国内で罪を犯しても, 日本の法律で裁くことができない。

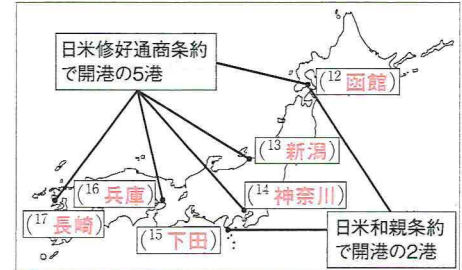
・関税自主権がない…輸入品の関税率を決める権利がない。

## (2) 開国の影響…最大の貿易港は横浜で, 貿易相手国はイギリスが中心であった。

① 安政の大獄…1858~59年, (<sup>18</sup> **井伊直弼**) が開国反対派を弾圧。吉田松陰らを処刑。

② (<sup>19</sup> **桜田門外の変**) …1860年, 弾圧に反発した水戸藩の元藩士らに (<sup>20</sup> **井伊直弼**) が暗殺される。

③ 貿易の開始…日本は毛織物や綿織物, 武器を輸入し, 生糸や茶を輸出した。関税自主権がないため外国産の綿製品が安く流入し, 国内の産地は打撃を受けた。また, 生糸や茶は商人に買い占められて品不足になった。



① 日米和親条約と日米修好通商条約の開港地

## Warm Up

日本とアメリカが結んだ日米修好通商条約について, 内容が誤っているものを次のア~エの中から1つ選び, 記号で答えなさい。

ア アメリカの総領事ハリスと江戸幕府の大老井伊直弼によって結ばれた。

イ この条約によって開港された港は下田, 函館の2港である。

ウ 日本はアメリカに領事裁判権を認めた。

エ 日本に関税自主権がなかったため, 輸入品に自由に関税をかけられなかった。

## 解説

日米修好通商条約で開港された港は函館, 神奈川 [横浜], 長崎, 新潟, 兵庫 [神戸] の5港である。

イの下田, 函館は日米和親条約で開港された港。

イ

Try

1 次の各問いに答えなさい。

- (1) 1853年に4隻の軍艦を率いて日本に来航したアメリカの使節はだれか。
- (2) (1)の人物は日本のどこに来航したか。
- (3) (1)の人物が再び来航した1854年に結ばれた条約を何というか。
- (4) (3)の条約で日本が開港した港を2つ答えなさい。
- (5) 1858年に日本とアメリカが結んだ条約を何というか。
- (6) (5)の条約を結んだアメリカの総領事はだれか。
- (7) (5)の条約を結んだ江戸幕府の大老はだれか。
- (8) (5)の条約で開かれた港を函館、長崎、新潟以外に2つ答えなさい。
- (9) (5)の条約は日本にとって不平等な内容であったが、その内容を2つ答えなさい。
- (10) 1860年に(7)の人物が暗殺されたできごとを何というか。

1

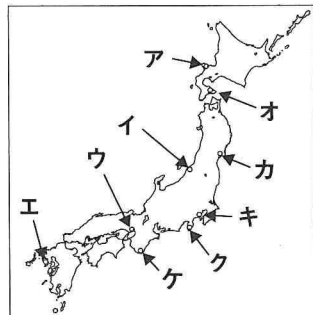
(1)	
(2)	
(3)	
(4)	
(5)	
(6)	
(7)	
(8)	
(9)	
(10)	

2 年表と地図を見て、次の各問いに答えなさい。

年表

年代	できごと
1853	( ① ) が浦賀に来航する
1854	( ② ) 条約が結ばれる……………A
1858	( ③ ) 条約が結ばれる……………B
1860	桜田門外の変がおこる……………C

地図



- (1) 年表中の①～③にあてはまる語句を答えなさい。
- (2) 年表中のAの条約によって開港された港を地図中のア～ケからすべて選び、記号で答えなさい。
- (3) 年表中のBの条約によって開港された港を地図中のア～ケからすべて選び、記号で答えなさい。
- (4) 年表中のCについて、この事件で暗殺された人物はだれか。

2

(1)	①	
	②	
	③	
(2)		
(3)		
(4)		

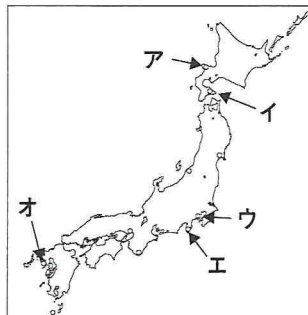


## Exercise

1 P.108の **Point!** を赤シートでかくして、番号順にノートにテストしなさい。

2 年表と地図を見て、各問いに答えなさい。

年代	できごと
1853	アメリカの ( ① ) が浦賀に来航する
1854	日米和親条約を結ぶ……………A
1858	( ② ) 条約を結ぶ
1860	幕府の大老が暗殺される……………B



- (1) 年表中の①にあてはまる人物名を答えなさい。
- (2) 年表中のAにより開かれた港の位置を地図中のア～オから2つ選び、記号で答えなさい。
- (3) 年表中の②にあてはまる語句を答えなさい。
- (4) 年表中のBで暗殺された幕府の大老はだれか。
- (5) 年表中のBの事件を何というか。

3 下のA・Bの資料について、次の各問いに答えなさい。

A	B
第2条 (開港) ( ア )・函館の両港について、日本政府はアメリカ船が薪・水・食料・石炭などを補給するために渡来することを許可する。	第3条 (開港) ( ア ), 函館港以外の次の場所を開港する。 ( イ ), 長崎, 新潟, 兵庫 第4条 日本国内における輸出入の物品については… 第6条 日本人に対して法を犯したアメリカ人は…

- (1) Aについて答えなさい。
  - ① この条約名を答えなさい。
  - ② ( ア ) にあてはまる地名を答えなさい。
- (2) Bについて答えなさい。
  - ① この条約名を答えなさい。
  - ② ( イ ) にあてはまる地名を答えなさい。
  - ③ この条約は日本にとって不利な不平等条約であった。その内容を裁判と貿易の2点から簡潔に答えなさい。

2

(1)	
(2)	
(3)	
(4)	
(5)	

3

(1)	①	
	②	
(2)	①	
	②	
	③	

## 6-6

## 江戸幕府の滅亡

映像との対応 / 歴史「江戸幕府の滅亡」

## Point!

## (1) 倒幕への運動

- ① (1 尊王攘夷運動) … (2 天皇を尊び、欧米の勢力を打ち払おうとする) 運動。
- ・運動の中心だった (3 薩摩藩) は薩英戦争でイギリスに敗れ、(4 長州藩) はイギリスなどの四国艦隊から攻撃を受け、攘夷は不可能であると自覚した。
  - ・薩摩藩では西郷隆盛、大久保利通ら、長州藩では高杉晋作、(5 木戸孝允) らの中・下級武士が藩の実権をにぎり、倒幕運動を進めた。
- ② (6 薩長同盟) …1866年、幕府を倒し、欧米の勢力に対抗できる政権をつくるため、土佐藩出身の (7 坂本龍馬) らの仲立ちで薩長両藩が同盟を結んだ。

## (2) 幕府の滅亡

- ① (8 大政奉還) …1867年、15代将軍 (9 徳川慶喜) が朝廷に政権を返上した。朝廷は (10 王政復古の大号令) (天皇の政治にもどることや幕府の廃止を宣言) を出す。これによって約260年続いた江戸幕府は事実上滅亡した。民衆は世直しを期待して各地で打ちこわしや一揆を行い、社会への不安から「(11 ええじゃないか)」とはやしたてながらおどるさわぎが広がった。
- ② (12 戊辰戦争) …新政府軍と旧幕府軍の戦い。
- 1868年1月の (13 鳥羽・伏見の戦い) に始まり、1869年5月の五稜郭の戦いまで約1年半にわたって続いた。新政府軍が勝ち、国内を平定した。

## Warm Up

倒幕への流れに関して、次の各問いに答えなさい。

- (1) 尊王攘夷運動とはどのような運動か。「天皇」「欧米」という語句を使って簡潔に説明しなさい。
- (2) 大政奉還とはどのようなことか。「将軍」「朝廷」という語句を使って簡潔に説明しなさい。

## 解説

- (1) 「尊王」とは天皇を尊ぶ、「攘夷」とは欧米の勢力を打ち払う、という意味。  
江戸幕府が朝廷の許可なく日米修好通商条約を結んだことで高まった運動である。  
(例) 天皇を尊び、欧米の勢力を打ち払おうとする運動。
- (2) (例) 将軍の徳川慶喜が朝廷に政権を返上したこと。

## Try

## 1 次の各問いに答えなさい。

- (1) 天皇を尊び、欧米の勢力を打ち払おうとする運動を何というか。
- (2) 1866年、薩摩藩と長州藩が結んだ同盟を何というか。
- (3) (2)の同盟の仲介をした土佐藩出身の人物はだれか。
- (4) 江戸幕府の15代将軍はだれか。
- (5) (4)の人物が朝廷に政権を返上したことを何というか。
- (6) (5)のあと、天皇の政治にもどることや幕府の廃止が宣言されたが、これを何というか。
- (7) 新しい世の中への期待と不安から、民衆が「(      )」とはやしたてながら踊る騒ぎがおこった。(      )にあてはまる語句を答えなさい。
- (8) 1868年1月に京都近郊でおこった新政府軍と旧幕府軍の戦いを何というか。
- (9) (8)の戦い以降、約1年半続いた新政府軍と旧幕府軍の一連の戦いを何というか。

## 1

(1)	
(2)	
(3)	
(4)	
(5)	
(6)	
(7)	
(8)	
(9)	

## 2 次の年表を見て、あとの各問いに答えなさい。

年代	できごと
1867	大政奉還が行われる……………A
1867～1868	人々が「( ① )」とはやしたてながら踊る騒ぎがおこる
1867	朝廷が( ② )の号令を発する
1868	新政府軍と旧幕府軍の戦いがおこる……………B

- (1) 年表中の①、②にあてはまる語句を答えなさい。
- (2) 年表中のAについて、次の各問いに答えなさい。
  - ① 大政奉還を行った江戸幕府の将軍はだれか。
  - ② 大政奉還を「政権」という語句を使って簡潔に説明しなさい。
- (3) 年表中のBについて、この戦いを何というか。

## 2

(1)	①	
	②	
(2)	①	
	②	
(3)		



## Exercise

**1** P.111の **Point!** を赤シートでかくして、番号順にノートにテストしなさい。

**2** 次の各問いに答えなさい。

- (1) 尊王攘夷運動とはどのような運動か。次の①, ②にあてはまる語句を答えなさい。  
( ① ) を尊び, ( ② ) の勢力を排除しようとする運動。
- (2) 次の **A**, **B**は何という藩について述べたものか答えなさい。  
**A** イギリスなどの四国艦隊に下関砲台を占領され, 攘夷が不可能だと知った。  
**B** 薩英戦争とよばれるイギリスとの戦いに敗れた。
- (3) 尊王攘夷運動の中心となった(2) **A**の藩の中心人物を **ア**～**エ**から1つ選び, 記号で答えなさい。  
**ア** 木戸孝允    **イ** 大久保利通  
**ウ** 坂本龍馬    **エ** 西郷隆盛
- (4) (2)の **A**と **B**の藩は1866年に (       ) 同盟を結んだ。(       ) にあてはまる語句を答えなさい。
- (5) (4)の同盟成立に貢献した土佐藩出身の人物はだれか。

**2**

(1)	①	
	②	
(2)	<b>A</b>	
	<b>B</b>	
(3)		
(4)		
(5)		

**3** 年表を見て、次の各問いに答えなさい。

- (1) 年表中の①～④にあてはまる語句を答えなさい。
- (2) 年表中 **A**が朝廷の許可なく結ばれたことから高まった運動の名前を答えなさい。また、その運動はどのような運動か、簡潔に説明しなさい。
- (3) 年表中の **X**に入る語句として正しいものを **ア**～**エ**から選びなさい。  
**ア** 長州    **イ** 土佐    **ウ** 薩摩    **エ** 会津
- (4) 年表中の **B**のできごとを何というか。漢字4文字で答えなさい。
- (5) 年表中の **C**の戦いで始まり、年表中の **D**の戦いで終わった、新政府軍と旧幕府軍の戦いを何というか。

年代	できごと
1858	日米修好通商条約が結ばれる…………… <b>A</b>
1860	桜田門外の変がおこる
1864	四国艦隊が <b>X</b> 藩を攻撃する
1866	( ① ) 同盟が結ばれる
1867	( ② ) が政権を朝廷に返上する…… <b>B</b>
1867	( ③ ) の大号令が出される
1868	( ④ ) の戦いがおこる…………… <b>C</b>
1869	五稜郭の戦いがおこる…………… <b>D</b>

**3**

(1)	①	
	②	
	③	
	④	
(2)	運動	
	説明	
(3)		
(4)		
(5)		

## 6-7

## 明治政府の成立

映像との対応 / 歴史「明治政府の成立」

## Point!

(1) <sup>(1)</sup> 明治維新 …日本が近代国家になるための一連の改革と、それにともなう社会の動き。

(2) <sup>(2)</sup> 藩閥政治 …新政府の実権は、倒幕の中心であった一部の藩や公家が握っていた。

(3) 新政府の方針

① <sup>(3)</sup> 五箇条の御誓文 …1868年に出された新政府の政治の基本方針。

一、広ク<sup>(6)</sup> 会議ヲ興シ、万機公論ニ決スベシ

② 五榜の掲示…庶民の守るべきことがらを示した。

⑦ <sup>(7)</sup> 五箇条の御誓文 (一部抜粋)

③ 江戸を<sup>(4)</sup> 東京と改め、年号を慶応から<sup>(5)</sup> 明治に改めた。




(4) 中央集権国家の形成

① <sup>(8)</sup> 版籍奉還 …1869年、藩主〔大名〕に土地と人民の支配権を朝廷へ返上させた。藩ごとの封建制度をなくし、新政府による全国統一をめざした。

② <sup>(9)</sup> 廃藩置県 …1871年、藩を廃止して全国に府と県を置き、中央から府知事・県令〔県知事〕を派遣して地方政治にあたらせた。

③ 四民平等…新政府は江戸時代の身分制度を廃止し、天皇の一族を皇族、公家や大名を華族、武士を<sup>(10)</sup> 士族、町人や百姓を<sup>(11)</sup> 平民とし、皇族以外は平等とした。

・<sup>(12)</sup> 解放令 …1871年、えた・ひにんとして差別されていた人々も平民となった。



⑩ 人口の割合 (1872年)  
(関山直太郎「近世日本の人口構造」)

## Warm Up

明治時代初期のころについて書かれた次のア～エの文のうち、正しいものを1つ選んで記号で答えなさい。

ア 五箇条の御誓文には、天皇中心の政治に戻ることや幕府の廃止について書かれている。

イ 1869年に大名に土地と人民を返させる大政奉還が行われた。

ウ 1871年に新政府は藩を廃止して府と県を置く廃藩置県を実施した。

エ 江戸時代の身分制度を廃止し、武士は華族とされた。

## 解説

「正しいもの」を選ぶ問題は、「間違っているもの」を消去して選ぶ。

ア…「天皇中心の政治に戻る」とあるので「王政復古の大号令」の内容。

イ…土地(版)、人民(籍)とあるので「版籍奉還」の内容。

エ…武士の身分は華族ではなく士族とされた。

したがって正しいのはウ。

ウ

## Try

## 1 次の各問いに答えなさい。

- (1) 明治政府が進めた諸改革と、それにともなっておこった社会の動きを何というか。
- (2) 1868年に出された明治新政府の基本方針を何というか。
- (3) 江戸は何という名称に改められたか。
- (4) 1868年に、元号は何に改められたか。
- (5) 明治政府は藩主〔大名〕に土地と人民の支配権を返上させたが、これを何というか。
- (6) 1871年、藩を廃止して全国に府と県を置いた。これを何というか。
- (7) かつての武士は何とよばれるようになったか。
- (8) かつての百姓や町人は何とよばれるようになったか。
- (9) 明治初期の段階で、日本の人口のうち最も高い割合を占めていたのは、何とよばれる人々か。

## 2 次の各問いに答えなさい。

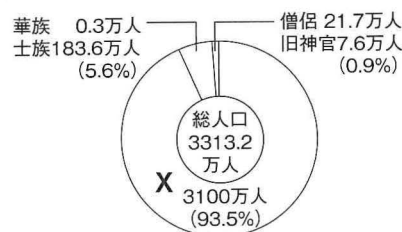
- (1) 下の資料は天皇が神に誓う形で出されたものの一部である。

一、広ク（ ）ヲ興シ、万機公論ニ決スベシ  
 一、智識ヲ世界ニ求メ、大ニ皇基ヲ振起スベシ

- ① 資料は何とよばれる宣言か、答えなさい。
- ② 資料中の（ ）にあてはまる語句を答えなさい。
- ③ 資料からわかる政府の基本方針を、次のア～エより2つ記号で答えなさい。  
 ア 世論を大切にして政治を進める。  
 イ 上下の身分の区別をはっきりさせる。  
 ウ キリスト教を禁止する。  
 エ 外国と盛んに交流する。

- (2) 明治時代の身分について、以下の問いに答えなさい。

- ① 右のグラフのXにあてはまる人々を何というか。
- ② Xの人々にはえた・ひにんとして差別されていた人々も含まれている。これらの人々をXに含めるように命じた法令を何というか。



## 1

(1)	
(2)	
(3)	
(4)	
(5)	
(6)	
(7)	
(8)	
(9)	

## 2

(1)	①	
	②	
	③	
(2)	①	
	②	




## Exercise

**1** P.114の **Point!** を赤シートでかくして、番号順にノートにテストしなさい。

**2** 年表とグラフを見て、各問いに答えなさい。

年代	できごと
1868	明治政府が新しい政治の方針を定める…………… <b>A</b>
1869	土地と人民を政府に返させる… <b>B</b>
1871	藩をなくし、県を設置する…………… <b>C</b>
	えた・ひにんとされていた人々を平民とする…………… <b>D</b>



- (1) 年表中の**A**から始まる、近代化のために進められた一連の改革を何というか。
- (2) 年表中の**A**～**D**の歴史上の名称を答えなさい。
- (3) 上のグラフの①にあてはまる人々の名称を、次の**A**～**E**から1つ選び、記号で答えなさい。

**A** 士族    **I** 華族    **ウ** 僧侶    **E** 平民

**3** 次の各問いに答えなさい。

- (1) 次の①～③のことがらを説明したものを**A**～**E**から選んで記号で答えなさい。

① 五箇条の御誓文    ② 版籍奉還    ③ 廃藩置県

**A** 藩を廃止し府と県を置くこと  
**I** 明治新政府の方針のこと  
**ウ** 幕府が持つ政権を朝廷に返上すること  
**E** 人と土地を天皇に返上すること

- (2) 明治の新政府について、右の表に見られるように、倒幕の中心であった薩摩・長州・土佐・肥前の4藩や一部の公家が実権を握っていた政治のことを何というか。

役職名	氏名	出身
太政大臣	三条実美	公家
右大臣	岩倉具視	公家
参議	西郷隆盛	薩摩
参議	木戸孝允	長州
参議	板垣退助	土佐
参議	大隈重信	肥前

- (3) 四民平等について説明した次の**A**～**E**の文のうち、誤っているものを1つ選んで記号で答えなさい。

**A** 天皇の一族は皇族、大名や公家は華族とされた。  
**I** 武士は士族とされ、当時の人口全体の9割以上を占めていた。  
**ウ** 百姓や町人は平民とされ、名字を名乗ることが許された。  
**E** えた・ひにんは解放令により、平民とされた。

**2**

(1)	
(2)	<b>A</b>
	<b>B</b>
	<b>C</b>
	<b>D</b>
(3)	

**3**

(1)	①	
	②	
	③	
(2)		
(3)		

## 6-8

## 維新の改革と文明開化

映像との対応 / 歴史「維新の改革と文明開化」

## Point!


維新の三大改革…教育制度の<sup>(1)</sup> **学制**、兵制の<sup>(2)</sup> **徴兵令**、税制の<sup>(3)</sup> **地租改正**のこと。国を豊かにし、強い軍隊をつくる<sup>(4)</sup> **富国強兵**をスローガンとした。

(1) **学制**の公布…1872年、満<sup>(5)</sup> **6**歳以上の男女に小学校教育を受けさせることを義務づけた。

(2) **徴兵令**…1873年、<sup>(6)</sup> **満20歳になった男子**に兵役を義務づけた。

(3) **地租改正**…1873年、<sup>(7)</sup> **国家の財政を安定させる**ため実施。

土地所有者に<sup>(8)</sup> **地券**を発行し、<sup>(9)</sup> **地租**を地価の<sup>(10)</sup> **3**%と定め、<sup>(11)</sup> **現金**で納めさせたが、1877年に<sup>(12)</sup> **2.5**%に引き下げられた。

① (13) **地券**

(4) <sup>(14)</sup> **文明開化**…欧米の文化を取り入れたことで、伝統的な生活が変化した。大都市では洋風建築や<sup>(15)</sup> **ガス灯**、洋服、洋食などが普及し、人力車や鉄道馬車が走った。

(5) 新しい思想や制度

① <sup>(16)</sup> **福沢諭吉**…「天は人の上に人をつくらず、人の下に人をつくらず」で有名な『<sup>(17)</sup> **学問のすゝめ**』を著した。

② <sup>(18)</sup> **中江 兆 民**…ルソーの『社会契約論』を翻訳して紹介し、「東洋のルソー」とよばれた。

③ 1873年から欧米と同じ太陽暦が採用された。

## Warm Up

右の資料から読み取れることについて、正しいものをすべて選び、記号で答えなさい。

- ア** 地価が書かれている。  
**イ** 土地は共同所有されている。  
**ウ** 土地に対する税率は明治時代を通じて変わっていない。  
**エ** この資料は愛知県で発行された。  
**オ** 各地で地租改正反対一揆がおきていることがわかる。

## 解説

資料の真ん中に「地価二十一円六十三銭」とあるので、**ア**は正しい。

土地が共同所有されている記載はないので、**イ**は誤り。

明治10年に税率が「百分ノ三」から「百分ノ二ヶ半」に変化したことが読み取れるので、**ウ**は誤り。

資料の最後に「愛知県」とあるので、**エ**は正しい。

反対一揆はおこったが、資料からは読み取れないので、**オ**は誤り。

**ア、エ**

地券	三河国宝飯群豊川村六番
字美通	同国同郡同村
持主	一畑一反八畝二十七歩 金田平五郎
外六歩 畦畔	地価二十一円六十三銭
地価	此百分ノ三金六十四銭九厘
地租	此百分ノ二ヶ半金五十四銭二厘
明治十年ヨリ	明治十二年四月二十日
右検査之上授与式之	愛知県



## Try

## 1 次の各問いに答えなさい。

- (1) 明治政府がかかげた、経済を発展させて国を豊かにし、強力な軍隊を整備することをめざしたスローガンを答えなさい。
- (2) 満6歳以上の男女に小学校教育を受けさせることを定めた法令は何か。
- (3) 明治政府が税収入を安定させるために進めた政策を何というか。
- (4) (3)において、土地所有者には何が渡されたか。
- (5) (3)において、土地所有者は当初、地価の何%を納めることとされたか。
- (6) (5)のように定められた税を何というか。
- (7) (6)は何で納めることとされたか。
- (8) (3)に反対する一揆により、納める(6)は地価の何%になったか。
- (9) 1873年に出された、兵役の義務を規定した法令を何というか。
- (10) (9)の法令で、兵役の義務を負ったのはどのような人たちだったか。
- (11) 近代化をめざす政策により、欧米の文化が盛んに取り入れられ、伝統的な生活が変化し始めた。このことを何というか。
- (12) 「天は人の上に人をつくらず、人の下に人をつくらず」という言葉で有名な書物は何か。
- (13) (12)を書いた人物はだれか。
- (14) ルソーの『社会契約論』を翻訳して紹介した、「東洋のルソー」とよばれた人物はだれか。

## 1

(1)	
(2)	
(3)	
(4)	
(5)	
(6)	
(7)	
(8)	
(9)	
(10)	
(11)	
(12)	
(13)	
(14)	

## 2 次のカード①、②と資料を見て、あとの各問いに答えなさい。

## カード①

1872年に定められた、満6歳以上の男女すべてが小学校教育を受ける制度。

## カード②

1873年から、財政を安定させるために政府が行った政策。

## 資料

越後國中頸城郡岩手村 九番字鬼谷 一田壹反廿三步	A
持主 同國同郡同村 佐藤文吉	
地價四拾三圓三拾六錢六厘	
此百分ノ三金 老田 三拾錢五厘 明治十年ヨリ 此百分ノ半金 赤月 八錢四厘 地租	

## 2

(1)	①	
	②	
(2)		
(3)		
(4)		

- (1) カード①、②は何について書かれているか、それぞれ答えなさい。
- (2) 資料のAにあてはまる語句を答えなさい。
- (3) 資料に記載されている事項を、次のア～オの中からすべて選び、記号で答えなさい。  
 ア 所在地                      イ 耕作者名                      ウ 土地の値段  
 エ 土地の良し悪し              オ 土地の面積
- (4) カード①、②は「明治の三大改革」とよばれる改革のうちの2つである。残りの1つについてカード③を作るとしたら、どのような内容を書けばよいか。「満20歳」「兵役」という語句を用いて書きなさい。



## Exercise

1 P.117の **Point!** を赤シートでかくして、番号順にノートにテストしなさい。

2 年表を見て、各問いに答えなさい。

年表

年代	できごと
1872	( ① ) を公布, 小学校の教育を義務化…… <b>A</b>
1873	( ② ) により兵役の義務を課す……… <b>B</b>
	地租改正……… <b>C</b>

- (1) 年表中の**A**で公布された①にあてはまる語句を答えなさい。
- (2) (1)は満何歳以上の男女に小学校教育を受けることを義務づけたか。
- (3) 年表中の②にあてはまるきをまりを答えなさい。
- (4) 年表中の**B**で、兵役の義務を負った人の条件を答えなさい。
- (5) 年表中の**C**の地租改正について、次の文中の【 X 】～【 Z 】  
にあてはまる語句をそれぞれ答えなさい。


政府は土地の所有者に【 X 】を発行し、地価の【 Y 】%  
を地租として【 Z 】で納めさせた。

- (6) (5)のように、政府が税を年貢から地租にかえた理由を説明しなさい。

3 資料を見て、各問いに答えなさい。


- (1) 右の資料のように、欧米の文化 や生活様式が取り入れられ、伝統的な日本の生活が次第に変化していったことを何というか。
- (2) 右の資料のころのできごとを、次の**A**～**E**の中から2つ選び、記号で答えなさい。

資料



- A** ラジオやテレビの普及      **I** ランプやガス灯の使用  
**ウ** 馬車や人力車の利用      **E** 太陰暦の採用

- (3) 『学問のすゝめ』を書いた右の**A**の人物はだれか。
- (4) ルソーの思想を紹介した右の**B**の人物はだれか。



2

(1)	
(2)	
(3)	
(4)	
(5)	X
	Y
	Z
(6)	

3

(1)	
(2)	
(3)	
(4)	

## 7-1

## 近代産業と国際関係

▶ 映像との対応 / 歴史「近代産業と国際関係」

## Point!

- (1) <sup>(1)</sup> 殖産興業 … 西洋の知識や技術を取り入れ、近代産業の育成をめざす政策。
- ① <sup>(2)</sup> 富岡製糸場 … 群馬県に建てられた <sup>(3)</sup> 官営模範工場。
- ② 鉄道の開通…新橋－横浜間に最初の鉄道が開通した。
- ③ 郵便制度…飛脚に代わって整えられた。
- (2) <sup>(4)</sup> 岩倉使節団 … <sup>(5)</sup> 岩倉具視 を大使とする使節団を欧米に派遣。
- ① 目的…幕末に結んだ <sup>(6)</sup> 不平等条約の改正 と <sup>(7)</sup> 欧米の視察。
- ② 結果…条約改正の交渉は失敗したが、先進国の政治や産業を調査したことは、その後の日本の近代化に大きく貢献した。
- (3) 領土の確定や近隣諸国との関係
- ① 蝦夷地…蝦夷地を北海道と改め、開拓使という役所を置いた。その後、北海道の開拓と防備を兼ねて、失業した士族や農民を <sup>(8)</sup> 屯田兵 として移住させた。
- ② 琉球藩…1879年に廃藩置県を強行し、沖縄県とした。これを <sup>(9)</sup> 琉球処分 という。
- 1895年に <sup>(10)</sup> 尖閣諸島 を沖縄県に編入したが、現在中国が領有権を主張している。
- ③ <sup>(11)</sup> 竹島 … 1905年に島根県に編入した。現在韓国が不法に占拠している。
- ④ 清…1871年に対等な条約である <sup>(12)</sup> 日清修好条規 を結び、国交を開く。
- ⑤ 朝鮮国
- ・ <sup>(13)</sup> 征韓論 … 鎖国を続ける朝鮮を武力で開国させようとする考え。
  - ・ <sup>(14)</sup> 西郷隆盛、板垣退助 らが主張したが、受け入れられず辞職。
  - ・ <sup>(15)</sup> 日朝修好条規 … 1875年の <sup>(16)</sup> 江華島事件 をきっかけに結んだ、朝鮮にとって不平等な条約。朝鮮を開国させた。
- ⑥ ロシア
- ・ <sup>(17)</sup> 樺太・千島交換条約 … 1875年、樺太をロシア領、千島列島のすべてを日本領とした。

## Warm Up

右の資料は1872年、群馬県に建てられた富岡製糸場である。近代産業を育成するために明治政府が行ったことを、資料を参考にして簡潔に説明しなさい。

## 解説

明治政府は近代産業の育成をめざす殖産興業を進めた。民間にはまだ十分な資金や技術がなかったため、模範となる工場を官営（国営）でつくった。

（例）官営模範工場を建てた。





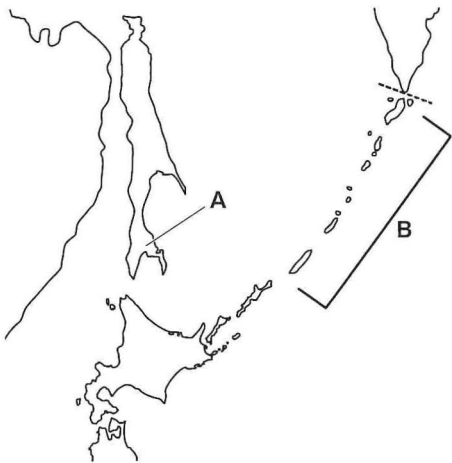
Try

- 1 次の各問いに答えなさい。
- (1) 政府は外国から機械を買い入れ、外国人技術者を招いて近代工業の育成を進めたが、このことを何というか。漢字4字で答えなさい。
  - (2) (1)の政策の1つで、群馬県に建てられた工場を何というか。
  - (3) (2)のような工場を何というか。
  - (4) 不平等条約の改正を目的に欧米に派遣された使節の代表者はだれか。
  - (5) 北海道開発と防備を兼ねて、失業した士族や農民が派遣されたが、これらの人々を何というか。
  - (6) 1879年に政府が行った、琉球藩を廃止して沖縄県を置く措置を何というか。
  - (7) 1895年に沖縄県に編入された諸島を答えなさい。
  - (8) 1905年に島根県に編入された島の名称を答えなさい。
  - (9) 1871年に清と結んだ対等な条約を何というか。
  - (10) 鎖国を続けていた朝鮮を武力で開国させようとする主張を何というか。
  - (11) 江華島事件をきっかけに1876年に結ばれた条約を何というか。
  - (12) 1875年に日本とロシアが結んだ、領土を交換する条約を何というか。

- 2 年表を見て、各問いに答えなさい。

年代	できごと
1871	清との間に対等な条約を結ぶ……………①
1871	欧米に向けて使節団が出発……………②
1873	征韓論が高まる……………③
1875	ロシアと領土を確定させる条約を結ぶ……………④
1876	朝鮮と条約を結び、朝鮮を開国させる……………⑤
1879	琉球藩を廃止し、沖縄県を設置……………⑥

- (1) 年表中の①の条約名を答えなさい。
- (2) 年表中の②の使節団の大使名を答えなさい。
- (3) 年表中の②の使節団の目的を「条約」「視察」という語句を使って簡潔に答えなさい。
- (4) 年表中の③の主張はどのような主張か。「朝鮮」「武力」という語句を用いて説明しなさい。
- (5) 年表中の④の条約名を答えなさい。
- (6) 年表中の④の条約で、日本領となった地域を右の地図A、Bより選び、記号で答えなさい。
- (7) 年表中の⑤の条約名を答えなさい。
- (8) 年表中の⑥のことを何というか。



1

(1)	
(2)	
(3)	
(4)	
(5)	
(6)	
(7)	
(8)	
(9)	
(10)	
(11)	
(12)	

2

(1)	
(2)	
(3)	
(4)	
(5)	
(6)	
(7)	
(8)	



## Exercise

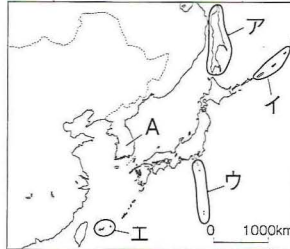
1 P.120の **Point!** を赤シートでかくして、番号順にノートにテストしなさい。

2 年表と地図を見て、各問いに答えなさい。

年表

年代	できごと
1871	( ) が欧米へ行く……………①
1871	中国と日清修好条規を結ぶ
1875	ロシアと樺太・千島交換条約を結ぶ……………②
1876	<b>A</b> と日朝修好条規を結ぶ……………③
1879	琉球藩を廃し、沖縄県を置く……………④

地図



- 年表中の①について、( ) にあてはまる使節団の名称を答えなさい。
- 年表中の①について、この使節の目的は何か。2つ答えなさい。
- 年表中の②について、この条約で日本領とされた地域を、地図の**A**～**E**から1つ選び、記号で答えなさい。
- 年表中の③の条約に関連して、この時日本は地図中の**A**の国を武力で開国させようとしていたが、この主張を何というか。
- (4)を主張していた人物として正しいものを**A**～**E**から2つ選びなさい。  
**A** 中江兆民    **I** 大久保利通  
**U** 西郷隆盛    **E** 板垣退助
- 年表中の④に関連して、同時期に日本政府は蝦夷地を北海道と改称し、統治を強化した。そして欧米の技術を取り入れた開拓事業を行ったが、開拓の中心となった農業兼業の兵士を何というか。

2

(1)	
(2)	
(3)	
(4)	
(5)	
(6)	

3 資料を見て、次の各問いに答えなさい。

資料1



資料2 日清修好条規

第8条 両国の開港地には、それぞれの役人を置き、自国の商人の取り締まりを行う。財産や産業について訴えがあった事件は、その役人が裁判を行い、自国の法律で裁く。(部分要約)

資料3 日朝修好条規

第10条 日本国の人民が、朝鮮国の開港地に在留中に罪を犯し、朝鮮国の人民と交渉が必要な事件は、全て日本国の領事が裁判を行う。(部分要約)

- 近代産業を育成するため、政府はどのようなことを行ったか。資料1を参考にして簡潔に書きなさい。
- 資料2の条約と比較して、資料3の条約の特色を「不平等」という語句を使って簡潔に書きなさい。
- 資料3の条約を結ばせるため、日本が軍艦を派遣したことから起こった武力衝突の事件を何というか。

3

(1)	
(2)	
(3)	

## 7-2

## 自由民権運動

映像との対応 / 歴史「自由民権運動」

## Point!

- (1) 士族の反乱…維新の改革に不満を持つ士族たちが、内務卿の<sup>(1)</sup> **大久保利通**らの専制政治に批判を強め、西日本各地で武力蜂起。
- ・<sup>(2)</sup> **西南戦争**…1877年、鹿児島の不<sup>ほうき</sup>平士族が<sup>(3)</sup> **西郷隆盛**を中心に反乱をおこすが、徴兵制でつくられた新政府軍に鎮圧される。以後、<sup>げんろん</sup>言論による政府批判が中心となる。
- (2) <sup>(4)</sup> **自由民権運動**…専制政治に反対して、国民が政治に参加する権利の確立をめざす運動。
- ① 始まり…1874年、<sup>(5)</sup> **板垣退助**らが、<sup>(6)</sup> **民撰議院設立の建白書**を政府に提出。
  - ② 高まり…1880年、<sup>(7)</sup> **国会期成同盟**の結成。政府は1890年までに国会を開くことを約束。
  - ③ 政党の結成
    - ・<sup>(8)</sup> **自由党**…1881年、<sup>(9)</sup> **板垣退助**らが結成。
    - ・<sup>(10)</sup> **立憲改進黨**…1882年、<sup>(11)</sup> **大隈重信**らが結成。
  - ④ 激化事件…政府が激しい弾圧を加えたため、1884年、埼玉県で<sup>(12)</sup> **秩父事件**が発生。自由民権運動は衰えていった。

## Warm Up

1877年におこった西南戦争の後、政府への批判はどのように変化したか。「武力」「言論」という語句を使って簡潔に書きなさい。

## 解説

西南戦争以前にも「萩の乱」「佐賀の乱」などの士族の反乱があった。しかし、最大の反乱である西南戦争さえ新政府軍に鎮圧されたことで、武力による政府への攻撃は断念されることになる。

(例) 武力による反抗から言論による批判へ変わった。

## Try

## 1 次の各問いに答えなさい。

- (1) 1877年、鹿児島の不平等士族がおこした反乱を何というか。
- (2) (1)の反乱の中心人物はだれか。
- (3) 内務省を創設し、内務卿になるなど、近代化の改革を行った人物はだれか。
- (4) 藩閥政治を批判して、憲法を制定し国会を開き、国民を政治に参加させることを主張する運動を何というか。
- (5) 1874年に政府に提出され、(4)の運動の口火を切った文書を何というか。
- (6) (5)の提出にあたり中心となった人物はだれか。
- (7) (6)の人物が中心となって1881年に結成した政党を何というか。
- (8) (4)の運動の高まりのなか、政府は10年後に国会を開くことを約束した。このとき、憲法の即時制定と国会の早期開設を主張して政府から追放された人物と、その人物が1882年に結成した政党を答えなさい。

## 1

(1)	
(2)	
(3)	
(4)	
(5)	
(6)	
(7)	
(8)	人物
	政党

## 2 次の表を見て、各問いに答えなさい。

記号	できごと
A	国会期成同盟が結成される
B	西南戦争がおこる
C	国会開設に向けて政党が結成される
D	民撰議院設立の建白書が出される

- (1) Bのできごとについて、この反乱の中心人物を答えなさい。
- (2) Cについて、結成された政党とその党首の組み合わせとして正しいものをA～カから2つ選び、記号で答えなさい。  
 ア 板垣退助-立憲改進黨    イ 板垣退助-自由党  
 ウ 福沢諭吉-立憲改進黨    エ 福沢諭吉-自由党  
 オ 大隈重信-立憲改進黨    カ 大隈重信-自由党
- (3) Dのできごとについて、このできごとをきっかけに始まった、国民が政治に参加する権利の確立を目指した運動を何というか。
- (4) A～Dのできごとを年代の古い順に並べかえなさい。

## 2

(1)	
(2)	
(3)	
(4)	→ → →



## Exercise

1 P.123の **Point!** を赤シートでかくして、番号順にノートにテストしなさい。

2 次の各問いに答えなさい。

- (1) 右の肖像画は倒幕に大きく貢献するも、征韓論に敗れ、下野した人物のものである。この人物名を答えなさい。
- (2) 1877年に、(1)の人物が中心となっておこした反乱を何というか。
- (3) (2)の反乱はどのような人たちがおこした反乱か。以下から1つ選びなさい。  
〔 平民 農民 華族 士族 〕
- (4) (2)をおこした場所を、地図中のア～エの中から1つ選び、記号で答えなさい。
- (5) (2)の後、政府への批判はどのように変わったか。簡潔に書きなさい。



3 次の年表について、各問いに答えなさい。

年代	できごと
1874	( ) 設立の建白書が提出される。……………A
1877	鹿児島で士族の反乱がおこる。……………B
1880	国会開設を求める( )が結成される。……………C
1881	開拓使での不正払い下げ事件により、政府への批判が高まり、政府は10年後に国会を開くことを約束。……………D
1884	埼玉県で民権派の激化事件がおこる。……………E

- (1) 年表中のAについて、①( )に適語を入れなさい。②提出した中心人物を答えなさい。
- (2) (1)をきっかけとして始まった、国民が政治に参加する権利の確立をめざす運動を何というか。
- (3) 年表中のBについて、①反乱名を答えなさい。②反乱の指導者を答えなさい。
- (4) 年表中のCの( )にあてはまる語句を答えなさい。
- (5) 年表中のDのあと、(1)②の人物が結成した政党名を答えなさい。
- (6) (5)の結成の翌年、立憲改進黨を結成した人物名を答えなさい。
- (7) 年表中のEの事件名を答えなさい。

2

(1)	
(2)	
(3)	
(4)	
(5)	

3

(1)	①	
	②	
(2)		
(3)	①	
	②	
(4)		
(5)		
(6)		
(7)		

## 7-3

## 大日本帝国憲法と帝国議会

映像との対応 / 歴史「大日本帝国憲法と帝国議会」

## Point!

- (1) <sup>(1)</sup> **大日本帝国憲法** … <sup>(2)</sup> **1889** 年 2 月 11 日に発布。君主権の強い <sup>(3)</sup> **ドイツ**〔**プロイセン**〕の憲法を参考にした。  
主権は <sup>(4)</sup> **天皇** にあり、国の統治権や軍隊の指揮などの権限を持つ。  
国民の権利は、<sup>(5)</sup> **法律の範囲内** で認められた。

第1条 大日本帝国ハ万世一系ノ<sup>(6)</sup>**天皇**ニシテ統治ス  
第3条 <sup>(7)</sup>**天皇**ハ神聖ニシテ侵スヘカラス  
第11条 <sup>(8)</sup>**天皇**ハ陸海軍ヲ統帥ス  
第29条 日本 <sup>(9)</sup>**臣民**ハ法律ノ範囲内ニ於テ言論著作  
印行集会及結社ノ自由ヲ有ス

① 大日本帝国憲法

- (2) <sup>(10)</sup> **内閣制度** の創設…立憲政治の開始に備え、1885年に創設された。初代内閣総理大臣を <sup>(11)</sup> **伊藤博文** とした。
- (3) <sup>(12)</sup> **教育勅語** …忠君愛国の道徳が示され、学校教育を通して広められた。
- (4) <sup>(13)</sup> **帝国議会** …二院制の議会。
- ① 第1回衆議院議員総選挙…選挙権所有者は <sup>(14)</sup> **直接国税を15円以上納める満25歳以上の男子** のみ。有権者は全体の約 <sup>(15)</sup> **1.1** % にすぎなかった。
- ② <sup>(16)</sup> **衆議院** …国民の総選挙で選ばれた300名の議員で構成。
- ③ <sup>(17)</sup> **貴族院** …皇族や華族の代表、天皇が任命した者、多額納税者の代表などで構成。

## Warm Up

- (1) 大日本帝国憲法は、ある国の憲法にならってつくられたが、それはなぜか。
- (2) 次の **ア～エ** の文のうち、誤っているものを1つ選び、記号で答えなさい。
- ア** 大日本帝国憲法では、主権は天皇にあると定められていた。
- イ** 大日本帝国憲法では、国民の権利は法律の範囲内で認められていた。
- ウ** 帝国議会は、貴族院と衆議院の二院制のしくみがとられた。
- エ** 第1回衆議院議員総選挙では、華族や士族だけに選挙権があたえられていた。

## 解説

- (1) 日本も君主制〔天皇制〕の国であったため、大日本帝国憲法は君主権の強いドイツ〔プロイセン〕の憲法にならってつくられた。  
(例) ドイツの憲法は君主権が強かったから。
- (2) 第1回衆議院議員総選挙では「直接国税を15円以上納める満25歳以上の男子」に選挙権があたえられていたので、**エ** が誤り。

**エ**

## Try

## 1 次の各問いに答えなさい。

- (1) 立憲政治の開始に備えて、1885年に創設された政治制度を何というか。
- (2) 初代内閣総理大臣に就任したのはだれか。
- (3) 1889年2月11日に発布された憲法を何というか。
- (4) (3)の憲法はどの国の憲法を参考にしてつくられたか。
- (5) (3)の憲法では、主権はだれにあったか。
- (6) 1890年に第1回の総選挙が行われたが、この選挙の有権者の条件を具体的な数字を入れて答えなさい。
- (7) (6)のような条件により、当時の有権者数は日本の全人口の約何％であったか。小数第1位まで答えなさい。
- (8) 日本は二院制を採用したが、国民の総選挙で選ばれた300名の議員からなる議院を何というか。
- (9) 皇族や華族の代表、天皇が任命した者、多額納税者などで構成された議院を何というか。
- (10) (8)と(9)の議院から構成された当時の日本の国会を何というか。

## 2 年表を見て、次の各問いに答えなさい。

年代	できごと
1885	<b>A</b> 内閣制度がつくられる
1889	<b>B</b> 大日本帝国憲法が発布される
1890	<b>C</b> 第1回衆議院議員総選挙が行われる

- (1) 年表中の**A**について、日本の初代内閣総理大臣はだれか。
- (2) 年表中の**B**は、ドイツの憲法をもとにつくられたが、その理由を簡潔に説明しなさい。
- (3) 年表中の**B**の大日本帝国憲法について述べた文として誤っているものを、**A**～**オ**からすべて選び、記号で答えなさい。
 

**A** 大日本帝国憲法では、天皇が主権を持ち、統治するとされた。

**イ** 陸海軍の指揮は、内閣と天皇が行うこととなった。

**ウ** 帝国議会は、皇族や華族、天皇が任命した議員などで構成される貴族院と、国民が選挙した議員で構成される衆議院の二院制であった。

**エ** 国民は「臣民」とされ、臣民の権利は、法律の範囲内で認められた。

**オ** 憲法発布の翌年には学制が出て、忠君愛国の道徳が示され、教育の柱となった。
- (4) 年表中の**C**について、このとき選挙権があたえられたのはどのような人々か。「税金・年齢・性別」にふれて説明しなさい。

## 1

(1)	
(2)	
(3)	
(4)	
(5)	
(6)	
(7)	
(8)	
(9)	
(10)	

## 2

(1)	
(2)	
(3)	
(4)	



## Exercise

1 P.126の **Point!** を赤シートでかくして、番号順にノートにテストしなさい。

2 次の各問いに答えなさい。

- (1) 右の資料は、大日本帝国憲法の抜粋である。資料中の ( A )・( B ) にあてはまる語句を答えなさい。

- (2) 大日本帝国憲法について、以下の問いに答えなさい。

- ① 大日本帝国憲法は ( ) 年2月11日に発布された。  
( ) にあてはまる数字を書きなさい。
- ② この憲法の草案を作成するうえで主に参考にしたヨーロッパの国はどこか。
- ③ ②の国の憲法を参考にしたのは、その国の憲法にどのような特徴があったからか。簡潔に説明しなさい。
- ④ 第29条では、どのような条件つきで国民の自由が認められたか。

第1条 大日本帝国ハ万世一系ノ ( A ) 之ヲ統治ス

第3条 ( A ) ハ神聖ニシテ侵スヘカラス<sup>(ベ)</sup><sup>(ズ)</sup>

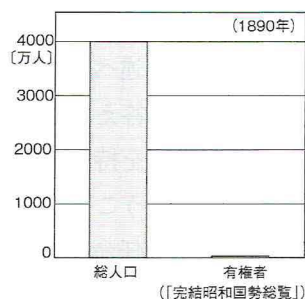
第29条 日本 ( B ) ハ法律ノ範囲内ニ於テ言論著作印行集会及結社ノ自由ヲ有ス

2

(1)	A	
	B	
(2)	①	
	②	
	③	
	④	

3 次の各問いに答えなさい。

- (1) 1885年には太政官制を廃止して ( ① ) 制度をつくり、( ② ) が初代の総理大臣になった。①, ②にあてはまる語句を答えなさい。
- (2) 1890年に忠君愛国の道徳が示されたが、これを何というか。
- (3) 1890年に初めての衆議院議員総選挙が行われた。このとき、選挙権があたえられたのはどのような人たちか、具体的に答えなさい。
- (4) (3)より、国民は政治に参加できるようになったが、実際はどうであったか。右の資料を参考にして簡潔に説明しなさい。
- (5) 帝国議会や大日本帝国憲法に関する次のア～オの説明文のうち、適切なものを2つ選んで記号で答えなさい。



- ア 帝国議会は参議院と衆議院の二つの議院から成り立っていた。
- イ 大日本帝国憲法では、言論・出版などの自由は法律の範囲内で認めると定めていた。
- ウ 大日本帝国憲法では、主権は国民にあると定めていた。
- エ 大日本帝国憲法は、イギリスやアメリカ合衆国の憲法を模範としてつくられた。
- オ 大日本帝国憲法により、当時の日本はアジアで唯一の立憲制国家となった。

3

(1)	①	
	②	
(2)		
(3)		
(4)		
(5)		

## 7-4

## 条約改正と日清戦争

映像との対応 / 歴史「条約改正と日清戦争」

## Point!

## (1) 条約改正への道のり

① 外務大臣の井上 馨は<sup>(1)</sup> **欧化政策**により条約改正をめざしたが、失敗。

② <sup>(2)</sup> **ノルマントン号事件**

…1886年、イギリス船が沈没し、日本人乗客全員が死亡したが、イギリス領事裁判所はイギリス人船長を軽い刑罰で済ませた。これ以降、条約改正への動きが強まる。




① ノルマントン号事件

③ 1894年、外務大臣の<sup>(3)</sup> **陸奥宗光**が<sup>(4)</sup> **イギリス**との間で日英通商航海条約を結び、<sup>(5)</sup> **領事裁判権**〔**治外法権**〕の**撤廃**に成功。

④ 1911年、外務大臣の<sup>(6)</sup> **小村寿太郎**がアメリカと条約を結び、<sup>(7)</sup> **関税自主権**の完全な回復に成功。

(2) <sup>(8)</sup> **日清戦争**

…1894年、東学を信仰する農民らが、朝鮮南部でおこした<sup>(9)</sup> **甲午農民戦争**をきっかけに、日清両国が朝鮮に出兵して開戦。日本が勝利。



① 日清戦争直前の朝鮮情勢

① <sup>(10)</sup> **下関条約**

…日清戦争の講和条約。1895年、清は朝鮮の独立を認め、日本に<sup>(11)</sup> **遼東半島**、**台湾**などをゆずりわたし、賠償金として2億両〔約3億1000万円〕を支払うこととなった。

② <sup>(12)</sup> **三国干渉**

…満州への進出をねらう<sup>(13)</sup> **ロシア**が<sup>(14)</sup> **ドイツ**、**フランス**とともに<sup>(15)</sup> **遼東半島**の清への返還を日本に要求。日本は要求を受け入れたが、国民のロシアへの反感が高まった。



① 三国干渉

## Warm Up

右の資料は、1886年におこった事件を元にしたものである。この事件の後、国内で不平等条約の改正を求める声が高まったが、それはなぜか。不平等条約の内容に触れて説明しなさい。



## 解説

この事件はノルマントン号事件である。イギリスに領事裁判権を認めてしまっていたため、イギリス人船長は日本人乗客を死亡させたにも関わらず、軽い刑罰で済んでしまった。

(例) イギリスに領事裁判権を認めていたため、イギリス人船長が軽い刑罰で済んでしまったから。



## Try

## 1 次の各問いに答えなさい。

- (1) 1886年におきた、イギリス船が沈没して日本人乗客全員が死亡したできごとを何というか。
- (2) 1894年にイギリスとの間で不平等条約の一部が改正されたが、このとき改正された内容は何か。
- (3) 1911年にアメリカとの間で不平等条約が改正されたが、このとき改正された内容は何か。
- (4) 1894年に東学を信仰する農民を中心に朝鮮の南部でおこった反乱を何というか。
- (5) (4)がきっかけで日本と中国の間で始まった戦争を何というか。
- (6) (5)の戦争の講和条約を何というか。
- (7) (6)の条約で日本が中国からゆずり受けた地域を、澎湖諸島以外に2つ答えなさい。
- (8) 日本の大陸進出をおさえるため、日本が(6)の条約で得た地域の一部を中国に返還することを要求した国を3つ答えなさい。
- (9) (8)の要求を何というか。
- (10) (9)の要求により、日本が中国に返還したのはどこか。

## 1

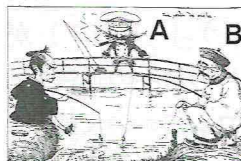
(1)	
(2)	
(3)	
(4)	
(5)	
(6)	
(7)	
(8)	
(9)	
(10)	

## 2 次の各問いに答えなさい。

- (1) 右の資料1は、ある戦争直前の東アジアの国

際関係をえがいた風刺画である。資料中のAとBが表している国名を答えなさい。

資料1




- (2) この戦争のきっかけとなった、東学党がおこした反乱を何というか。
- (3) この戦争の講和条約を何というか。
- (4) ロシアなどが遼東半島を中国に返還するよう、日本に勧告してきたことを何というか。

- (5) 右の資料2は、19世紀の後半にイギリス船

が沈没し、日本人乗客全員が水死した事件を風刺したものである。

資料2



- ① この事件を何というか。
- ② この事件の後、日本では不平等条約の改正を求める声が高まった。このとき改正を求める声が高まった、不平等条約の内容を答えなさい。

## 2

(1)	A	
	B	
(2)		
(3)		
(4)		
(5)	①	
	②	




## Exercise

1 P.129の **Point!** を赤シートでかくして、番号順にノートにテストしなさい。

2 次の各問いに答えなさい。

- (1) 不平等条約の改正を実現するため、外務大臣の井上馨が行った政策を何というか。
- (2) 右の資料は、1886年におこった事件の風刺画である。この事件の後、国内で不平等条約の改正を求める声が高まるが、それはなぜか。不平等条約の内容に触れて説明しなさい。
- (3) (2)の事件の後、1894年に不平等条約の一部が改正された。このときの日本の外務大臣の名前を答えなさい。
- (4) 1911年に、アメリカとの間で改正された不平等条約の内容と、このときの外務大臣の名前を答えなさい。




2

(1)	
(2)	
(3)	
(4)	内容
	名前

3 次の各問いに答えなさい。

- (1) 右の図は、日清戦争前の国際情勢の風刺画である。次の文中の **X**、**Y** にあてはまる国名を答えなさい。  
日本と清が図の ( **X** ) をめぐって対立し、( **Y** ) が ( **X** ) を横取りしようとしている。
- (2) 1894年に、東学を信仰する農民を中心におこり、その後、日清戦争のきっかけとなった反乱を答えなさい。
- (3) 日清戦争の講和条約について答えなさい。



3

(1)	<b>X</b>	
	<b>Y</b>	
(2)		
(3)	①	
	②	
	③	
	④	

- ① 講和条約の名を答えなさい。
- ② この条約で日本は遼東半島を獲得した。遼東半島の位置を右の地図中の **A**～**E** の中から1つ選び、記号で答えなさい。
- ③ この条約の締結後、日本が獲得した遼東半島を清に返還するように要求してきた国として誤っているものはどれか。  
**A** イギリス    **I** フランス  
**U** ロシア    **E** ドイツ
- ④ ③のできごとを何というか。



## 7-5

## 日露戦争と東アジア情勢

映像との対応 / 歴史「日露戦争と東アジア情勢」

## Point!

(1) <sup>(1)</sup>義和団事件 …1899～1900年に中国でおこった外国人排斥運動。

日本、ロシアが中心となる連合軍が派遣され鎮圧された。


(2) <sup>(2)</sup>日露戦争 …1904年に開戦。

① 開戦前…1902年、日本とイギリスが、<sup>(3)</sup>ロシアの南下に対抗するために、<sup>(4)</sup>日英同盟を結成。アメリカは日本に戦費を調達。

② 戦争の経過…日本は日本海海戦で勝利したが、戦争継続が困難になった。<sup>(5)</sup>アメリカの仲介で<sup>(6)</sup>ポーツマス条約を結んで戦争は終結した。

③ 講和内容…ロシアは韓国における日本の優越権を認め、旅順、大連の租借権、長春以南の鉄道の利権、北緯50度以南の<sup>(7)</sup>樺太を日本にゆづった。  
<sup>(8)</sup>賠償金が得られなかったことに国民は不満を強め、東京で<sup>(9)</sup>日比谷焼き打ち事件が発生した。

④ 戦争終結後…日本は<sup>(10)</sup>南満州鉄道株式会社を設立。満州における経済的な利権を独占した。



① 日露戦争開戦前の状況

(3) 韓国の植民地化

① 1905年、韓国を保護国にして外交権をうばった。<sup>(13)</sup>韓国統監府を設置し、<sup>(16)</sup>伊藤博文が初代統監に就任した。1907年、韓国の皇帝が退位させられ、軍隊も解散。

② 1909年、伊藤博文が暗殺される。

③ <sup>(17)</sup>韓国併合 …1910年、韓国を併合。<sup>(18)</sup>朝鮮総督府を設置し、植民地支配を進めた。日本人に同化させる教育を実施した。

(4) 中国の革命…列強の侵略に対抗する動きが強まり、清朝を倒して近代国家をつくろうとした。

① <sup>(19)</sup>辛亥革命 …1911年、<sup>(20)</sup>三民主義を唱える<sup>(21)</sup>孫文を中心として、革命運動が発生。

② <sup>(22)</sup>中華民国の成立…1912年、<sup>(23)</sup>孫文を臨時大總統とし、首都を<sup>(24)</sup>南京とした。  
<sup>(25)</sup>袁世凱が孫文と手を組んで<sup>(26)</sup>清を滅ぼした。袁世凱は大總統の地位をゆずられると、革命勢力を弾圧して独裁政治を行った。

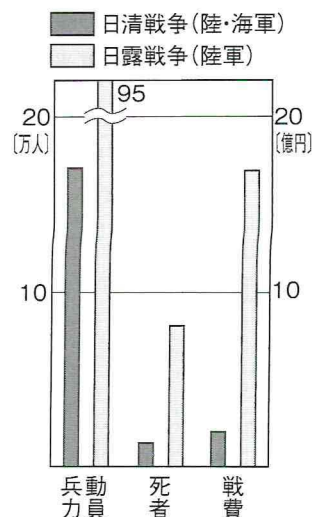
## Warm Up

ポーツマス条約が結ばれた後、日本では「日比谷焼き打ち事件」が発生した。その理由を右の資料の内容をふまえ、「…のに、…から。」という文で説明しなさい。

## 解説

資料を見ると、日露戦争は日清戦争と比較して死者が多く、戦費も多くかかっている。しかし賠償金が得られなかったため、日比谷焼き打ち事件がおこった。

(例) 日清戦争と比較して、死者や戦費が多かったのに、賠償金が得られなかったから。






Try

1 次の各問いに答えなさい。

- (1) 1899～1900年に中国でおこった外国人排斥運動を何というか。
- (2) 1902年に日本はイギリスと同盟を結んだが、この同盟を何というか。
- (3) (2)の同盟は、何に対抗するために結ばれたか。
- (4) 1904年に日本とロシアの間でおこった戦争を何というか。
- (5) (4)の戦争の講和条約締結の際、仲介にあたった国はどこか。
- (6) (4)の戦争後、日本はある地域の利権を独占するために（ ）株式会社を設立した。（ ）にあてはまる語句を漢字5字で答えなさい。
- (7) 1905年、日本は韓国に伊藤博文を初代統監とする役所を設置した。役所名を答えなさい。
- (8) 日本が韓国を植民地にしたことを何というか。漢字4字で答えなさい。
- (9) (8)の後、朝鮮を支配するために置かれた役所名を答えなさい。
- (10) 1912年に成立した中華民国の首都はどこか。

2 資料を見て、各問いに答えなさい。

- (1) 右の資料のA～Cは、日本、ロシア、イギリスのいずれかを示している。それぞれどの国を示しているか、答えなさい。



- (2) 日露戦争後の講和条約を何というか。
- (3) (2)の講和条約の内容である以下の文中の[ ]にあてはまる島の名前を答えなさい。

ロシアは北緯50度以南の[ ]を日本に割譲する。

- (4) 中国で1911年に始まり、全国に広がった革命の名称と、その指導者の名前を答えなさい。
- (5) 韓国を植民地化していく中でおきた出来事を述べた以下の文①～③について、正しければ○、誤っていれば×を書きなさい。
  - ① 韓国の外交権をうばい、韓国統監府を置いた。
  - ② 韓国併合を行い、朝鮮総督府を置いた。
  - ③ 初代朝鮮総督に伊藤博文が就任した。

1

(1)	
(2)	
(3)	
(4)	
(5)	
(6)	
(7)	
(8)	
(9)	
(10)	

2

(1)	A	
	B	
	C	
(2)		
(3)		
(4)	名称	
	指導者	
(5)	①	
	②	
	③	



## Exercise

1 P.132の **Point!** を赤シートでかくして、番号順にノートにテストしなさい。

2 年表を見て、各問いに答えなさい。

(1) 年表中の①～⑤に適語を書きなさい。

(2) 年表中のあについて

① この同盟を結んだイギリスは右の風刺画のA～Cのどれか。

② この同盟が結ばれた理由を説明しなさい。

(3) 年表中のいについて

① この条約はどこかの国の仲介で結ばれたか。


② この条約の内容について、次のア～エの中から正しいものの一つを選び、記号で答えなさい。

ア 朝鮮の独立を認める。 イ 日本に遼東半島をゆずる。

ウ 日本の領事裁判権を認める。 エ 日本に南樺太をゆずる。

③ この条約により、日本は中国のある地域に勢力を伸ばし、( ) 株式会社を設立した。( ) にあてはまる語句を漢字5字で答えなさい。

年代	できごと
1899	中国で ( ① ) 事件がおこる
1902	イギリスと ( ② ) 同盟を結ぶ…あ
1904	( ③ ) 戦争がおこる
1905	( ④ ) 条約を結ぶ……………い
	( ⑤ ) 焼き打ち事件がおこる



2

(1)	①	
	②	
	③	
	④	
	⑤	
(2)	①	
	②	
(3)	①	
	②	
	③	

3 次の各問いに答えなさい。

(1) 日露戦争後、日本国内では国民の政府への批判が高まった。その理由を、右のグラフから読み取れることに触れて説明しなさい。

(2) 1905年に日本は韓国を保護国にして外交権を奪い、ある役所を設置した。

① この役所の名称を答えなさい。

② この役所の初代統監はだれか。


(3) 1910年に日本は韓国を植民地とした。

① このできごとを何というか。

② このできごとの後、朝鮮を支配するために置かれた役所の名称を答えなさい。

(4) 次の文章の①～⑥に適語を入れなさい。

1911年に中国で ( ① ) 革命がおこり、その翌年 ( ② ) が臨時大総統となり、( ③ ) を首都とする ( ④ ) が建国された。( ⑤ ) の実力者であった ( ⑥ ) は ( ② ) と手を結び、( ⑤ ) の皇帝を退位させたため、( ⑤ ) は滅んだ。



3

(1)	①	
	②	
(2)	①	
	②	
(3)	①	
	②	
(4)	①	
	②	
	③	
	④	
	⑤	
	⑥	

## 7-6

## 産業革命の進展

映像との対応 / 歴史「産業革命の進展」

## Point!

日本の産業革命…1880年代に<sup>(1)</sup> 軽工業 (紡績業・製糸業) の分野で始まり、20世紀初めの日露戦争前後に重工業が発達した。工場では<sup>(2)</sup> 石炭 を動力源とした機械が用いられ、紡績業は綿糸、製糸業は生糸を生産した。

## (1) 重工業の発達

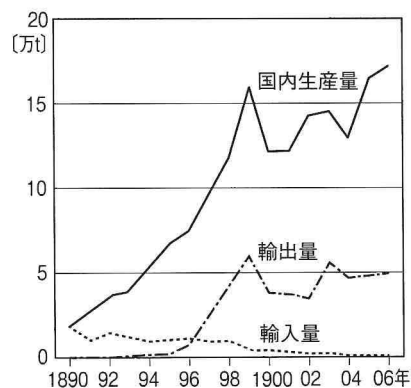
- ・<sup>(3)</sup> 八幡製鉄所 の建設…日清戦争の賠償金の一部をもとに<sup>(4)</sup> 北九州 (福岡県) に建設。
- ・1889年、東海道線が全線開通。1906年に主要な民営鉄道が国有化された。
- ・資本主義の発達により<sup>(5)</sup> 財閥 (三井、三菱、住友、安田など) が形成された。

- (2) <sup>(6)</sup> 足尾銅山鉍毒事件 …栃木県の足尾銅山から流れ出る鉍毒が渡良瀬川に流れ込み、農民が被害を受けた。地元出身の衆議院議員であった<sup>(7)</sup> 田中正造 が被害者救済の運動を進めた。

## Warm Up

右の資料は、綿糸の生産と貿易についてまとめたものである。  
次の文章の①～③にあてはまる語句を答えなさい。

資料から、綿糸の ( ① ) 量が増加するのにもない、  
( ② ) 量も増加していることが読み取れる。また、  
( ② ) 量が増加するのにもなって ( ③ ) 量は減少していき、1897年の時点で ( ② ) 量が ( ③ ) 量を上回ったことも読み取れる。



## 解説

②、③から考える。資料を見ると、1897年には輸出量が輸入量を上回っているため、②は輸出、③は輸入だとわかる。

輸出量とともに増加しているのは国内生産量なので、①には国内生産があてはまる。

① 国内生産 ② 輸出 ③ 輸入

## Try

## 1 次の各問いに答えなさい。

- (1) 日本の産業革命は紡績業や製糸業などの分野から始まった。このような工業を何というか。
- (2) 日清戦争での賠償金の一部をもとに北九州につくられた工場を何というか。
- (3) 資本主義の発達により、三井、三菱、住友、安田などの資本家があらわれた。これらは日本経済を支配するようになっていったが、何とよばれたか。
- (4) 栃木県の銅山から鉱毒が渡良瀬川に流れ込み、農民が被害を受ける事件がおこったが、この事件を何というか。
- (5) (4)の被害者救済に取り組んだ地元出身の国会議員はだれか。

## 2 次の文章を読んで、各問いに答えなさい。

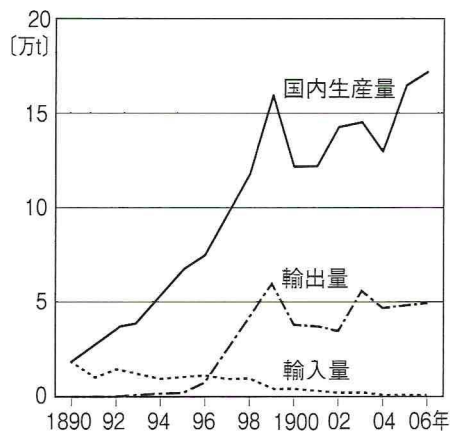
政府は、1882年に日本銀行を設立し、官営事業を民間に払い下げた。これは三井、三菱といった（ ① ）の成長へつながっていった。

また、1880年代後半には軽工業が発展した。中でも、生糸を生産する製糸業や、綿糸を生産する（ ② ）が成長した。

1895年、日清戦争に日本が勝利すると、その賠償金を資金として、北九州に（ ③ ）が設立され、重工業が発展した。

(1) 文章中の①～③にあてはまる語句を答えなさい。

(2) 文章中の下線部について、右の資料は綿糸の生産と貿易の変化を示したものである。1896年以前と比べると、1897年以後の綿糸の貿易はどうか、簡潔に説明しなさい。



## 1

(1)	
(2)	
(3)	
(4)	
(5)	

## 2

(1)	①	
	②	
	③	
(2)		



## Exercise

1 P.135の **Point!** を赤シートでかくして、番号順にノートにテストしなさい。

2 次の各問いに答えなさい。

(1) 以下の文章の①～④にあてはまる語句を答えなさい。

日本の産業革命は1880年代の ( ① ) 工業の発達から始まった。  
その後、( ② ) 戦争で得た賠償金などから ( ③ ) 製鉄所が  
建設され、1900年代以降は ( ④ ) 工業が発達した。

(2) (1)③の製鉄所はどこにつくられたか。現在の都道府県名を答えなさい。

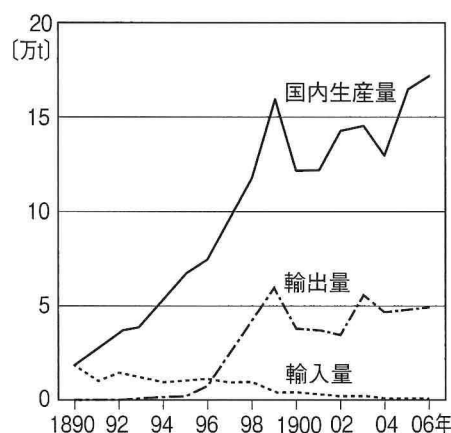
(3) 右の資料は、綿糸の生産と貿易の変化についてまとめたものである。グラフから読み取れることで、誤ったことを述べている文はどれか。次のア～エから1つ選び、記号で答えなさい。

ア 1897年以降、輸出量が輸入量を上回っている。

イ 国内生産量は毎年増え続けている。

ウ 輸出量が1899年に最大となった。

エ 1890年の国内生産量と輸入量は同じくらいである。



3 次の各問いに答えなさい。

(1) 産業革命が進み、資本主義の発展にともなって、多くの産業・金融機関を支配し、近代日本の経済や政治を動かした大資本家の一族を何というか。

(2) 明治時代の工場では機械が導入された。機械の動力源となった資源は何か。

(3) 日本の産業が発達するなかで、銅山からの煙や廃液によって渡良瀬川流域の住民が公害病で苦しんだ。この事件を何というか。

(4) (3)の事件の早期解決を求め、政府とたたかった国会議員の名前を答えなさい。

2

(1)	①	
	②	
	③	
	④	
(2)		
(3)		

3

(1)	
(2)	
(3)	
(4)	

## 7-7

## 社会運動の発展

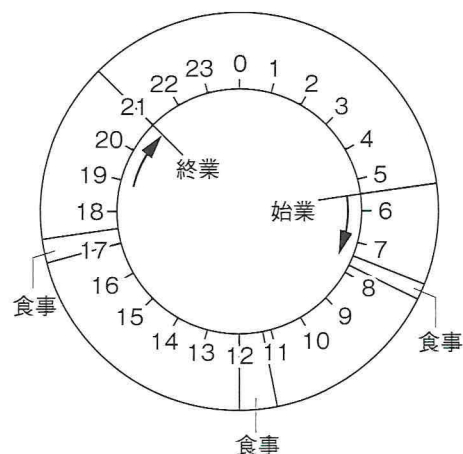
映像との対応 / 歴史「社会運動の発展」

## Point!

- (1) 農民運動…地主と小作人が対立し、小作料の引き下げを求める運動から小作争議こさくそうぎがおこった。
- (2) 労働運動…労働者は<sup>(1)</sup> **低賃金**や<sup>(2)</sup> **長時間労働**を強制された。労働者は労働組合を結成して、労働条件の改善を求めて使用者と対立し、労働争議をおこした。
- (3) <sup>(3)</sup> **社会主義**運動…労働運動や農民運動の発生とともに<sup>(4)</sup> **社会主義**思想（土地や生産手段を社会全体で共有し、労働に応じて所得を分配する考え方）が広がる。1900年、政府は<sup>(5)</sup> **治安警察法**を制定して弾圧。
- ① 1901年、<sup>(6)</sup> **幸徳秋水**らを中心に日本で最初の社会主義政党である<sup>(7)</sup> **社会民主党**が結成されたが、すぐに解散させられた。
- ② <sup>(8)</sup> **大逆事件**…1910年、社会主義者が明治天皇の暗殺をくわだてたという理由で<sup>(9)</sup> **幸徳秋水**ら12名が処刑された。しかし、多くの人は無実であったと考えられている。

## Warm Up

- (1) 右の資料は、明治時代の産業革命を支えた女性労働者の1日を示している。この女性労働者の就業時間にもっとも近いものを次のア～エの選択肢から選び、記号で答えなさい。
- ア 8時間    イ 10時間    ウ 12時間    エ 14時間
- (2) 右の資料を参考にして、当時の女性労働者はどのような労働条件で働いていたか。労働時間と賃金について触れて、20字程度で説明しなさい。



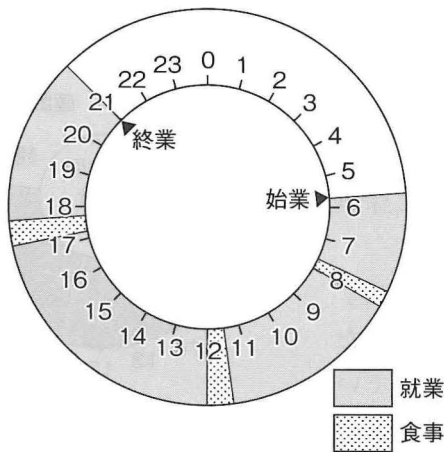
## 解説

- (1) 右の資料を見ると、始業の5時30分～7時30分の2時間。  
7時50分～11時20分の3時間30分。12時～17時の5時間。17時30分～21時の3時間30分。合計で約14時間働いている。
- エ
- (2) (例) 低賃金で長時間労働という条件で働いていた。

Try

- 1 次の各問いに答えなさい。
- (1) 明治時代、工場労働者の多くは ( ① ) で ( ② ) という厳しい条件で働いていた。①は漢字3字、②は漢字5字で答えなさい。
  - (2) 労働運動や農民運動の発生とともに広まった、土地や生産手段を社会全体で共有し、労働に応じて所得を分配する考え方を何というか。
  - (3) (2)の考えをもとに集まった人々によって1901年に結成されたが、すぐに解散させられた政党は何か。
  - (4) 1910年、(2)の思想を持った者たちが明治天皇の暗殺をくわだてたとされる事件がおこった。この事件を何というか。
  - (5) (4)の事件で死刑になった人物を1人答えなさい。

- 2 次の各問いに答えなさい。
- (1) 右の資料は明治時代の工女とよばれる女性労働者の一日を示している。当時の工女はどのような労働条件で働かされていたか。労働時間と賃金の面から簡潔に説明しなさい。
  - (2) 次の文章中の①～⑦にあてはまる語句を以下の語群から1つずつ選び、記号で答えなさい。



日清戦争後、( ① ) が団結して労働条件の改善を要求する運動がおこった。( ① ) は、( ② ) を結成して、使用者と対立する労働争議をおこした。これとともに、「土地や生産手段を、社会全体で共有し、労働に応じて所得を分配する」という ( ③ ) 主義の思想が広まった。

( ③ ) 主義思想が広まるなか、( ④ ) を中心とした日本で最初の ( ③ ) 主義政党である ( ⑤ ) 党が結成された。しかし1910年、( ⑥ ) 天皇の暗殺を計画したとして、( ④ ) ら12名は処刑された。これを ( ⑦ ) という。

語群

- ア 田中正造    イ 幸徳秋水    ウ 大隈重信  
エ 労働者    オ 社会    カ 自由    キ 立憲改進黨  
ク 労働組合    ケ 社会民主    コ 大逆事件  
サ 足尾銅山鉍毒事件    シ 秩父事件    ス 明治  
セ 大正    ソ 昭和

(1)	①	
	②	
(2)		
(3)		
(4)		
(5)		

(1)		
(2)	①	
	②	
	③	
	④	
	⑤	
	⑥	
	⑦	



## Exercise

1 P.138の **Point!** を赤シートでかくして、番号順にノートにテストしなさい。

2 次の各問いに答えなさい。


- (1) 右の資料1、資料2は日本の産業革命が進展していた頃、製糸工場に働いていた人々に関するグラフである。この2つのグラフから読み取れることとして正しいものを3つ選び、記号で答えなさい。

- ア 男性より女性の方が圧倒的に多く働いている。  
 イ 働いている人全体の半分以上が14～19歳の女性である。  
 ウ 10歳未満の子も働いていた。  
 エ 労働時間は一日の半分以上である。  
 オ 食事以外でも就業中に休憩時間がある。  
 カ 昼食の時間は約1時間ある。

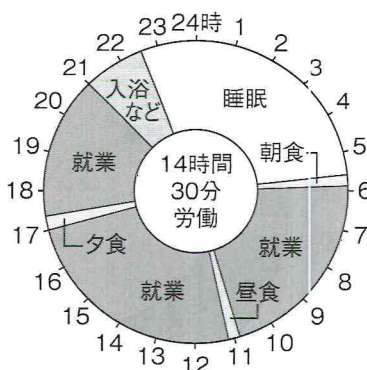
- (2) この時期の製糸工場の労働者たちはどのような条件で働いていたか。「労働時間」「賃金」という語句を使って説明しなさい。

資料1

製糸工場データ  
(1901年, 長野205工場の場合)



資料2



3 次の文章中の①～⑤にあてはまる語句を答えなさい。

日清戦争後、労働条件の改善を求めて、労働者による労働運動が広がった。しかし1900年、政府は( ① )法を制定し、労働運動を厳しく取り締まった。

また、「生産手段を共有して、平等な社会を実現する」という( ② )主義の思想が広まった。1901年には( ③ )を中心として( ④ )党が結成されたが、( ① )法によってすぐに解散させられた。

1910年、( ③ )ら12名は明治天皇の暗殺を計画したとして、処刑された。この事件を( ⑤ )という。

2

(1)	
(2)	

3

①	
②	
③	
④	
⑤	





## Try

## 1 次の各問いに答えなさい。

- (1) 明治時代、日本画の復興に努めた日本人とアメリカ人を1人ずつ答えなさい。
- (2) 「無我」などの日本画の作品を残した人物はだれか。
- (3) 洋画において、フランスの印象派の明るい画風を伝えた人物はだれか。
- (4) 彫刻の分野で「老猿」などの作品を残した人物はだれか。
- (5) 「荒城の月」や「花」などを作曲した人物はだれか。
- (6) 二葉亭四迷が進めた、話し言葉に近い口語体で文章を書くことを何というか。
- (7) 『舞姫』や『最後の一句』などの小説を書いた人物はだれか。
- (8) 『吾輩は猫である』などの小説を書いた人物はだれか。
- (9) 『たけくらべ』などの小説を書いた人物はだれか。
- (10) 「君死にたまふことなかれ」という詩を書いた人物はだれか。
- (11) 『若菜集』や『破戒』などを書いた人物はだれか。
- (12) 1907年に義務教育は何年間に延長されたか。
- (13) 医学界で活躍し、破傷風の血清療法を発見した人物はだれか。
- (14) アフリカにわたって黄熱病の研究に取り組んだ人物はだれか。

## 1

(1)	日本人	
	アメリカ人	
(2)		
(3)		
(4)		
(5)		
(6)		
(7)		
(8)		
(9)		
(10)		
(11)		
(12)		
(13)		
(14)		

## 2 次の①～⑧の「わたし」はだれのことか。人物名を答えなさい。

- ① わたしは黄熱病の研究を行った医学者である。
- ② わたしは岡倉天心と日本画の復興に尽力したアメリカ人である。
- ③ わたしは資料Aの作品をえがいた洋画家である。
- ④ わたしは資料Bの作品をえがいた日本画家である。
- ⑤ わたしは資料Cを制作した彫刻家である。
- ⑥ わたしは『たけくらべ』をかいた小説家である。
- ⑦ わたしは『坊っちゃん』をかいた小説家である。
- ⑧ わたしは「荒城の月」を作曲した音楽家である。

資料A



資料B



資料C



## 2

①	
②	
③	
④	
⑤	
⑥	
⑦	
⑧	



## Exercise

1 P.141の **Point!** を赤シートでかくして、番号順にノートにテストしなさい。

2 (1) 次の①～③の作品の作者をア～ウから1人ずつ選びなさい。

- ① 荒城の月  
② 無我  
③ 老猿

ア 横山大観    イ 高村光雲    ウ 滝廉太郎

(2) 次の説明にあてはまる人物を下のア～エから1人ずつ選びなさい。

- ① 「坊っちゃん」や「吾輩は猫である」を著した文学者  
② 破傷風の血清療法を発見した細菌学者


ア 森鷗外    イ 北里柴三郎  
ウ 夏目漱石    エ 野口英世

3 次の各問いに答えなさい。

(1) 明治時代の芸術・文学について述べた次の文のうち、誤って述べているものを次のア～エから1つ選び、記号で答えなさい。

- ア 右の作品1は、黒田清輝がえがいた「湖畔」である。  
イ 小説『浮雲』の作者は島崎藤村である。  
ウ 小説『坊っちゃん』の作者は夏目漱石である。  
エ 社会の現実を直視する文学の潮流を自然主義という。


作品1



(2) 右の作品2の作者の名前をア～ウから選びなさい。

- ア 黒田清輝  
イ 岡倉天心  
ウ 狩野芳崖

作品2



(3) フェノロサと協力し、日本画の復興に尽力した美術研究家の名前を答えなさい。

(4) 戦地に出兵した弟を思い、「君死にたまふことなかれ」を詠んだ歌人の名前を答えなさい。

(5) 明治時代の学校教育について述べた次の文章の①・②にあてはまる数字を答えなさい。

政府は1886年に義務教育を（ ① ）年間とした。就学率が97%に到達した1907年には、義務教育を（ ① ）年間から（ ② ）年間へ延長した。

2

(1)	①	
	②	
	③	
(2)	①	
	②	

3

(1)	
(2)	
(3)	
(4)	
(5)	①
	②

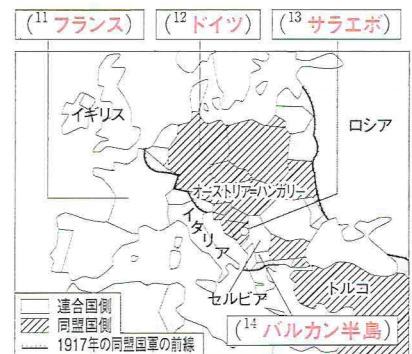
## 8-1

## 第一次世界大戦

映像との対応 / 歴史「第一次世界大戦」

## Point!

- (1) <sup>(1)</sup> **バルカン半島** は民族や宗教の対立と列強の利害衝突で政情が不安定だった。国際紛争の火種となっていたことから、<sup>(2)</sup> **ヨーロッパの火薬庫** とよばれた。  
<sup>(3)</sup> **サラエボ事件** …1914年、<sup>(4)</sup> **オーストリア** の皇位継承者夫妻が <sup>(5)</sup> **サラエボ** でセルビア人の青年に暗殺される。オーストリアがセルビアに宣戦し、<sup>(6)</sup> **第一次世界大戦** に発展。
- (2) 戦争の拡大…同盟国側と連合国側に分かれて戦争が拡大。  
 ・<sup>(7)</sup> **三国同盟** …<sup>(8)</sup> **ドイツ、オーストリア、イタリア**。トルコなども含めて同盟国とよばれた。  
 イタリアは1915年に三国同盟を破棄し、連合国側についた。  
 ・<sup>(9)</sup> **三国協商** …<sup>(10)</sup> **イギリス、フランス、ロシア**。連合国とよばれた。  
 アメリカと中国は1917年から連合国側で参戦した。
- (3) 戦争の形態…<sup>(15)</sup> **飛行機、戦車、毒ガス** などの新兵器が使用され、死傷者はばく大な数にのぼった。また、植民地の人々を兵士として動員し、女性も兵器工場で働くなど、国家全体をまきこむ <sup>(16)</sup> **総力戦** となった。
- (4) 日本の参戦…<sup>(17)</sup> **日英同盟** を理由に連合国側で参戦。中国に軍隊を送り、ドイツ軍の基地のある <sup>(18)</sup> **山東半島** の青島を占領した。
- (5) <sup>(19)</sup> **二十一か条の要求** …1915年、日本は中国に対して、山東省にあるドイツの権益を受け継ぐことや南満州での日本の利権拡大などを要求。中国政府はこの要求に強く抵抗した。



① 第一次世界大戦中のヨーロッパ

## Warm Up

第一次世界大戦に関する次のア～オの記述のうち、正しいものを全て選び、記号で答えなさい。

- ア セルビア皇太子が暗殺されたサラエボ事件がきっかけとなった。  
 イ 女性も兵器工場で働くなど、国家全体をまきこむ戦いから「総力戦」とよばれた。  
 ウ イギリス、フランス、ロシアの三か国は三国同盟を結んでいた。  
 エ 日本はイギリスとの日英同盟を理由に、同盟国側で参戦した。  
 オ 戦車や毒ガスなどの新兵器が使用され、死傷者はばく大な数にのぼった。

## 解説

- ア…誤り。サラエボ事件で殺害されたのはオーストリアの皇位継承者夫妻である。  
 イ…正しい。  
 ウ…誤り。イギリス、フランス、ロシアの三か国が結んでいたのは三国協商である。  
 エ…誤り。日本は日英同盟を理由に連合国側で参戦した。  
 オ…正しい。  
 イ, オ

Try

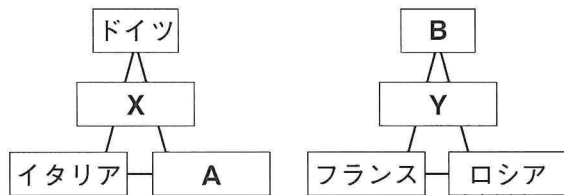
1 次の各問いに答えなさい。

- (1) 1914年にセルビアの青年によって暗殺されたのは、どこの国の皇位継承者夫妻か。
- (2) (1)の事件を何というか。
- (3) (2)のできごとがきっかけでおこった、多くの国をまきこんだ戦争を何というか。
- (4) (3)のような国家全体をまきこむ戦争形態を何というか。
- (5) (3)で使用された新兵器を2つ答えなさい。
- (6) 日本は中国に軍隊を送り、ドイツの軍事基地のある青島を占領した。青島は何という半島にあるか。
- (7) 1915年、日本が中国に対して出した要求を何というか。

1

(1)	
(2)	
(3)	
(4)	
(5)	
(6)	
(7)	

2 資料を見て、各問いに答えなさい。



- (1) 第一次世界大戦中のヨーロッパ各国の関係を示した資料中のA・Bにあてはまる国名とX・Yにあてはまる協力関係を示す用語を答えなさい。
- (2) バルカン半島は国際紛争の火種となっていたことから何とよばれていたか、答えなさい。
- (3) 日本が第一次世界大戦に参戦した理由を、「同盟」という語句を用いて簡潔に説明しなさい。
- (4) 第一次世界大戦について述べた次のア～エの文のうち、誤っているものを1つ選び、記号で答えなさい。
  - ア 戦車や毒ガスなどの新兵器が使用された。
  - イ 労働力不足から、女性も兵器工場で働いた。
  - ウ 日本は山東半島にあるドイツ軍の基地を攻撃し、占領した。
  - エ 日本はドイツに対して二十一か条の要求をした。

2

(1)	A	
	B	
	X	
	Y	
(2)		
(3)		
(4)		



## Exercise

1 P.144の **Point!** を赤シートでかくして、番号順にノートにテストしなさい。

2 次の各問いに答えなさい。

- (1) ① 民族や宗教の対立と列強の利害衝突がからまって、「ヨーロッパの火薬庫」とよばれた半島名を答えなさい。
- ② ①の半島の位置を右の地図中のア～エの中から1つ選びなさい。
- (2) 次の文中の①～③にあてはまる語句を答えなさい。



1914年、( ① ) の皇位継承者夫妻が ( ② ) 人の青年に暗殺される ( ③ ) 事件がきっかけで、第一次世界大戦がおこった。

- (3) (2)①の国とドイツ、イタリアが結んでいた同盟を何というか。
- (4) イギリス、フランス、ロシアが結んでいた関係を何というか。
- (5) 第一次世界大戦が総力戦といわれる理由を「植民地」「女性」という語句を使って説明しなさい。

3 右の地図を見て、各問いに答えなさい。

- (1) 地図中のA、Bにあてはまる陣営の名称を、以下の語群から1つずつ選びなさい。
- 〔 連合国 中立国 同盟国 〕



- (2) 第一次世界大戦で使われた新兵器を1つ答えなさい。
- (3) 第一次世界大戦のように、国家全体をまきこむ戦争形態を何というか。
- (4) 日本が参戦したのは(1)のA・Bのどちら側としてか。その理由も含めて、簡潔に説明しなさい。
- (5) 日本はドイツ軍の基地を攻撃し、占領した。基地があった半島の名称を以下の語群から1つ選びなさい。
- 〔 バルカン半島 山東半島 遼東半島 〕
- (6) 第一次世界大戦中に日本が中国に対して出した要求を何というか。

2

(1)	①	
	②	
(2)	①	
	②	
	③	
(3)		
(4)		
(5)		

3

(1)	A	
	B	
(2)		
(3)		
(4)		
(5)		
(6)		

## 8-2 ロシア革命

▶ 映像との対応 / 歴史「ロシア革命」

### Point!

- (1) <sup>(1)</sup> **ロシア革命** …ロシアでは、長引く第一次世界大戦により民衆の生活は苦しくなり、帝政への不満が高まった。各地に労働者や兵士のソビエト（代表会議）が組織された。1917年に帝政を倒し、臨時政府が成立。
- (2) <sup>(2)</sup> **社会主義** 政府の成立…臨時政府が戦争を継続したことから、<sup>(3)</sup> **レーニン** を指導者として労働者や兵士らが臨時政府を倒した。ドイツと講和条約を結び、戦争から離脱。
- (3) <sup>(4)</sup> **シベリア出兵** …社会主義思想の拡大を防ぐために、日本、アメリカ、フランス、イギリスなどはシベリアに兵を送り、革命政府に干渉した。
- (4) <sup>(5)</sup> **ソビエト社会主義共和国連邦** しかがいしゅ ききょうわ こくれんぽう **〔ソ連〕** …1922年、世界初の社会主義国が成立した。
- (5) 独裁政治と計画経済…レーニンの後に指導者となった<sup>(6)</sup> **スターリン** は共産党の独裁体制をしき、<sup>(7)</sup> **五か年計画** を進めて、ソ連は成長した。

### Warm Up

ロシア革命に対し、日本やイギリスなどがシベリア出兵を行ったのはなぜか。当時のロシアで広まっていた思想が何かを明確にして、簡潔に説明しなさい。

#### 解説

当時のロシアでは、「土地や工場など、生産に必要なものは全て国家が管理する」社会主義の思想が広がっていた。社会主義の拡大を防ぐため、日本、イギリス、アメリカ、フランスなどはシベリア出兵を行った。

（例）社会主義の拡大を防ぐため。

## Try

**1** 次の各問いに答えなさい。

- (1) ロシアでは1917年に帝政が倒される革命がおこった。この革命を何というか。
- (2) (1)の革命でできた臨時政府を同年11月に倒した指導者はだれか。
- (3) 社会主義を拡大させないために、日本、アメリカ、フランス、イギリスなどは兵を送った。これを何というか。
- (4) (2)の人物を指導者として、1922年に世界初の社会主義国家ができた。その国名を何というか。
- (5) (2)の人物の後に指導者となり、「五か年計画」を進めて(4)の国家を成長させた人物はだれか。

**1**

(1)	
(2)	
(3)	
(4)	
(5)	

**2** 次の各問いに答えなさい。

- (1) 第一次世界大戦中におこったロシア革命の指導者はだれか。
- (2) 土地や工場など、生産に必要なものは全て国家が管理する。このような思想を何というか。
- (3) 1918年に日本、イギリス、アメリカ、フランスなどはシベリア出兵を行った。その理由を簡潔に説明しなさい。
- (4) ロシア革命によって成立した国について説明した文として誤っているものを1つ選び、記号で答えなさい。  
**ア** ドイツと単独講和を結び、第一次世界大戦から離脱した。  
**イ** 世界初の社会主義国家となった。  
**ウ** レーニンの指導で「5か年計画」を実施した。  
**エ** 労働者や兵士のソビエト（代表会議）が組織された。

**2**

(1)	
(2)	
(3)	
(4)	



Exercise

1 P.147の Point! を赤シートでかくして、番号順にノートにテストしなさい。

2 次の各問いに答えなさい。

- (1) 1917年におきた、社会主義の政府を樹立させる動きを何というか。
- (2) (1)の指導者はだれか。
- (3) 1922年に成立した世界で初めての社会主義国家の正式名称を答えなさい。
- (4) 1918年に日本、アメリカ、フランス、イギリスなどはシベリア出兵を行ったが、その理由を簡潔に説明しなさい。
- (5) (2)の人物のあとに指導者となって、「五か年計画」を実施した人物はだれか。

2

(1)	
(2)	
(3)	
(4)	
(5)	

3 次の文章中の①～⑥にあてはまる語句を答えなさい。

第一次世界大戦において連合国側で参戦したロシアでは、1917年に（ ① ）を指導者とする（ ② ）がおこった。ロシアはドイツと単独で講和条約を結び、戦線を離脱。（ ③ ）主義の影響が拡大することを恐れた日本、イギリス、フランス、アメリカの各国は（ ② ）に干渉するため、（ ④ ）を行い、武力で（ ③ ）主義を鎮めようとした。

1922年、ロシアはソビエト（ ③ ）主義共和国連邦と国名を変更。（ ① ）の死後、新たに指導者となった（ ⑤ ）は（ ⑥ ）とよばれる経済政策を行い、独裁的な政治を行った。

3

①	
②	
③	
④	
⑤	
⑥	

## 8-3

## 第一次世界大戦後の国際協調

映像との対応 / 歴史「第一次世界大戦後の国際協調」

## Point!

(1) 戦争の終結…1918年、ドイツが降伏し、1919年に<sup>(1)</sup> **パリ講和会議**が開かれ、<sup>(2)</sup> **ベルサイユ条約**が調印された。

① <sup>(3)</sup> **民族自決**…各民族がほかの民族の干渉を受けずに政治的運命を決定するべきという考えのこと。アメリカ大統領<sup>(4)</sup> **ウィルソン**が提案。これにより東ヨーロッパで多くの小国が独立。

② ドイツへの対応…領土の縮小、すべての<sup>(5)</sup> **植民地**の放棄、多額の賠償金の支払い、軍備の縮小を命じた。

③ 日本は中国山東省のドイツの権益を引きつぎ、太平洋地域の植民地の委任統治権を得た。 ㊟

(2) 国際連盟

① 発足…1920年、アメリカ大統領の<sup>(6)</sup> **ウィルソン**の提案で、世界平和の確立と維持のために<sup>(7)</sup> **国際連盟**がつくられた。本部はスイスの<sup>(8)</sup> **ジュネーブ**。発足時ドイツ、ソ連などは不参加。

当初の常任理事国は<sup>(9)</sup> **日本、イギリス、フランス、イタリア**の4か国。

② 問題点…アメリカなどの大国が不参加であった。また、意思を決定するためには加盟国の全会一致が必要だったため、問題を解決することは困難であった。

(3) **軍縮会議と国際協調**

<sup>(10)</sup> **ワシントン会議**…アメリカの呼びかけで開催。海軍の軍備制限、太平洋地域の現状維持、中国の独立と領土の保全を確認した。この会議で日英同盟の解消も決定された。

(4) <sup>(11)</sup> **ワイマール憲法**…1919年、第一次世界大戦後のドイツで制定。世界で初めて<sup>(12)</sup> **社会権**について明記されており、国民主権、労働者の権利の保障を定めた。 ㊟

## Warm Up

第一次世界大戦終結後、国際連盟が「国際平和の確立と維持のため」に設立されたが、第二次世界大戦を防ぐことができなかった。国際連盟の問題点を1つあげなさい。

## 解説

意思を決定するためには加盟国の全会一致が必要だったため、議決することが難しかった。また、議決されたとしてもアメリカなどの大国が当初不参加だったため、影響力は小さかった。

(例①) 議決のために全会一致が必要だったこと。

(例②) アメリカなどの大国が不参加だったこと。

## Try

**1** 次の各問いに答えなさい。

- (1) 第一次世界大戦の講和条約を何というか。
- (2) (1)の条約は1919年に調印されたが、その講和会議はどこの都市で開かれたか。
- (3) アメリカ大統領が主張した、各民族がほかから干渉を受けずに自らの意志にもとづいて政治的運命を決定しようという考えを何というか。
- (4) 国際平和の確立と維持をはかるために、1920年につくられた機関を何というか。
- (5) (4)の設立の提案と、(3)の考えを主張したアメリカの大統領はだれか。
- (6) 第一次世界大戦後の講和会議において、ドイツは、領土の縮小、多額の賠償金の支払い、軍備の縮小のほかに、何の放棄を命じられたか。
- (7) 1921年から翌年にかけて、アメリカの呼びかけで開かれた軍縮会議を何というか。
- (8) 1919年にドイツで制定された憲法を何というか。
- (9) (8)の憲法に世界で初めて明記された権利は何か。

**2** 次の各問いに答えなさい。

- (1) パリ講和会議において、アメリカ大統領のウィルソンが提案した民族が自主的な立場から独立を決める考えを何というか。漢字4字で答えなさい。
- (2) パリ講和会議で結ばれた条約は何か。
- (3) 国際連盟の発足時の常任理事国を4か国すべて答えなさい。
- (4) 国際連盟は、国際紛争の解決に十分な力を持たなかった。その理由を「アメリカ」という語句を用いて1つあげなさい。
- (5) ワシントン会議の内容にあてはまらないものを、次のア～エの中から1つ選び、記号で答えなさい。  
 ア ドイツの領土の縮小  
 イ 海軍の軍備制限  
 ウ 太平洋地域の現状維持  
 エ 中国の独立と領土の保全

**1**

(1)	
(2)	
(3)	
(4)	
(5)	
(6)	
(7)	
(8)	
(9)	

**2**

(1)	
(2)	
(3)	
(4)	
(5)	



## Exercise

1 P.150の **Point!** を赤シートでかくして、番号順にノートにテストしなさい。

2 年表を見て、各問いに答えなさい。

年代	できごと
1918	第一次世界大戦が終わる
1919	講和会議が開催される……………A ドイツで新しい憲法がつくられる…B
1920	国際的な組織が発足する……………C
1921	国際会議が開かれる……………D

(1) 年表中の**A**について、

- ① 第一次世界大戦の講和会議が開催された、フランスの都市名を答えなさい。
- ② この講和会議で調印された条約名を答えなさい。
- ③ ②の条約で、多額の賠償金や領土の縮小などを課せられた国名を答えなさい。

(2) 年表中の**B**について、この憲法の名称を答えなさい。

(3) 年表中の**C**について、

- ① この組織の名称を答えなさい。
- ② この組織について述べた次の**ア～エ**の文のうち、正しいものを1つ選び、記号で答えなさい。

**ア** アメリカの大統領のレーニンの提案で発足した。

**イ** 本部はアメリカのワシントンに設置された。

**ウ** 国際平和の確立と維持のためにつくられた。

**エ** アメリカ、イギリス、フランス、イタリアはこの組織の常任理事国になった。

(4) 年表中の**D**について、海軍の軍備制限などを決定した、この会議の名前を答えなさい。

3 次の各問いに答えなさい。

(1) 国際連盟の提案を行ったアメリカ大統領の名前を答えなさい。

(2) (1)の大統領が唱えた考えで、東ヨーロッパの国々が独立するきっかけになった原則の名前を答えなさい。

(3) 国際連盟の発足時、不参加であった国を、以下の語群からすべて選びなさい。

[ 日本 アメリカ ソ連 ドイツ ]

(4) 国際連盟の問題点を1つ答えなさい。

(5) 1919年、世界で初めて( )権について明記されたワイマール憲法がドイツで制定された。( )にあてはまる語句を漢字2字で答えなさい。

2

(1)	①	
	②	
	③	
(2)		
(3)	①	
	②	
(4)		

3

(1)	
(2)	
(3)	
(4)	
(5)	

## 8-4

## アジアの民族運動

映像との対応 / 歴史「アジアの民族運動」

## Point!

(1) 中国…第一次世界大戦中の1915年、日本は中国に対し、ドイツが持つ<sup>(1)</sup> **山東**省の権益の継承、満州での権益の拡大などを盛り込んだ<sup>(2)</sup> **二十一か条の要求**を示し、大部分を認めさせた。

パリ講和会議で、山東省のドイツの権益を日本が引きつぐことが認められると、中国の反日感情がさらに高まった。

① <sup>(8)</sup> **五・四運動**…1919年5月4日に開かれた北京の学生集会をきっかけにおこった反日運動。

② 1919年、<sup>(9)</sup> **孫文**らが<sup>(10)</sup> **中国国民党**〔国民党〕を結成。1921年には<sup>(11)</sup> **中国共産党**が結成され、両党は協力して革命運動を発展させた。孫文の死後、中国国民党の<sup>(12)</sup> **蒋介石**は1927年に南京に国民政府をつくり、中国共産党と対立した。

(2) 朝鮮…1919年3月1日、ソウルで<sup>(13)</sup> **日本**からの独立を宣言し、人々は「**独立万歳**」をさげんでデモ行進を行った。これを<sup>(14)</sup> **三・一独立運動**という。

(3) インド…<sup>(15)</sup> **イギリス**の支配に対して、<sup>(16)</sup> **ガンディー**の指導のもとで、<sup>(17)</sup> **非暴力・不服従**の独立運動が展開された。

一、<sup>(3)</sup> **中国**政府は、<sup>(4)</sup> **山東**省における<sup>(5)</sup> **ドイツ**の権益を<sup>(6)</sup> **日本**にゆずる。

一、旅順や大連の租借期限、南満州鉄道の利権の期限を、さらに99年ずつ延長する。

一、南満州・東部内モンゴルでの**鉱山採掘権**を日本にあたえる。

一、中国の中央政府に、政治・経済・軍事の顧問として有能な<sup>(7)</sup> **日本**人を招くこと。

① 二十一か条の要求（一部要約）

## Warm Up

右の地図中のA～Cの地域でおこった、第一次世界大戦後のアジアの民族運動を、それぞれ下の語群から1つずつ選びなさい。

〔 非暴力・不服従の運動    三・一独立運動    五・四運動 〕

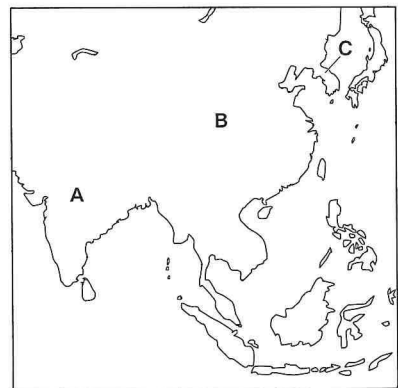
## 解説

Aはインドで、ガンディーの指導のもと非暴力・不服従の運動がおきた。

Bは中国で、北京で学生集会をきっかけに五・四運動がおきた。

Cは朝鮮で、ソウルで三・一独立運動がおきた。

A 非暴力・不服従の運動    B 五・四運動    C 三・一独立運動



## Try

**1** 次の各問いに答えなさい。

- (1) 1919年、中国でおこった帝国主義に反対する国民運動を何というか。
- (2) 辛亥革命の指導者であった人物が1919年に中国で結成した政党を何というか。
- (3) (2)の創設者はだれか。
- (4) (2)とは別に、1921年に中国で結成された党を何というか。
- (5) (3)の人物の死後、南京に政府をつくり、(4)の党と対立した人物はだれか。
- (6) 1919年、朝鮮でおこった独立運動を何というか。
- (7) (6)の運動はどこからの独立をめざしていたか。
- (8) イギリスの支配に抵抗したインドの指導者はだれか。
- (9) (8)の人物が指導した独立運動の特徴を2つ答えなさい。

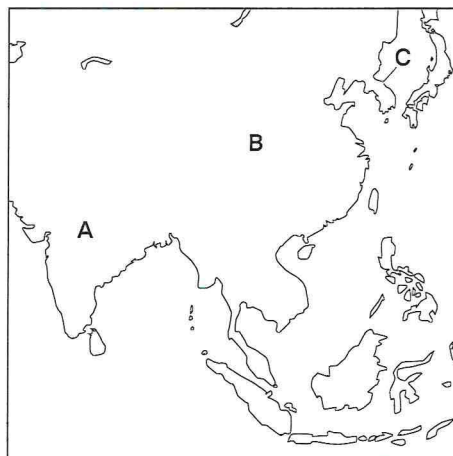
**1**

(1)	
(2)	
(3)	
(4)	
(5)	
(6)	
(7)	
(8)	
(9)	

**2** 次の各問いに答えなさい。

- (1) 以下の①～③は、第一次世界大戦後におこったアジアの民族運動である。それぞれの運動がおこった地域を、右の地図中のA～Cの中から1つずつ選び、記号で答えなさい。

- ① 五・四運動
- ② 三・一独立運動
- ③ 非暴力・不服従の運動



- (2) 第一次世界大戦中の1915年に、日本が中国につきつけた要求を何というか。
- (3) 次の資料は、(2)の要求の一部である。文中の①～④にあてはまる語句をそれぞれ答えなさい。

- 一 ( ① ) 政府は、( ② ) 省における ( ③ ) の権益を ( ④ ) にゆずる。
- 一 中国の中央政府に、政治・経済・軍事の顧問として有能な ( ④ ) 人を招くこと。

**2**

(1)	①	
	②	
	③	
(2)		
(3)	①	
	②	
	③	
	④	



## Exercise

1 P.153の **Point!** を赤シートでかくして、番号順にノートにテストしなさい。

2 次の各問いに答えなさい。

- (1) 第一次世界大戦中、日本が中国に出した二十一か条の要求にあたるものを、次の**ア～エ**の中から2つ選び、記号で答えなさい。


**ア** 日本に賠償金を2億両払う。

**イ** ドイツが山東省に持っていた権益を日本にゆずる。

**ウ** 樺太の南半分を日本にゆずる。

**エ** 南満州での日本の利権を拡大し、期限を延長する。

- (2) 右の絵はインド独立の父とよばれた人物をえがいたものである。この人物がかかげたスローガンを答えなさい。



- (3) (2)の人物はだれか。

2

(1)	
(2)	
(3)	

3 資料を読み、各問いに答えなさい。

中国	北京で起こった反日運動が、帝国主義に反対する、 <b>A</b> 運動に発展した。1919年、孫文が( ① )を結成する。
朝鮮	京城で <b>B</b> からの独立を宣言すると、朝鮮半島全体で <b>C</b> 運動が起こった。
インド	<b>D</b> を指導者として、 <b>E</b> からの独立を目指す運動が高まった。

- (1) 上の資料中の**A～E**にあてはまる運動名や人物名、国名を答えなさい。
- (2) ①にあてはまる政党名を答えなさい。
- (3) 中国で反日感情が高まった原因である、第一次世界大戦中に、日本が中国に対して示した要求を何というか。

3

(1)	<b>A</b>	
	<b>B</b>	
	<b>C</b>	
	<b>D</b>	
	<b>E</b>	
(2)		
(3)		

## 8-5

## 大正デモクラシー

▶ 映像との対応 / 歴史「大正デモクラシー」

## Point!

- (<sup>1</sup> 大正デモクラシー) …大正期を中心に広まった、民主主義や自由主義を重んじる風潮<sup>ふうちょう</sup>のこと。
- (1) (<sup>2</sup> 護憲運動<sup>こけんうんどう</sup>) …藩閥<sup>はんぼつ</sup>中心の専制政治を批判し、憲法にもとづいた政治を求める運動のこと。
- (2) 第一次護憲運動…1912年、藩閥<sup>はんぼつ</sup>の桂 太郎<sup>かつら たろう</sup>が3回目の内閣をつくる。議会無視の態度をとったため、新聞や民衆の反対運動がおこり内閣は総辞職に追い込まれた。
- (3) (<sup>3</sup> 民本主義<sup>みんぽんしゅぎ</sup>) …議会を中心に国民の意思にもとづいた政治を行うべきだという考え。  
(<sup>4</sup> 吉野作造<sup>よしの さくぞう</sup>) が主張し、普通選挙による政党中心の議会政治をめざした。 ●
- (4) (<sup>5</sup> 米騒動<sup>こめさうどう</sup>) …1918年、ロシア革命後の(<sup>6</sup> シベリア出兵<sup>シベリアしゅっぺい</sup>) をきっかけとした米の買い占めにより、米の値段が上がったため、米の安売りを求める運動が富山県から始まり、全国に広がった。
- (5) (<sup>7</sup> 政党内閣<sup>せいとうないかく</sup>) の成立…米騒動の直後、立憲政友会<sup>りっけんせいゆうかい</sup>の(<sup>8</sup> 原敬<sup>はら たかし</sup>) が衆議院第一党の党員による内閣を組織し、初の本格的な政党内閣が成立した。原は「平民宰相<sup>へいみんさいしやう</sup>」とよばれ、選挙法を改正して有権者数を増加させた。 ●

## Warm Up

- (1) 1918年におきた米騒動について、その原因を「シベリア」「買い占め」という語句を用いて説明しなさい。
- (2) 原敬内閣が本格的な政党内閣とよばれる理由を説明しなさい。

## 解説

- (1) シベリア出兵を見こした米の買い占めにより、米の値段が上がったため、米の安売りを求めて米騒動がおこった。  
(例) シベリア出兵をきっかけとした米の買い占めにより、米の値段が上がったから。
- (2) 1918年に成立した原内閣は外務・陸軍・海軍大臣を除く大臣が衆議院第一党である立憲政友会の党員で構成されたため、初の本格的な政党内閣と評された。  
(例) 原敬内閣は衆議院第一党である立憲政友会の党員でほとんどの大臣が構成されていたため。

Try

1 次の各問いに答えなさい。

- (1) 藩閥政治に反対して憲法にもとづいた政治を求める運動を何というか。
- (2) 明治時代末から政党政治が発展し、大正時代には民主主義や自由主義を求める風潮が高まった。このことを何というか。
- (3) 普通選挙を実施して民意を政治に反映させることなどを主張した人物はだれか。
- (4) (3)の人物が主張した考えを何というか。
- (5) 1918年、シベリア出兵をきっかけに米の値段が上がったため、米の安売りを求める運動が全国に広がった。軍隊まで出動したこのできごとを何というか。
- (6) (5)の直後、1918年に「平民宰相」とよばれた人物が内閣を組織した。この人物はだれか。
- (7) (6)の人物が組織した内閣は、日本で最初の本格的な（ ）であった。（ ）にあてはまる語句を答えなさい。

2 次の年表を見て、各問いに答えなさい。

年代	できごと
1912	第一次（ ）が始まる…… <b>A</b>
1916	民本主義が唱えられる……… <b>B</b>
1918	米騒動がおこる……… <b>C</b>
	原敬内閣が成立する……… <b>D</b>

- (1) 年表中の**A**について、
  - ① （ ）にあてはまる語句を漢字4字で答えなさい。
  - ② このときに総辞職に追い込まれた内閣総理大臣を、次の語群から1つ選びなさい。  
〔 伊藤博文 小村寿太郎 陸奥宗光 桂太郎 〕
- (2) 年表中の**B**について、民本主義を唱えた人物はだれか。
- (3) 年表中の**C**の米騒動について、その原因を当時おきていた国際的なできごとと、米の価格にふれながら説明しなさい。
- (4) 年表中の**D**について、この内閣は多くの大臣が衆議院第一党の立憲政友会の党員で構成されていた。このような内閣を何というか。

1

(1)	
(2)	
(3)	
(4)	
(5)	
(6)	
(7)	

2

(1)	①	
	②	
(2)		
(3)		
(4)		



## Exercise

1 P.156の **Point!** を赤シートでかくして、番号順にノートにテストしなさい。

2 次の各問いに答えなさい。

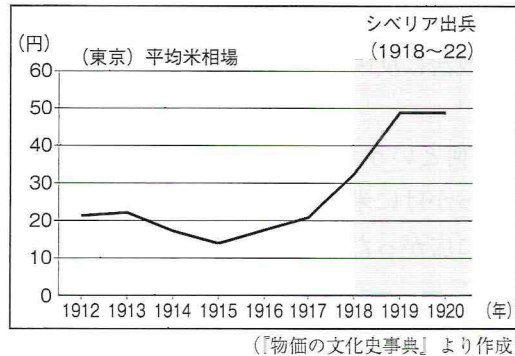
(1) 大正時代に広まった、自由主義の風潮や運動を何というか。

(2) 米騒動について、その原因を右のグラフを参考に簡潔に説明しなさい。

(3) 米騒動後、「平民宰相」とよばれた人物が内閣を結成したが、これは誰か。

(4) (3)の人物が所属する政党名を以下の語群から1つ選びなさい。

[ 自由党 立憲政友会 立憲改進黨 共産党 ]



2

(1)	
(2)	
(3)	
(4)	

3 次の各問いに答えなさい。

(1) 原敬が組織した内閣は初の本格的な政党内閣とよばれた。その理由を下の表を参考に説明しなさい。

総理大臣	原敬	立憲政友会
内務大臣	床次竹二郎	立憲政友会
外務大臣	内田康哉	外交官
陸軍大臣	田中義一	軍人
海軍大臣	加藤友三郎	軍人
文部大臣	中橋徳五郎	立憲政友会
農商務大臣	山本達雄	立憲政友会
逓信大臣	野田卯太郎	立憲政友会
司法大臣	原敬が兼務	

(2) 吉野作造による、「国民の意思にもとづいた政治を行うべきである」という考え方を何というか。

3

(1)	
(2)	

## 8-6

## 社会運動と新しい文化

映像との対応 / 歴史「社会運動と新しい文化」

## Point!

## (1) 社会運動の高まり

- ① 労働運動…賃上げや労働時間の短縮を求める<sup>(1)</sup> **労働争議**がおこった。
- ② 農民運動…小作料<sup>こさくりょう</sup>の減額を求める<sup>(2)</sup> **小作争議**がおこった。
- ③ 社会主義運動…ロシア革命の影響で共産主義への関心が高まり、日本共産党が結成された。
- ④ 女性運動…<sup>(3)</sup> **平塚らいてう**は1911年に<sup>(4)</sup> **青鞥社**を、1920年には<sup>(5)</sup> **新婦人協会**を結成し、女性の解放や女性の政治活動の自由などを求めて活動した。
- ⑤ 解放運動…1922年、<sup>(6)</sup> **全国水平社**が結成され、部落解放運動を進めた。また、1930年、北海道アイヌ協会が結成され、アイヌ民族解放運動を進めた。
- ⑥ <sup>(7)</sup> **関東大震災**…1923年に発生。東京、横浜などが大きな被害を受けた。混乱の中で、朝鮮人や中国人、社会主義者などが殺される事件がおこった。

## (2) 男子普通選挙の実現

- ① <sup>(8)</sup> **普通選挙法**…第二次護憲運動の後の1925年、憲政会の加藤高明<sup>かとうたかあき</sup>を首相とする連立内閣のもとで成立した。納税額による制限をなくし、<sup>(9)</sup> **満25歳以上の男子**に選挙権があたえられた。有権者数は約4倍になり、全人口の約20%を占めた。
- ② <sup>(10)</sup> **治安維持法**…1925年に成立し、共産主義などに対する取りしまりが強化された。
- (3) 大衆文化…週刊誌や映画など。また、新聞や大正時代に始まった<sup>(11)</sup> **ラジオ放送**が情報源として普及した。
- (4) 文学…『羅生門』、『蜘蛛の糸』などを書いた<sup>(12)</sup> **芥川龍之介**らが活躍した。

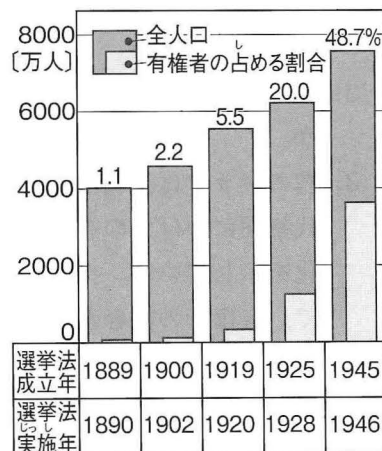
## Warm Up

右の資料を見て、次の各問いに答えなさい。

- (1) 1928年の有権者の占める割合は、1920年の有権者の占める割合の約何倍になったか。四捨五入して整数で答えなさい。
- (2) 1925年に制定された選挙法により、年齢以外では何の制限が廃止されたか。

## 解説

- (1) 1928年の有権者の割合は20.0%。1920年は5.5%で、約4倍になっている。  
約4倍
- (2) 1925年に制定された普通選挙法から、納税額による制限がなくなったため、有権者が大幅に増えた。  
(例) 納税額



## Try

## 1 次の各問いに答えなさい。

- (1) 賃上げや労働時間の短縮などを求めて、労働者がおこした運動を何というか。
- (2) 小作料の引き下げなどを求めて、農民がおこした運動を何というか。
- (3) 1925年、加藤高明内閣のもとで成立した選挙法を何というか。
- (4) (3)の法律で選挙権をあたえられたのはどんな人々か。
- (5) 大正時代に開始され、情報源として国内外のできごとを全国に伝えるのに役立ったものは何か。
- (6) 知性的な短編で人々に新鮮な印象をあたえ、『羅生門』などを書いた人物はだれか。
- (7) 1923年におこり、東京や横浜などが大きな被害を受けた災害は何か。

## 1

(1)	
(2)	
(3)	
(4)	
(5)	
(6)	
(7)	

## 2 資料を見て、各問いに答えなさい。

## A

全国に散在する部落の人々よ、団結せよ。ここにわれわれが人間を尊敬することによって、みずからを解放しようとする運動をおこしたのは当然である。(略)  
人の世に熱あれ、人間に光あれ。(部分要約)

## B

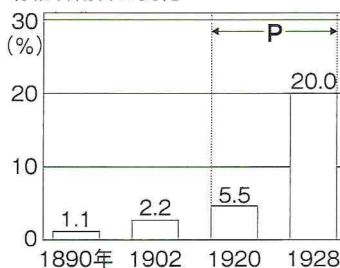
げんし 元始、女性は実に太陽であった。真正の人であった。今、女性は月である。(略) 隠されてしまったわが太陽を今や取りもどさなくてはならない。(部分要約)

## 2

(1)	
(2)	
(3)	
(4)	

- (1) Aのように宣言し、1922年に京都で部落解放のために結成された組織を何というか。
- (2) Bの宣言を雑誌「青鞥」に発表し、女性の解放を唱えた人物はだれか。
- (3) 右のグラフは、明治時代から昭和時代初期にかけての有権者の割合の変化を示している。グラフのPの期間で、有権者の割合が増加している理由を「選挙法」という語句を用いて説明しなさい。

有権者割合の変化



- (4) 1925年に共産主義の広まりを警戒して定められた法律を何というか。



Exercise

1 P.159の **Point!** を赤シートでかくして、番号順にノートにテストしなさい。

2 次の各問いに答えなさい。

- (1) 1925年に成立した普通選挙法が定めた有権者について、正しいものを次の**ア～エ**から1つ選び、記号で答えなさい。  
**ア** 満25歳以上の男子  
**イ** 直接国税15円以上納める満25歳以上の男子  
**ウ** 満20歳以上の男女  
**エ** 直接国税3円以上納める満20歳以上の男女
- (2) 普通選挙法が制定されたときの内閣総理大臣を、以下の語群から選びなさい。  
〔 伊藤博文 桂太郎 原敬 加藤高明 〕
- (3) 普通選挙法と同時に制定された治安維持法は、主にどのような人々を取りしめるための法律か。以下の語群から選びなさい。  
〔 民本主義者 共産主義者 資本主義者 〕

2

(1)	
(2)	
(3)	

3 次の各問いに答えなさい。

- (1) 次の組織のうち、「平塚らいてう」と関わりがあるものをすべて選び、記号で答えなさい。  
**ア** 友愛会                      **イ** 新婦人協会                      **ウ** 北海道アイヌ協会  
**エ** 日本農民組合                      **オ** 日本共産党                      **カ** 青鞥社
- (2) 大正時代の文化の例として、正しいものを**ア～エ**の中から1つ選び、記号で答えなさい。  
**ア** 横浜と新橋間で鉄道が開通  
**イ** 福沢諭吉の『学問のすゝめ』  
**ウ** ガス灯の使用  
**エ** ラジオ放送の開始
- (3) 大正時代の社会運動にあてはまらないものを、次の**ア～エ**の中から1つ選び、記号で答えなさい。  
**ア** 農村では、小作争議が増加した。  
**イ** 部落差別からの解放を求め、全国水平社が設立された。  
**ウ** 田中正造が足尾銅山鉱毒事件の解決を国会に訴えた。  
**エ** 労働者が、賃上げや労働時間の短縮を求めて労働争議をおこした。
- (4) 『羅生門』『蜘蛛の糸』などの短編小説を書いた作家を答えなさい。
- (5) 1923年9月1日に発生した震災の名称を答えなさい。

3

(1)	
(2)	
(3)	
(4)	
(5)	

## 9-1

## 世界恐慌とその対策

映像との対応 / 歴史「世界恐慌とその対策」

## Point!

(1) <sup>(1)</sup> **世界恐慌** … <sup>(2)</sup> **1929** 年、アメリカの <sup>(3)</sup> **ニューヨーク** の株式市場で株価が暴落し、急激に不景気となり、それが世界全体に広まった。多くの会社が倒産し、失業者が急増した。

(2) 各国の対策

① イギリス、フランス：<sup>(4)</sup> **ブロック経済**

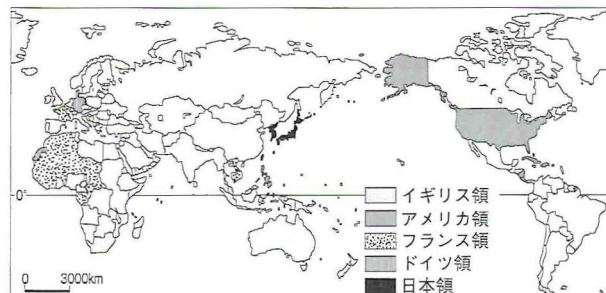
…高い<sup>(5)</sup> **関税**をかけて、本国や<sup>(6)</sup> **植民地**の市場から他の国の商品をしめ出し、自分たちだけの<sup>(7)</sup> **経済圏**をつくる政策を実行した。

② アメリカ：<sup>(8)</sup> **ニューディール政策**

…<sup>(9)</sup> **ローズベルト** 大統領が実施。政府が不況対策として、大規模な<sup>(10)</sup> **公共事業**を実施して、失業者に職をあたえた。

③ <sup>(11)</sup> **ソ連**

…社会主義国として<sup>(12)</sup> **スターリン**のもとで<sup>(13)</sup> **五か年計画**を実施していたため、世界恐慌の影響を受けずに成長を続けた。



④ 各国の植民地

国名	政策名
イギリス フランス	<sup>(13)</sup> <b>ブロック経済</b>
アメリカ	<sup>(14)</sup> <b>ニューディール政策</b>
ソ連	<sup>(15)</sup> <b>五か年計画</b>



## Warm Up

右の資料を見て、次の各問いに答えなさい。

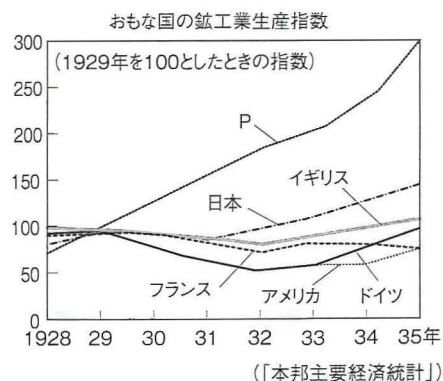
- 1929年に起こった世界恐慌の影響で、世界各国の鉱工業は数年間生産が減少したが、**P**の国だけは世界恐慌の影響をほとんど受けていない。**P**の国名を答えなさい。
- アメリカは世界恐慌の対策として、「ニューディール政策」を実施した。その内容を「公共事業」「失業者」という語句を使って説明しなさい。

解説

- 社会主義国であるソ連は計画的に生産をおこなう「五か年計画」を実施していたので、世界恐慌の影響をほとんど受けることなく成長を続けた。

ソ連〔ソビエト社会主義共和国連邦〕

- (例) 公共事業を実施して、失業者に職をあたえた。



## Try

## 1 次の各問いに答えなさい。

- (1) 1929年、ニューヨークから全世界に不景気が広がった。これを何と  
いうか。
- (2) (1)に対し、イギリスやフランスは何とよばれる経済政策をとったか。
- (3) (2)の政策で、イギリスやフランスは、本国とどここの関係を密接に  
したか。
- (4) (2)の政策で、イギリスやフランスは、(3)以外の外国の商品に対し  
て、何を高く設定したか。
- (5) (1)に対し、アメリカは何とよばれる経済政策をとったか。
- (6) (5)のときの大統領はだれか。
- (7) (5)の政策では、政府は積極的に何を実施したか。
- (8) 社会主義体制で五か年計画を実施していたため、(1)の影響を受け  
なかった国はどこか。
- (9) (1)のころの(8)の指導者はだれか。

## 2 次の文章を読んで、あとの各問いに答えなさい。

第一次世界大戦後、アメリカ合衆国は世界一の経済大国に発展したが、( ① )年に( ② )の株式市場で株価が大暴落したのをきっかけに、景気は急速に悪化した。この不景気はヨーロッパをはじめ、世界中に広がっていった。これを( ③ )という。

アメリカでは( ④ )大統領が( ⑤ )政策をかかげ、**A**不況対策を実行した。イギリスやフランスでは、**B**ブロック経済という政策を実行した。ソ連は( ⑥ )計画を進めていたため、不景気の影響を受けることはほとんどなかった。

- (1) 文章中の①～⑥にあてはまる語句や数字を答えなさい。
- (2) 下線部**A**について、この不況対策を「公共事業」「失業者」という2つの語句を用いて説明しなさい。
- (3) 下線部**B**について、ブロック経済とは本国と植民地との貿易を盛んにする政策である。それ以外の国の商品にはどのような対策をとったか、簡潔に説明しなさい。

## 1

(1)	
(2)	
(3)	
(4)	
(5)	
(6)	
(7)	
(8)	
(9)	

## 2

(1)	①	
	②	
	③	
	④	
	⑤	
	⑥	
(2)		
(3)		



## Exercise

1 P.162の **Point!** を赤シートでかくして、番号順にノートにテストしなさい。

2 資料を見て、各問いに答えなさい。

(1) 右の資料で、1929年

から数年間、Pをのぞくとどの国でも鉱工業生産が下がっている。これは何の影響によるものか。

(2) Pの国名を答えなさい。

(3) Pの国が(1)の影響を受けなかったのは、ある経済政策を実行

していたからである。その経済政策名を答えなさい。

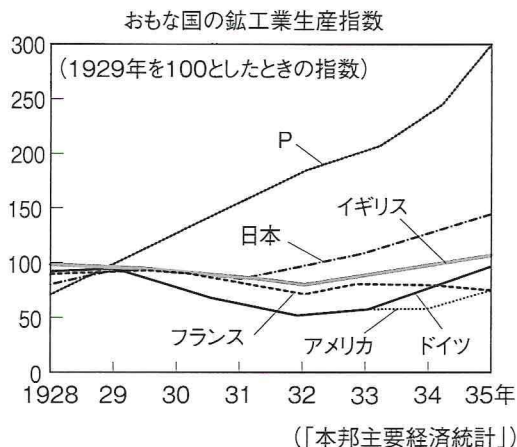
(4) (3)の経済政策を実行した指導者の名前を答えなさい。

(5) (1)に対して、アメリカはどのような政策を行ったか。政策名を明らかにし、「公共事業」「失業者」という語句を使って説明しなさい。

(6) (5)の政策を実施したアメリカ大統領はだれか。

(7) (1)に対して、イギリスがとった政策を以下にまとめた。文中の①～③にあてはまる語句を答えなさい。

( ① ) との結びつきを密接にし、インドやオーストラリアとの貿易を拡大する一方、それ以外の国からの商品の輸入に対する ( ② ) を高くした。この政策を ( ③ ) という。



2

(1)	
(2)	
(3)	
(4)	
(5)	
(6)	
(7)	①
	②
	③

## 9-2

## ヨーロッパ諸国のファシズム化と日本

映像との対応 / 歴史「ヨーロッパ諸国のファシズム化と日本」

## Point!

(1) <sup>(1)</sup> **ファシズム** …民主主義や個人の自由を否定した全体主義の政治、独裁的な政治のこと。

① イタリア… <sup>(2)</sup> **ムッソリーニ** の率いるファシスト党が政権を獲得し、独裁体制を固める。

1935年、<sup>(3)</sup> **エチオピア** を侵略し、翌年、併合した。1937年には国際連盟を脱退。

② ドイツ…1933年、<sup>(4)</sup> **ヒトラー** が首相になると、<sup>(5)</sup> **ナチス** 以外の政党を解散させ、一党独裁を行った。<sup>(6)</sup> **ユダヤ人** を迫害し、共産主義者や自由主義者を攻撃した。また、国際連盟の脱退、ベルサイユ条約を無視した再軍備、<sup>(7)</sup> **ワイマール憲法** の停止などを行った。

(2) 日本経済の行きづまり

…関東大震災後の混乱などから金融恐慌<sup>きんゆうきょうこう</sup>がおり、さらに世界恐慌で深刻な不況になった。

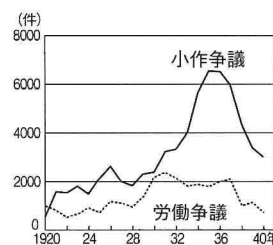
都市では<sup>(8)</sup> **労働争議**<sup>ろうどうそうぎ</sup>、農村では<sup>(9)</sup> **小作争議**<sup>こさくそうぎ</sup>が増加した。

(3) 政治の行きづまり

…日本は軍縮をすることで国民の負担を減らそうと、1930年に

<sup>(10)</sup> **ロンドン海軍軍縮会議** に参加し、イギリスやアメリカと協調して

軍縮条約に調印。しかし、軍人や国家主義者がこの調印に反発し、総理大臣の浜口雄幸<sup>はまぐち おさち</sup>は右翼の青年におそわれて重傷を負い、退陣した。



⑩ 争議の件数 (『完結昭和国勢総覧』)

## Warm Up

右の写真は、1933年にドイツの首相になった人物である。この人物が行ったことについて述べた次のア～エの文のうち、誤っているものを1つ選び、記号で答えなさい。

- ア ナチス以外の政党をすべて解散させた。
- イ ユダヤ人や共産主義者を迫害した。
- ウ エチオピアを侵略して併合した。
- エ ベルサイユ条約を無視して再軍備を行った。



## 解説

写真の人物はヒトラーである。エチオピアを侵略して併合したのは、ヒトラーではなく、イタリアのムッソリーニ。したがって、ウが誤り。

ウ

## Try

## 1 次の各問いに答えなさい。

- (1) 個人の自由や民主主義を認めず、他の民族を犠牲にしても国家全体の繁栄をはかろうとする全体主義的な独裁政治のことを何というか。
- (2) イタリアで独裁体制を固め、1936年にエチオピアを併合した人物はだれか。
- (3) ドイツでユダヤ人を迫害し、一党独裁を行った人物はだれか。
- (4) (3)の人物が率いていた政党を何というか。
- (5) 日本は関東大震災の混乱から金融恐慌がおこり、さらに世界恐慌で深刻な不況におちいった。このような状況下で、都市部では労働者による何が多くおこったか。
- (6) (5)と同様に、農村部では何が多くおこったか。
- (7) 1930年に日本も参加した、軍縮条約を調印した会議を何というか。

## 2 次の文章を読み、各問いに答えなさい。

第一次世界大戦後、イタリアでは（ ① ）がファシスト党を率いて独裁を行い、世界恐慌後には、（ ② ）に侵攻して併合した。また、ベルサイユ条約で多大な賠償金を課されたドイツでは、（ ③ ）が率いるナチスが政権を握って独裁を行った。ナチスは民主的な（ ④ ）憲法を停止させるとともに、軍需産業によって経済を回復させた。

- (1) 文章中の①～④にあてはまる語句を答えなさい。
- (2) イタリアやドイツが進めた、全体主義的な政治体制を何というか。

## 1

(1)	
(2)	
(3)	
(4)	
(5)	
(6)	
(7)	

## 2

(1)	①	
	②	
	③	
	④	
(2)		



## Exercise

1 P.165の **Point!** を赤シートでかくして、番号順にノートにテストしなさい。

2 次の文中の①～④にあてはまる語句を答えなさい。

ドイツではベルサイユ条約での賠償金が重い負担となっていたが、  
 ( ① ) 率いるナチスが、ベルサイユ条約の破棄を主張した。  
 ( ① ) はドイツ民族の優秀さを誇り、( ② ) 人や共産主義者を迫害して大衆の支持を集めた。さらに、ナチス以外の政党を解散させ、国際連盟を脱退した。このような民主主義を否定した全体主義の体制は ( ③ ) とよばれる。

一方、イタリアでは、( ④ ) がファシスト党を結成し、独裁政治を行った。

3 年表を見て、次の各問いに答えなさい。

年代	できごと
1929	世界恐慌がおこる…………… <b>A</b>
1930	ロンドン海軍軍縮会議が行われる… <b>B</b>
1933	ヒトラーが政権をにぎる…………… <b>C</b>
1936	イタリアが ( あ ) を占領する… <b>D</b>

(1) 年表中の**A**について、世界恐慌後の世界の国々の様子について説明した次の**ア～エ**のうち、正しいものを1つ選び、記号で答えなさい。

- ア** 日本では労働争議や小作争議が増加した。  
**イ** アメリカではブロック経済が実施された。  
**ウ** イギリスは五か年計画で世界恐慌の影響を受けなかった。  
**エ** ソ連ではブロック経済が実施された。

(2) 年表中の**B**について、日本は1930年にロンドン海軍軍縮会議に参加し、軍縮条約に調印したが、軍人や国家主義者の反発に合い、当時の総理大臣は右翼の青年に襲われ、重傷を負った。この総理大臣を以下の語群から1つ選びなさい。

[ 伊藤博文 原敬 浜口雄幸 加藤高明 ]

- (3) 年表中の**C**の人物が率いた政党名を答えなさい。  
 (4) 年表中の**D**の ( あ ) にあてはまる国名を答えなさい。  
 (5) 年表中の**D**のときのイタリアの指導者はだれか。

2

①	
②	
③	
④	

3

(1)	
(2)	
(3)	
(4)	
(5)	

## 9-3

## 日本の中国侵略

映像との対応 / 歴史「日本の中国侵略」

## Point!

- (1) 中国の統一…1927年、<sup>しょうかいせき</sup>蔣介石の率いる中国国民党が<sup>ナンキン</sup>南京に国民政府を樹立。翌年、中国全域をほぼ統一した。
- (2) <sup>まんしゅうじへん</sup>① 満州事変…1931年、<sup>かんとうぐん</sup>関東軍(日本の軍隊)が<sup>りゅうじょうこ</sup>② 柳条湖で南満州鉄道の線路を爆破して軍事行動を開始。
- ① <sup>まんしゅうこく</sup>③ 満州国…満州の主要部を占領した関東軍は、1932年に清の最後の皇帝<sup>ふぎ</sup>溥儀を元首として建国を宣言。
- ② <sup>ご</sup>④ 五・一五事件…1932年5月15日、<sup>ご</sup>⑤ 満州国の承認に消極的であった<sup>いぬかいつよし</sup>⑥ 犬養毅首相が、海軍の将校によって暗殺された。これにより、<sup>てい</sup>⑦ 政党内閣による政治が終了した。
- ③ 国際的孤立…<sup>こくさいれんぎ</sup>⑧ 国際連盟は<sup>りットン</sup>⑨ リットンを団長とする調査団を満州に派遣した。1933年、総会で<sup>ご</sup>⑩ 満州国を認めず、日本に満州からの引き上げを勧告した。日本はこれに反発して<sup>こくさいれんぎ</sup>⑪ 国際連盟を脱退し、満州の支配を強化した。
- (3) <sup>ににふ</sup>⑫ 二・二六事件…1936年2月26日におきた陸軍の青年将校が首相官邸や警視庁を襲った事件。これ以降、<sup>ぐんぶ</sup>⑬ 軍部が<sup>せいじてきなはつごころ</sup>⑭ 政治的な発言力を強め、軍備の拡張を進めた。さらに同年、日本は共産主義勢力に対抗するという理由でドイツと日独防共協定を結び、ファシズム諸国に接近した。
- (4) 重化学工業の発展…軍需と政府の保護により、重化学工業の生産が軽工業を上回る。

## Warm Up

次のア～エのできごとを、年代の古い順に並べかえなさい。

ア 日本が国際連盟を脱退する    イ 二・二六事件がおこる

ウ 五・一五事件がおこる    エ 満州事変がおこる

## 解説

選択肢の中だと、最初におこったのはエの満州事変。満州を占領した関東軍は満州国を建国した。

この満州国の承認に反対していた犬養毅首相が暗殺されたのがウの五・一五事件。

満州国を認められなかった日本は、アの国際連盟を脱退。

その後陸軍の青年将校が首相官邸や警視庁を襲うイの二・二六事件がおこった。

エ→ウ→ア→イ

Try

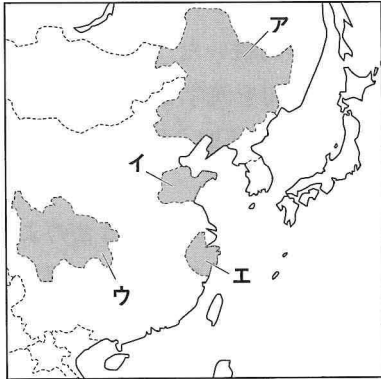
1 次の各問いに答えなさい。

- (1) 1931年、日本の軍隊が南満州鉄道の線路を爆破し、軍事行動を開始したできごとを何というか。
- (2) 1932年、清朝最後の皇帝を元首として建てられた国を何というか。
- (3) 1932年、海軍の将校が首相を暗殺し、1924年から続いた政党政治が終わった事件を何というか。
- (4) (3)で暗殺された首相はだれか。
- (5) 日本が一連のできごとに関する勧告に不満を持ち、1933年に脱退した国際機関は何か。
- (6) (5)が満州に派遣した調査団の団長は誰か。
- (7) 1936年、陸軍の青年将校らが首相官邸や警視庁などを襲った事件を何というか。

2 年表を見て、次の各問いに答えなさい。

年代	できごと
1931	満州事変が始まる……………A
1932	五・一五事件がおこる……………B
1933	日本が国際連盟を脱退する……………C
1936	二・二六事件がおこる……………D

- (1) 年表中のAのきっかけとなった線路爆破事件がおこった場所はどこか、答えなさい。
- (2) 満州国の位置を、右の地図のA～Eから1つ選び、記号で答えなさい。
- (3) 年表中のBについて、この事件で海軍の将校によって暗殺された首相は誰か。
- (4) 年表中のCについて、日本はなぜ国際連盟を脱退したのか。その理由を「満州国」という語句を用いて簡潔に説明しなさい。
- (5) 年表中のBやDの事件によって、日本の政治はどのように変わっていったか。「軍部」という語句を用いて簡潔に説明しなさい。



1

(1)	
(2)	
(3)	
(4)	
(5)	
(6)	
(7)	

2

(1)	
(2)	
(3)	
(4)	
(5)	



## Exercise

**1** P.168の **Point!** を赤シートでかくして、番号順にノートにテストしなさい。

**2** 次のア～エのできごとを、年代の古い順に並べかえなさい。

- ア 陸軍の青年将校が首相官邸や警視庁を襲う。  
 イ 犬養毅首相が暗殺される。  
 ウ 日本が国際連盟を脱退する。  
 エ 関東軍が満鉄の線路を爆破する。

**2**

→	→	→
---	---	---

**3** 年表を見て、各問いに答えなさい。

年代	できごと
1931	関東軍が満鉄の線路を爆破する…… <b>A</b>
1932	( ① ) 事件がおこる……… <b>B</b>
1933	日本が国際連盟を脱退する……… <b>C</b>
1936	( ② ) 事件がおこる……… <b>D</b>

**3**

(1)	①	
	②	
(2)		
(3)		
(4)		
(5)		
(6)		
(7)		

(1) 年表中の ( ① ) と ( ② ) にあてはまる語句を、以下の語群から1つずつ選びなさい。

[ 二・二六    三・一    五・四    五・一五 ]

- (2) 年表中の**A**をきっかけにおこったできごとを何というか。  
 (3) (2)の翌年に、関東軍は ( ③ ) を建国した。③にあてはまる語句を答えなさい。  
 (4) 年表中の**B**で暗殺された首相はだれか。  
 (5) 年表中の**B**の事件により、8年間続いた ( ④ ) 内閣による政治が終了した。④にあてはまる語句を漢字2字で答えなさい。  
 (6) 年表中の**C**について、日本が国際連盟を脱退した理由を、(3)③の国名を用いて簡潔に説明しなさい。  
 (7) 年表中の**B**や**D**の事件によって、日本の政治はどのように変わっていったか。あてはまるものを次のア～ウから1つ選び、記号で答えなさい。

- ア 天皇が政治の主導権をにぎるようになった。  
 イ 軍部の権力が増大し、政治に介入するようになった。  
 ウ 議員の権力が増大し、藩閥政治がさらに進んだ。

## 9-4

## 日中戦争

映像との対応 / 歴史「日中戦争」

## Point!

- (1) <sup>(1)</sup> <sup>にっちゅうせんそう</sup>日中戦争…1937年に始まった日本と中国間の戦争。北京郊外<sup>ベキ</sup>でおきた<sup>(2)</sup> <sup>ろこうきょう</sup>盧溝橋事件<sup>ルーコウチアオ</sup>をきっかけとして、戦線が拡大し、日本軍は首都<sup>(3)</sup> <sup>ナンキン</sup>南京<sup>ナキン</sup>を占領した。
- ・<sup>(4)</sup> <sup>こうにちみんぞくとういつせんせん</sup>抗日民族統一戦線…<sup>(5)</sup> <sup>しょうかいせき</sup>蔣介石<sup>チヤンチエシー</sup>率いる国民党と、<sup>(6)</sup> <sup>もうたくとう</sup>毛沢東<sup>マオツォトン</sup>率いる中国共産党が提携し、内戦は停止。
- (2) 日本における戦時体制の強まり
- ① <sup>(9)</sup> <sup>こっか そうどういんぽう</sup>国家総動員法…1938年、近衛文麿内閣のもとで成立。政府が国民や物資を戦争のために動員する権限を持った。
- ② <sup>(10)</sup> <sup>たいせいよくさんかい</sup>大政翼賛会…1940年、近衛文麿が「<sup>きよこくいつち</sup>拳国一致」の体制をつくる運動を始め、政党や政治団体が解散してつくられた組織。
- ③ 生活必需品の不足…砂糖、マッチ、木炭、綿製品などが切符制となり、米も配給制となった。
- (3) <sup>(11)</sup> <sup>こうみんか</sup>皇民化政策…朝鮮や台湾では、姓名の表記を日本式に改めさせる<sup>(12)</sup> <sup>はいきゅうせい</sup>創氏改名<sup>そうしがいめい</sup>が実施され、人々が戦争に動員された。



① 日中戦争の広がり

## Warm Up

日中戦争に関して、次の各問いに答えなさい。

- (1) 1937年に起きた、日中戦争のきっかけとなる事件がおこった場所を、右の地図中のア～オから1つ選び、記号で答えなさい。
- (2) 日本軍は、当時の中国の首都を占領した。この首都の場所を、右の地図中のア～オから1つ選び、記号で答えなさい。

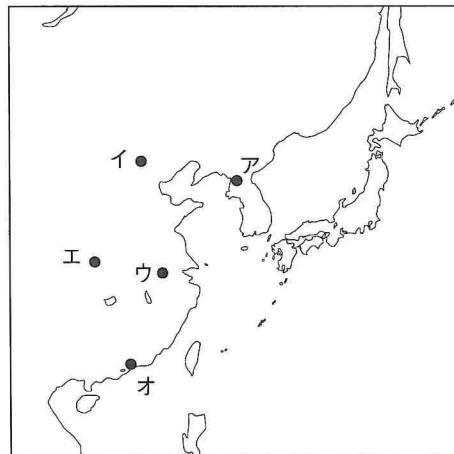
## 解説

- (1) この事件は盧溝橋事件である。盧溝橋は北京の郊外にあるので、地図中のイを選ぶ。

イ

- (2) この首都は南京である。南京の位置は地図中のウ。

ウ



## Try

**1** 次の各問いに答えなさい。

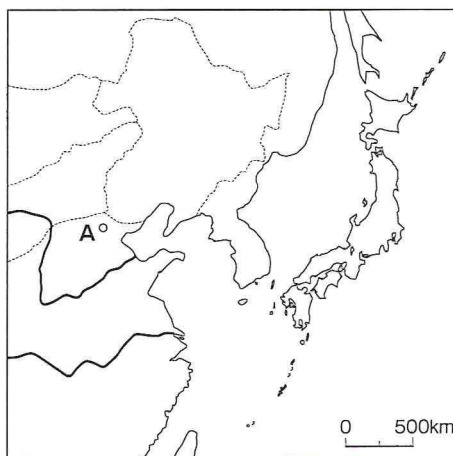
- (1) 1937年、北京郊外での武力衝突からおこった日本と中国との戦争を何というか。
- (2) (1)の戦争のきっかけとなった事件は何か。
- (3) (1)の戦争がおこると、中国では国民党〔中国国民党〕と中国共産党が提携した。ここで結成された協力体制を何というか。漢字8字で答えなさい。
- (4) 1938年に制定され、政府が国民や物資を戦争のために動員する権限を持つこととなった法律を何というか。
- (5) 1940年に結成され、解散した政党や政治団体が合流した組織を何というか。
- (6) 朝鮮や台湾で実施された、姓名を日本式に改めさせることを何というか。

**1**

(1)	
(2)	
(3)	
(4)	
(5)	
(6)	

**2** 地図を見て、次の各問いに答えなさい。

- (1) 日中戦争のきっかけとなった、北京郊外のAでおきた事件は何か。
- (2) 国民党を率いていた指導者はだれか。
- (3) (2)の人物によびかけ、抗日民族統一戦線を結成した、中国共産党の指導者はだれか。



- (4) 日本軍は、当時の中国の首都を占領したが、どこか。次のア～エから1つ選び、記号で答えなさい。

ア 香港    イ 北京    ウ 上海    エ 南京

- (5) 日中戦争が長期化する中で、1938年に国家総動員法が制定された。このときの内閣総理大臣を以下の語群から選びなさい。  
〔 犬養毅    加藤高明    近衛文麿    原敬 〕
- (6) (5)の内閣総理大臣は、1940年に挙国一致の体制をつくるため、すべての政党を解散してある組織に合流させた。この組織を何というか。

**2**

(1)	
(2)	
(3)	
(4)	
(5)	
(6)	

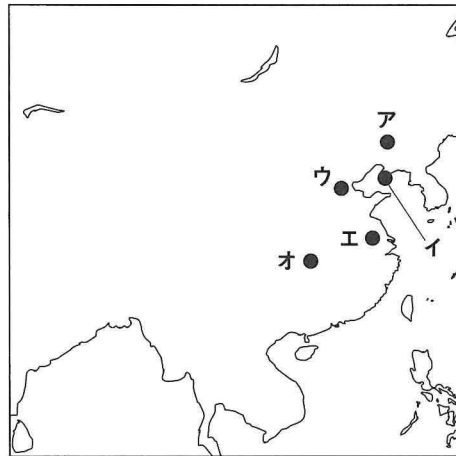


## Exercise

1 P.171の **Point!** を赤シートでかくして、番号順にノートにテストしなさい。

2 次の各問いに答えなさい。

- (1) 1937年、盧溝橋でおきた武力衝突がきっかけで発生した戦争名を答えなさい。
- (2) (1)の戦争が始まったころ、中国は内戦状態であったが、対立していた中国共産党と中国国民党は、( )を結成して日本に対抗した。( )にあてはまる語句を答えなさい。
- (3) (2)の結成をよびかけた、中国共産党の指導者はだれか。
- (4) (3)の人物のよびかけに応じた、中国国民党の指導者はだれか。
- (5) 日本軍は、当時の中国の首都を占領した。その首都を右の地図中のア～オから1つ選び、記号で答えなさい。
- (6) (1)の戦争が長期化していく中で、日本国内では国民を戦争に協力させていく戦時体制がつくられた。次のア～エのうち、この動きとは関係のないものを1つ選び、記号で答えなさい。



ア 国家総動員法    イ 配給制・切符制  
ウ 大政翼賛会    エ 民族自決

3 文中の①～④にあてはまる語句を、以下の語群からそれぞれ1つずつ選びなさい。

日中戦争が長期化すると、近衛文麿内閣は1938年、国の産業や経済、国民の生活のすべてを戦争に動員する権限を持つ ( ① ) を制定した。

また1940年、近衛文麿は「挙国一致」の体制をつくる運動をはじめ、政党や政治団体を解散させ、( ② ) に合流させた。

一方、朝鮮では、日本語の使用や、姓名の表し方を日本式に改めさせる ( ③ ) が推し進められた。このように朝鮮の人々を日本に同化させる政策を ( ④ ) 政策という。

民族自決    民主化    国家総動員法    立憲政友会  
皇民化    大政翼賛会    創氏改名    ニューディール政策  
ファシズム    治安維持法

2

(1)	
(2)	
(3)	
(4)	
(5)	
(6)	

3

①	
②	
③	
④	

## 9-5

## 第二次世界大戦の始まり

映像との対応 / 歴史「第二次世界大戦の始まり」

## Point!

## (1) 第二次世界大戦の開戦

…ソ連と<sup>(1)</sup>独ソ不可侵条約<sup>ふ か しんじょうやく</sup>を結んだ<sup>(2)</sup>ドイツ<sup>ドイツ</sup>が1939年9月に<sup>(3)</sup>ポーランド<sup>ポーランド</sup>に侵攻すると、イギリス、フランスがドイツに宣戦布告した。

① <sup>(4)</sup>日独伊三国同盟<sup>にちどく い さんこくどうめい</sup>

…1940年、<sup>(5)</sup>ドイツ、イタリア<sup>ドイツ イタリア</sup>、日本の間で結ばれ、結束を強化した。

1941年、ドイツは独ソ不可侵条約を破ってソ連に侵攻し、戦争がヨーロッパ全土に広がった。

## ② ドイツの占領政策

…ドイツに占領されたヨーロッパ各地で一般の人々により<sup>(6)</sup>レジスタンス<sup>レジスタンス</sup>とよばれるドイツに対する抵抗運動が行われた。

③ <sup>(7)</sup>大西洋憲章<sup>大西洋憲章</sup> …アメリカとイギリスが発表した、ファシズム諸国と戦う決意と戦後の平和構想を示したもの。

## (2) 日本の動きと日米の対立

① <sup>(8)</sup>日ソ中立条約<sup>日ソ中立条約</sup> …1941年、北方の安全を確保するためにソ連との間で調印された。② <sup>(9)</sup>大東亜共栄圏<sup>たいとうあ きょうえいけん</sup> の建設…日本は「日本の指導のもとで欧米の植民地支配を打破し、アジアの諸民族だけで栄えていく」と主張した。③ 日本が<sup>(10)</sup>資源を獲得する<sup>資源を獲得する</sup>ために、フランス領インドシナ南部を占領すると、アメリカは日本への<sup>(11)</sup>石油<sup>石油</sup>の輸出を禁止した。<sup>(12)</sup>イギリス、中国、オランダ<sup>イギリス 中国 オランダ</sup>も同調し、日本を経済的に封鎖する<sup>(13)</sup>ABCD包囲網<sup>ABCD包囲網</sup>〔ABCD包囲陣〕をつくった。(3) <sup>(14)</sup>太平洋戦争<sup>太平洋戦争</sup> …1941年、<sup>(15)</sup>東条英機<sup>とうじょうひで き</sup>内閣のもと、日本軍がハワイの<sup>(16)</sup>真珠湾<sup>しんじゅわん</sup>を攻撃して開戦した。① 世界規模の戦争への発展…日独伊などの枢軸国<sup>すうしよくこく</sup>と、米英ソ中などの連合国との戦い。② 戦局の展開…日本は短期間で東南アジアから、南太平洋の広大な地域を占領したが、<sup>(17)</sup>ミッドウェー海戦<sup>ミッドウェー海戦</sup>で敗北し、戦況は不利になっていった。

## Warm Up

大東亜共栄圏とはどのような考え方が、説明しなさい。

## 解説

日本は「日本の指導のもとで欧米の植民地支配を打破し、アジアの諸民族だけで栄えていく」ことを主張し、東南アジアにも侵攻した。

(例) 日本の指導のもとで欧米の植民地支配を打破し、アジアの諸民族だけで栄えていくという考え。

Try

1 次の各問いに答えなさい。

- (1) 1939年、ヨーロッパのある国がソ連と結んだ条約を何というか。また、ある国とはどこか。
- (2) 1939年に(1)のある国が侵攻した国はどこか。
- (3) 1940年、日本と同盟を結んだ国を2つ答えなさい。また、この同盟を何というか。
- (4) ドイツの占領地でおこった抵抗運動を何というか。
- (5) 1941年に日本が北方の安全を確保するためにソ連と結んだ条約を何というか。
- (6) 日本は東南アジアから欧米の勢力を追い出し、アジアの諸民族だけで栄えていくことを提唱した。この構想を何というか。
- (7) 1941年に始まった日本とアメリカの戦争を何というか。
- (8) (7)の戦争の始まりで、日本軍が奇襲したアメリカの海軍基地は、ハワイのどこにあったか。
- (9) (7)の戦争において、日本の戦況が悪化したのは、ある海戦での敗北がきっかけとされている。この海戦を何というか。

2 次の各問いに答えなさい。

- (1) 次の文中の①～⑥にあてはまる語句を答えなさい。

1939年に、( ① )はソ連と( ② )条約を結び、( ③ )に侵攻した。イギリスとフランスが( ① )に宣戦布告し、第二次世界大戦が始まった。1940年、( ① )・イタリア・日本は( ④ )同盟を結び、翌年には( ① )は( ② )条約を破ってソ連に侵攻した。

1941年に、アメリカとイギリスの間で、戦後の平和構想を示す( ⑤ )が発表された。また、( ① )の占領地では、( ⑥ )とよばれる抵抗運動がおこった。

- (2) 1941年7月、日本がフランス領インドシナ南部を占領したが、これはなぜか。その理由を簡潔に答えなさい。
- (3) アメリカ、イギリス、中国、オランダの4か国が、日本を経済的に封鎖したことを何とよぶか。
- (4) 太平洋戦争を開始したときの、日本の首相はだれか。

1

(1)	条約	
	国	
(2)		
(3)	国	
	同盟	
(4)		
(5)		
(6)		
(7)		
(8)		
(9)		

2

(1)	①	
	②	
	③	
	④	
	⑤	
	⑥	
(2)		
(3)		
(4)		



## Exercise

**1** P.174の **Point!** を赤シートでかくして、番号順にノートにテストしなさい。

**2** 次のア～エを年代の古い順に並べかえなさい。

- ア 日本がミッドウェー海戦でアメリカに敗れる。  
 イ 日本、ドイツ、イタリアが日独伊三国同盟を結ぶ。  
 ウ 太平洋戦争が開戦する。  
 エ ドイツとソ連が独ソ不可侵条約を結ぶ。

**2**

→ → →

**3** 年表を見て、各問いに答えなさい。

年代	できごと
1939	ドイツとソ連が ( ① ) 条約を結ぶ ドイツが ( ② ) に侵攻する
1940	日本、ドイツ、イタリアが ( ③ ) 同盟を結ぶ
1941	日本とソ連が ( ④ ) 条約を結ぶ アメリカが日本に対して ( ⑤ ) の輸出を禁止する… <b>A</b> 日本が ( ⑥ ) 湾を攻撃する…………… <b>B</b>
1942	日本が ( ⑦ ) 海戦で敗れる

**3**

(1)	①	
	②	
	③	
	④	
	⑤	
	⑥	
	⑦	
(2)		
(3)		
(4)		
(5)		
(6)		

- (1) 年表中の①～⑦にあてはまる語句をそれぞれ答えなさい。  
 (2) ドイツの占領政策に対して、ヨーロッパ各地で行われた抵抗運動を何というか。  
 (3) 日本が唱えた大東亜共栄圏とはどのような考えか。説明しなさい。  
 (4) 年表中の**A**について、このときアメリカに同調する形で、アメリカを含む4か国が日本を経済的に孤立させようとした。アメリカ以外の3か国とはどこか。  
 (5) 年表中の**B**について、この攻撃がきっかけで始まった戦争名を答えなさい。  
 (6) (5)の戦争が始まったときの日本の内閣総理大臣はだれか。

## 9-6

## 戦争の終結

映像との対応 / 歴史「戦争の終結」

## Point!

## (1) 戦時下の国民生活

- ① <sup>(1)</sup> <sup>がくとしゅつじん</sup> 学徒出陣 …それまで徴兵の対象とならなかった文科系の大学生らが軍隊に召集された。
- ② <sup>(2)</sup> <sup>きんろうどういん</sup> 勤労動員 …労働力不足のため、中学生や女学生も軍需工場などで働かされた。
- ③ <sup>(3)</sup> <sup>しゅうたん そかい</sup> 集団疎開 …都市部の小学生は空襲を避けるために農村部へ集団で疎開した。



## (2) 第二次世界大戦の終結

- ① ヨーロッパでは1943年に <sup>(4)</sup> イタリア が、1945年5月に <sup>(5)</sup> ドイツ が降伏した。
- ② 戦況の悪化と日本の降伏
- ・1943年 ガダルカナル島で敗北。
  - ・1944年 サイパン島が陥落し、東条英機内閣が退陣した。
  - ・1945年3月 アメリカ軍による <sup>(6)</sup> <sup>とうきょうだいくうしゅう</sup> 東京大空襲 で、多数の死者が出た。  
アメリカ軍が <sup>(7)</sup> 沖縄 に上陸した。
  - ・1945年7月 連合国は日本に無条件降伏を求める <sup>(8)</sup> ポツダム宣言 を発表。日本はこれを無視した。
  - ・1945年8月 アメリカは <sup>(9)</sup> <sup>げんしはくたん</sup> 原子爆弾 を <sup>(10)</sup> 8月6日 に <sup>(11)</sup> 広島 , <sup>(12)</sup> 8月9日 に <sup>(13)</sup> 長崎 に投下した。  
ソ連がヤルタ会談の秘密協定にのっとり、日ソ中立条約を破って参戦した。  
日本は <sup>(14)</sup> ポツダム宣言 を受け入れることを決定。 <sup>(15)</sup> 8月15日 に昭和天皇がラジオ放送で、国民に終戦を伝えた。



## Warm Up

次のア～オのできごとを古い順に並べかえなさい。

- ア ドイツが降伏する。
- イ 長崎に原爆が落とされる。
- ウ ポツダム宣言受け入れを天皇が発表。
- エ 沖縄戦が始まる。
- オ 広島に原爆が落とされる。

## 解説

選択肢は全て1945年におこったできごとである。最初は3月の沖縄戦でエ。次に5月にドイツが降伏したのでア。次に8月6日に広島に原爆が落とされたのでオ。次に8月9日に長崎に原爆が落とされたのでイ。最後に8月15日にポツダム宣言受け入れが発表されたのでウ。

エ→ア→オ→イ→ウ

## Try

## 1 次の各問いに答えなさい。

- (1) 太平洋戦争では文科系の大学生らが徴兵されたが、これを何というか。
- (2) 戦時下では、中学生や女学生も工場や農村などで働くこととなった。このことを何というか。
- (3) 都市部の小学生たちは空襲を避けるために農村などに集団で移動した。これを何というか。
- (4) 1945年3月にアメリカ軍が上陸し、その後占領したのはどこか。
- (5) 日本が世界で唯一の被爆国となった、アメリカが1945年に投下した新兵器は何か。
- (6) 8月6日と9日に(5)が投下された都市をそれぞれ答えなさい。
- (7) 1945年7月、連合国は日本に無条件降伏を求める宣言を発表した。日本が8月になって受け入れたこの宣言を何というか。

## 1

(1)	
(2)	
(3)	
(4)	
(5)	
(6)	6日
	9日
(7)	

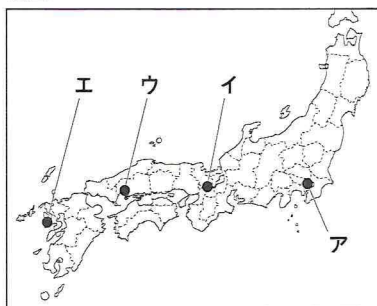
## 2 次の各問いに答えなさい。

- (1) 年表中の①～③にあてはまる語句を答えなさい。
- (2) 年表中のAがおきた都市名を答えなさい。また、原爆が落とされた都市の位置を、右下の地図中のア～エから1つ選びなさい。
- (3) 年表中のBがおきた都市名を答えなさい。また、原爆が落とされた都市の位置を、右下の地図中のア～エから1つ選びなさい。
- (4) 年表中のCがあったのは何月何日か答えなさい。

年表

年代	できごと
1943	( ① ) が降伏する
1944	サイパン島が陥落する
1945	アメリカ軍が ( ② ) に上陸する
	( ③ ) が降伏する
	8月6日、原爆が落とされる……………A
	8月9日、原爆が落とされる……………B
	日本がポツダム宣言を受け入れたことを、天皇がラジオ放送で発表……………C

地図



## 2

(1)	①	
	②	
	③	
(2)	都市名	
	位置	
(3)	都市名	
	位置	
(4)		



Exercise

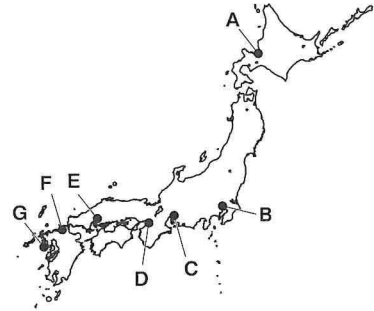
1 P.177の **Point!** を赤シートでかくして、番号順にノートにテストしなさい。

2 年表と地図を見て、各問いに答えなさい。

年表

年代	できごと
1941	( ① ) が始まる
1943	イタリアが降伏する
1945	5月、ドイツが降伏する
	8月、原子爆弾が投下される……………X
	日本が ( ② ) を受け入れる

地図



- (1) 上の年表中の①, ②について説明した次の文を読んで、あてはまる語句をそれぞれ答えなさい。
- ① 日本軍が真珠湾などを攻撃して始まった。
  - ② 日本に戦争をやめるように求めた宣言。
- (2) 年表中のXについて、日本には2発の原子爆弾が投下された。そのうち、8月9日に投下された都市名を答えなさい。また、その都市の位置を地図中のA～Gの中から選びなさい。
- (3) 次の文章のA～Cにあてはまる語句を答えなさい。

激しくなった都市への空襲から逃れるため、都市部の小学生は ( A ) を行った。また、中学生や女学生が工場で働かされる ( B ) や、文科系の大学生などが軍隊に召集される ( C ) が行われた。

3 次のア～オのできごとを古い順に並べかえなさい。

- ア 東京大空襲がおこる。
- イ 広島に原爆が投下される。
- ウ イタリアが降伏する。
- エ ドイツが降伏する。
- オ 日本軍が真珠湾を攻撃する。

2

(1)	①	
	②	
(2)	都市	
	位置	
(3)	A	
	B	
	C	

3

→	→	→	→
---	---	---	---

## 10-1

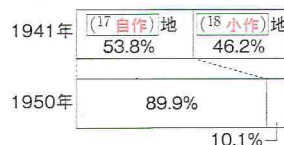
## 連合国軍による改革

映像との対応 / 歴史「連合国軍による改革」

## Point!

- (1) 連合国軍による占領…アメリカ軍の<sup>(1)</sup> マッカーサーを最高司令官とする<sup>(2)</sup> GHQ〔連合国軍最高司令官総司令部〕が東京に置かれた。
- (2) <sup>(3)</sup> 極東国際軍事裁判〔東京裁判〕…多くの戦争責任者を処罰した。また、軍隊は解散させられた。
- (3) GHQによる戦後改革
- ① 天皇の人間宣言…天皇は自らの神格性を否定し、人間であることを宣言した。
  - ② 治安維持法を廃止し、政治活動の自由を認めた。
  - ③ 労働条件の改善…労働者の団結権を認めた労働組合法や、賃金などの労働条件の最低基準を定めた<sup>(4)</sup> 労働基準法が制定された。
- (4) 選挙法の改正…<sup>(5)</sup> 満20歳以上の男女に選挙権があたえられ、女性の参政権が認められた。
- (5) 経済改革
- ① <sup>(6)</sup> 財閥解体…戦前の体制を経済的に支えていたとして、三井、三菱などの財閥を解体した。目的は<sup>(7)</sup> 経済の民主化。
  - ② <sup>(8)</sup> 農地改革…小作地の多くを政府が強制的に買い上げ、小作人に安く売り渡した。多くの小作人が<sup>(9)</sup> 自作農になった。
- (6) <sup>(10)</sup> 日本国憲法…<sup>(11)</sup> 1946年11月3日に公布され、<sup>(12)</sup> 1947年5月3日に施行された。
- ① 三大原則…<sup>(13)</sup> 国民主権、基本的人権の尊重、平和主義。
  - ② 天皇…日本国および日本国民統合の<sup>(14)</sup> 象徴とされ、統治権はなくなった。
- (7) <sup>(15)</sup> 教育基本法…教育制度を変更し、小・中学校9年を義務教育とした。
- (8) <sup>(16)</sup> 闇市…政府が決めた価格を守らない非合法的な市場。戦後の物不足のなか多くの人の命をつないだ。

●自作地と小作地の割合



●自作・小作の農家数の割合

① 農地改革による変化  
〔完結昭和国勢要覧〕

## Warm Up

戦後の経済の民主化について、右の自作農と小作農の割合を示したグラフより読み取れる変化を、理由とともに答えなさい。

## 解説

グラフを見ると、1930年から1950年にかけて、自作農が大幅に増えている。これは農地改革により、小作地の多くを政府が強制的に買い上げ、小作人に安く売り渡したからである。

(例) 農地改革により、多くの小作人が自作農になった。

自作・小作農家の割合



## Try

## 1 次の各問いに答えなさい。

- (1) 日本政府に指令を出して、戦後の日本の改革を進めた組織を何というか。アルファベット3字で答えなさい。
- (2) (1)の最高司令官はだれか。
- (3) 戦後の改革で労働条件の改善も進められた。労働者の団結する権利を定めた法律を何というか。
- (4) 1945年の選挙法改正で選挙権があたえられたのは、どのような人々か。
- (5) 戦前の日本の経済的な支柱となっていた三井、三菱などの財閥が解体されたことを何というか。
- (6) 農村では、小作地の多くを政府が強制的に買い上げ、小作人に安く売り渡したが、この改革を何というか。
- (7) (6)により、小作人の多くは何という農民になったか。
- (8) 戦後、大日本帝国憲法にかわる憲法が定められたが、その名称を答えなさい。
- (9) (8)の憲法が公布された年月日と、施行された年月日をそれぞれ答えなさい。
- (10) (8)の憲法の三大原則をすべて答えなさい。
- (11) (8)の憲法では、天皇は日本国および日本国民統合の何とされたか。
- (12) 教育制度を改革し、義務教育を9年間とした法律を何というか。

## 1

(1)	
(2)	
(3)	
(4)	
(5)	
(6)	
(7)	
(8)	
(9)	公布
	施行
(10)	
(11)	
(12)	

## 2 表を見て、各問いに答えなさい。

大日本帝国憲法		日本国憲法
1889年2月11日	発布・公布	1946年11月3日
天皇主権	主権	( ① ) 主権
神聖で不可侵、国家の元首	天皇	日本国・国民統合の ( ② )
法律の範囲内で認められる	人権	( ③ ) の尊重
天皇に統帥権 国民に兵役の義務	軍隊	( ④ ) 主義

- (1) 日本国憲法について、表中の①～④にあてはまる語句を答えなさい。
- (2) 戦後の改革として財閥解体が行われたが、その目的は何か。
- (3) 戦後、各地にできた非合法の市場を何というか。
- (4) 戦後、多くの戦争責任者を処罰した裁判を何というか。

## 2

(1)	①	
	②	
	③	
	④	
(2)		
(3)		
(4)		

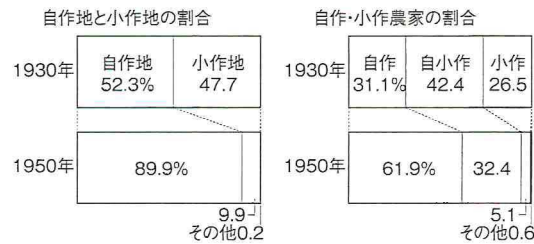


## Exercise

1 P.180の **Point!** を赤シートでかくして、番号順にノートにテストしなさい。

2 次の各問いに答えなさい。

- (1) 右のグラフは、ある改革の実施前と実施後の変化を表している。この改革の名称を答えなさい。



- (2) 右のグラフから読み取れる変化を答えなさい。
- (3) GHQの指示による民主化政策にあてはまるものを、ア～オから2つ選び、記号で答えなさい。
- ア 治安維持法の廃止    イ 政党の解散    ウ 財閥の解体  
エ 国民皆兵の実現    オ 労働組合の禁止
- (4) 民主主義の教育を基本として、小・中学校9年間を義務教育とした法律は何か。

3 第二次世界大戦後の日本について、次の各問いに答えなさい。

- (1) 右の写真は、1946年に行われた衆議院議員選挙の様子である。この写真から読み取れることを「女性」「参政権」の語句を使って簡潔に説明しなさい。

写真



- (2) 次のア～エのうち、日本国憲法の説明として正しいものを1つ選び、記号で答えなさい。

- ア 法律の範囲内で人権が認められた。  
イ ドイツの憲法を参考にして制定された。  
ウ 天皇は日本国および日本国民統合の象徴とされた。  
エ 民主主義の教育の基本を示す教育勅語が制定された。

- (3) 日本国憲法が施行されたのは西暦何年何月何日か答えなさい。
- (4) 日本国憲法の3つの基本原理をすべて答えなさい。

2

(1)	
(2)	
(3)	
(4)	

3

(1)	
(2)	
(3)	
(4)	

## 10-2

## 国連と冷戦

▶ 映像との対応 / 歴史「国連と冷戦」

## Point!

- (1) (<sup>1</sup> 国際連合) …世界の平和と安全の維持を目的に1945年に発足した。本部はアメリカの(<sup>2</sup> ニューヨーク)。
- ① (<sup>3</sup> 安全保障理事会) …アメリカ、イギリス、フランス、ソ連、中国の常任理事国と、2年ごとに10か国選出される非常任理事国から構成されている。
- ② 常任理事国には拒否権があたえられている。また、国際紛争の解決に武力制裁が行えるようになった。
- (2) (<sup>4</sup> 冷戦 [冷たい戦争])
- …(<sup>5</sup> アメリカ)を中心とする資本主義の西側陣営と、(<sup>6</sup> ソ連)を中心とする社会主義の東側陣営の間の対立。戦火を交えない対立からこうよばれた。
- ① 軍事同盟…1949年にアメリカを中心に(<sup>7</sup> 北大西洋条約機構 [NATO])が、1955年にソ連を中心に(<sup>8</sup> ワルシャワ条約機構)が結成された。
- ② ドイツ…敗戦国のドイツでは、東ドイツを(<sup>9</sup> ソ連)、西ドイツを(<sup>10</sup> アメリカ)などが占領し、1949年に分裂。のちにベルリンに壁がつくられた。

## Warm Up

国際連合に関する次のア～エの文のうち、誤っているものを1つ選び、記号で答えなさい。

- ア 本部はアメリカのニューヨークに置かれた。
- イ 常任理事国はアメリカ、イギリス、フランス、ソ連、中国の5か国である。
- ウ 常任理事国には拒否権があり、1か国でも反対すればその決議は否決となる。
- エ 国際紛争がおこっても、武力制裁は行えない。

## 解説

1920年に発足した国際連盟は、国際紛争がおこっても武力制裁ができなかったが、国際連合では可能になった。したがってエが誤り。

エ

## Try

## 1 次の各問いに答えなさい。

- (1) 1945年に発足した、世界の平和を維持することを目的とした国際機関を何というか。
- (2) (1)の本部はアメリカのどこにあるか。
- (3) (1)の中に置かれ、拒否権を持つ常任理事国5か国と非常任理事国10か国で構成される機関を何というか。
- (4) 戦後、西側陣営の資本主義国と東側陣営の社会主義国との間で、戦火を交えない対立がおこった。この対立を何というか。
- (5) (4)の対立で、西側陣営の中心となった国はどこか。
- (6) (4)の対立で、東側陣営の中心となった国はどこか。
- (7) (5)の国が中心となって1949年に結成された軍事同盟を何というか。
- (8) (6)の国が中心となって1955年に結成された軍事同盟を何というか。
- (9) ドイツは終戦後、東西に分断された。①東ドイツを占領した国はどこか。②西ドイツを主に占領した国はどこか。1つ答えなさい。

## 1

(1)	
(2)	
(3)	
(4)	
(5)	
(6)	
(7)	
(8)	
(9)	①
	②

## 2 次の文章を読んで、各問いに答えなさい。

第二次世界大戦後、連合国は2度の大戦の反省として、**a**（国際連盟／国際連合）を発足した。組織の1つである安全保障理事会は、常任理事国の①五大国に拒否権をあたえて全会一致制をとった。

しかし平和は長く続かず、**b**（イギリス／アメリカ）と**c**（中国／ソ連）の②対立が激化し、世界は大きく③2つの勢力に分断された。中でも**d**（ドイツ／イタリア）は東西に分断され、のちにベルリンには壁がつくられた。

- (1) 文中の**a**～**d**について、正しい語句を選んで答えなさい。
- (2) 下線部①に含まれない国を、以下の語群から2つ選びなさい。  

イギリス	フランス	ソ連	アメリカ
日本	中国	オランダ	
- (3) 下線部②の対立を漢字2字で答えなさい。
- (4) 下線部③について、2つの軍事同盟の組み合わせとして、正しいものを次の**ア**～**エ**から選び、記号で答えなさい。  
**ア** 北大西洋条約機構とワルシャワ条約機構  
**イ** 北太平洋条約機構とワルシャワ条約機構  
**ウ** 北大西洋条約機構とマルシャワ条約機構  
**エ** 北太平洋条約機構とマルシャワ条約機構

## 2

(1)	<b>a</b>	
	<b>b</b>	
	<b>c</b>	
	<b>d</b>	
(2)		
(3)		
(4)		



## Exercise

**1** P.183の **Point!** を赤シートでかくして、番号順にノートにテストしなさい。

**2** 次の各問いに答えなさい。

- (1) 2度の世界大戦を反省し、1945年につくられた国際機関を答えなさい。
- (2) (1)の国際機関について、正しい組み合わせを**ア～エ**から1つ選び、記号で答えなさい。

	本部がある都市名	安全保障理事会常任理事国
<b>ア</b>	ジュネーブ	アメリカ、イギリス、ソ連、中国、フランス
<b>イ</b>	ジュネーブ	日本、アメリカ、イギリス、ソ連、イタリア
<b>ウ</b>	ニューヨーク	アメリカ、イギリス、ソ連、中国、フランス
<b>エ</b>	ニューヨーク	日本、アメリカ、イギリス、ソ連、イタリア

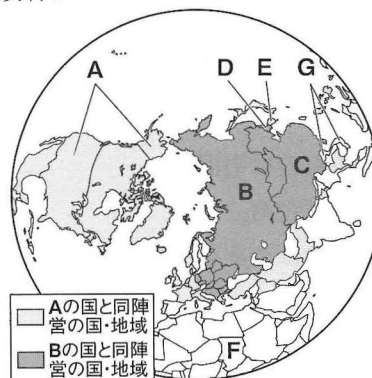
- (3) (1)の国際機関について説明した次の**ア～エ**の文のうち、正しいものを1つ選び、記号で答えなさい。

- ア** 国際紛争がおこっても武力制裁は行えない。
- イ** 安全保障理事会では、常任理事国には拒否権があたえられている。
- ウ** 加盟国すべての賛成がなければ、採決は行えない。
- エ** アメリカ大統領ウィルソンの提案でつくられた。

**3** 次の各問いに答えなさい。

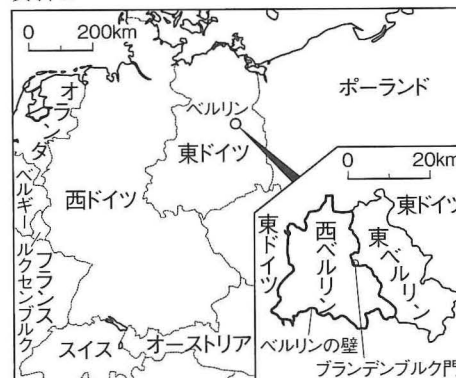
資料1

- (1) 第二次世界大戦後、資料1の**A**の国を中心とする資本主義の西側陣営と、**B**の国を中心とする社会主義の東側陣営が激しく対立した。この対立を何というか。
- (2) 資料2のように、ドイツのベルリンは東西に分断された。東側を占領した国を資料1の**A～G**の国から1つ選び、記号で答えなさい。



資料2

- (3) **A**の国を中心とする軍事同盟の略称を答えなさい。
- (4) **B**の国を中心とする軍事同盟を答えなさい。



**2**

(1)	
(2)	
(3)	

**3**

(1)	
(2)	
(3)	
(4)	

## 10-3

## 東アジアの動向と植民地の解放

映像との対応 / 歴史「東アジアの動向と植民地の解放」

## Point!

- (1) 中国…戦後、<sup>しょうかいせき</sup>蔣介石が率いる中国国民党と中国共産党との間で内戦が再発した。国民党側をアメリカが、共産党側をソ連が支援した。結果、中国共産党が勝利した。  
1949年、<sup>もうたくどう</sup>(<sup>1</sup> 毛沢東) を国家主席とする (<sup>2</sup> 中華人民共和国) が成立し、中国国民党は (<sup>3</sup> 台湾) に逃れた。
- (2) 朝鮮… (<sup>4</sup> 北緯38度線) を境に、南をアメリカ、北をソ連に占領された。  
① 2つの朝鮮…北に社会主義国の (<sup>5</sup> 朝鮮民主主義人民共和国 [北朝鮮]) が、南に資本主義国の (<sup>6</sup> 大韓民国 [韓国]) が成立した。  
② (<sup>7</sup> 朝鮮戦争) … (<sup>8</sup> 1950) 年、北朝鮮が韓国に侵攻し、開戦。(<sup>9</sup> アメリカ) 中心の国連軍が韓国を支援し、(<sup>10</sup> 中国) の義勇軍が北朝鮮を支援。1953年に休戦協定が結ばれた。
- (3) 植民地支配の終わり…第二次世界大戦後、アジアとアフリカの多くの国が独立した。  
① (<sup>11</sup> アジア・アフリカ会議 [バンドン会議])  
…1955年にインドネシアのバンドンで行われた会議。民族独立と平和共存を訴えた。  
② (<sup>12</sup> アフリカの年) …アフリカで17か国が独立した1960年のこと。

## Warm Up

第二次世界大戦後の中国について述べた次の文ア～エのうち、正しいものを1つ選び、記号で答えなさい。

- ア 蔣介石率いる中国共産党が内戦に勝利した。  
イ 中国国民党は内戦に敗北し、香港に逃れた。  
ウ 1949年に孫文を主席として中華民国が建国された。  
エ 国民党側をアメリカが支援し、共産党側をソ連が支援した。

## 解説

- ア…誤り。中国共産党を率いていたのは毛沢東。  
イ…誤り。中国国民党が逃れたのは台湾。  
ウ…誤り。中華民国が建国されたのは辛亥革命後の1912年。1949年に成立したのは中華人民共和国。  
エ…正しい。  
したがって答えはエ。

Try

1 次の各問いに答えなさい。

- (1) 1949年、中国共産党が樹立した国家を何というか。
- (2) (1)が成立したときの国家主席はだれか。
- (3) 中国共産党との戦いに敗れた、中国国民党が逃れた地域を答えなさい。
- (4) 第二次世界大戦後、朝鮮半島は北緯何度の緯線を境に南北に分断されたか。
- (5) (4)の緯線より北側に成立した国の正式名称を答えなさい。
- (6) (4)の緯線より南側に成立した国の正式名称を答えなさい。
- (7) (5)の国が(6)の国に侵攻して始まった戦争を何というか。
- (8) (7)の戦争は西暦何年に始まったか。
- (9) (7)の戦争で、(6)の国を支援した国はどこか。
- (10) (7)の戦争で、(5)の国に義勇軍を送って支援した国はどこか。
- (11) 1955年にインドネシアのバンドンで行われた会議を何というか。
- (12) アフリカの17か国が独立を果たした1960年は何とよばれるか。

1

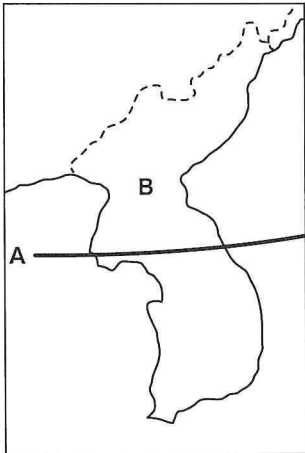
(1)	
(2)	
(3)	
(4)	
(5)	
(6)	
(7)	
(8)	
(9)	
(10)	
(11)	
(12)	

2 次の各問いに答えなさい。

- (1) 以下の文中の①～③にあてはまる語句を答えなさい。

第二次世界大戦後、中国では（ ① ）率いる中国共産党と蒋介石率いる中国国民党が再び衝突し、中国共産党が勝利を収め、敗れた中国国民党は（ ② ）へ逃れた。中国共産党は、（ ① ）を国家主席とする（ ③ ）を1949年に建国した。

- (2) 右の地図は、朝鮮を分割占領したときのものである。地図中のAの線は北緯何度を示しているか。
- (3) 地図中のBの国名を正式名称で答えなさい。
- (4) 地図中のBの国が南下しておきた戦争を何というか。



2

(1)	①	
	②	
	③	
(2)		
(3)		
(4)		



## Exercise

**1** P.186の **Point!** を赤シートでかくして、番号順にノートにテストしなさい。

**2** 年表を見て、次の各問いに答えなさい。

年代	できごと
1945	国際連合が発足する
1949	中国で ( ① ) が建国される…………… <b>A</b>
( ② )	朝鮮戦争が始まる…………… <b>B</b>
1955	インドネシアのバンドンで会議が開かれる…………… <b>C</b>
1960	アフリカで17か国が独立する…………… <b>D</b>

- (1) 年表中の①にあてはまる国名と②にあてはまる数字を答えなさい。
- (2) 年表中の**A**について、次のア～ウの文のうち、誤っているものを1つ選び、記号で答えなさい。
- ア 中国共産党が中国国民党に勝利して建国された。
- イ このときの国家主席は毛沢東である。
- ウ 中国国民党の蒋介石はタイへのがれた。
- (3) 年表中の**B**の朝鮮戦争について説明した以下の文の①～⑥にあてはまる語句を答えなさい。

第二次世界大戦後、( ① ) を中心とする東側陣営と ( ② ) を中心とする西側陣営との間で対立がおこり、朝鮮戦争はこの対立の代理戦争ともいわれている。

朝鮮半島では ( ② ) 軍が南側を占領し、1948年に ( ③ ) が建国された。一方 ( ① ) 軍は北側を占領し、同年 ( ④ ) が建国された。朝鮮半島を2つに分断した緯線は ( ⑤ ) という。( ② ) 中心の国連軍が ( ③ ) を、( ⑥ ) の義勇軍は ( ④ ) を支援し、朝鮮戦争は1953年に休戦協定が成立するまで続いた。

- (4) 年表中の**C**について、この会議の名称を答えなさい。
- (5) 年表中の**D**について、1960年は何とよばれているか。

**2**

(1)	①	
	②	
(2)		
(3)	①	
	②	
	③	
	④	
	⑤	
	⑥	
(4)		
(5)		

## 10-4

## 外交関係の進展と国内の動向

映像との対応 / 歴史「外交関係の進展と国内の動向」

## Point!

(1) 占領政策の転換…冷戦激化により、アメリカは日本の経済復興を重視。

① (1 <sup>とくじゅけいき</sup> 特需景気) …朝鮮戦争により、(2 <sup>ぐんじゅぶつし</sup> アメリカが大量の軍需物資を日本に発注した) ため好景気となり、日本経済の復興が早まった。② (3 <sup>けいさくよびう</sup> 警察予備隊) の設置…1950年、アメリカ軍が朝鮮へ出動した後の日本の治安を守るため設置された。次第に強化され、1954年には (4 <sup>しげう</sup> 自衛隊) となった。

(2) 日本の独立と国際社会への復帰

① (5 <sup>さんぷらんしすこへい</sup> サンフランシスコ平和条約) …1951年、首相の (6 <sup>よしだしげる</sup> 吉田 茂) が48か国の代表と調印。翌52年に日本は独立を回復したが、沖縄や小笠原諸島はアメリカの統治が続いた。② (7 <sup>にちべいあんぜん ほしょうじょうやく</sup> 日米安全保障条約 [ <sup>にちべいあんぼしょうやく</sup> 日米安保条約 ]) …1951年、日本の安全と東アジアの平和を守るため (8 <sup>にほんちゅうりゅう</sup> アメリカ軍の日本駐留) を認めた。 ㊦

(3) 国内の動向

① 原水爆禁止運動…アメリカの水爆実験で (9 <sup>だいごふくぐま</sup> 第五福竜丸) が被ばくしたことがきっかけで、全国に拡大。② (10 <sup>ごごねんたいせい</sup> 55年体制) …1955年に結成された (11 <sup>じゆうみんしやう</sup> 自由民主党 [自民党]) を与党第一党、社会党を野党第一党とする政治体制。③ (12 <sup>あんぼとうそう</sup> 安保闘争) …自民党の岸信介内閣は、アメリカとの関係を強化するため、新しい日米安保条約を結んだが、激しい反対運動がおこった。

(4) 近隣諸国との関係

① (13 <sup>にっしよきょうどうけんげん</sup> 日ソ共同宣言) …1956年、ソ連と国交を回復。同年、日本の (14 <sup>こくさいれんごう</sup> 国際連合) への加盟が認められた。② (15 <sup>にっぺんきほんじょうやく</sup> 日韓基本条約) …1965年、韓国と国交を正常化。③ (16 <sup>にっしゅきょうどうせつめい</sup> 日中共同声明) …1972年、中国と国交を正常化。1978年には (17 <sup>にっしゅへいわゆうじょうやく</sup> 日中平和友好条約) を結ぶ。

(5) 緊張緩和の進展

① キューバ危機…1962年、米ソ間で核戦争の危機を回避。緊張緩和が進展した。

② ヨーロッパ共同体 [EC] …1967年、西ヨーロッパ諸国が経済統合を進めて設立。

③ (18 <sup>べトナムせんそう</sup> ベトナム戦争) …内戦が続いていたベトナムにアメリカが介入し、1973年に撤退した。 ㊦

## Warm Up

次のア～エを年代の古い順に並べかえなさい。

ア 日ソ共同宣言が出される。 イ 日韓基本条約が結ばれる。

ウ 朝鮮戦争が始まる。 エ 日中共同声明が出される。

## 解説

アの日ソ共同宣言は1956年。イの日韓基本条約は1965年。ウの朝鮮戦争は1950年。エの日中共同声明は1972年。

ウ→ア→イ→エ

## Try

## 1 次の各問いに答えなさい。

- (1) 朝鮮戦争によって、日本経済は好景気となり、復興が早まった。これを何というか。
- (2) 1950年、アメリカ軍が朝鮮へ出動後、日本の治安を守るために設置した組織は何か。
- (3) (2)の組織は1954年に何という組織になったか。
- (4) 1951年に日本が48か国との間で調印した条約を何というか。
- (5) (4)の条約を結んだときの日本の首相はだれか。
- (6) (4)の条約と同時にアメリカと結ばれた、アメリカ軍の日本駐留を認めた条約を何というか。
- (7) アメリカの水爆実験によって被ばくした、日本の漁船の名称を答えなさい。
- (8) 自由民主党を与党第一党、社会党を野党第一党とする政治体制を何というか。
- (9) 新しい日米安全保障条約を結んだときにおこった激しい反対運動を何というか。
- (10) 1956年に日本がソ連と国交を回復した宣言を何というか。
- (11) (10)の宣言により日本が加盟することのできた国際機関は何か。
- (12) 1965年に結ばれた日本と韓国の国交が正常化した条約を何というか。
- (13) 1972年、日本と中国の国交が正常化したか、このとき何が発表されたか。
- (14) 1978年に日本と中国の間に結ばれた条約を何というか。
- (15) 1960年から1975年まで続き、アメリカが1973年に撤退した戦争を何というか。

## 2 次の各問いに答えなさい。

- (1) 次の文中の①～④にあてはまる語句を答えなさい。

1951年、( ① ) 内閣は48か国と ( ② ) 条約を結び、翌年、日本は ( ③ ) を回復した。( ② ) 条約と同時に、a 日本の安全と東アジアの平和を守るため、アメリカと ( ④ ) 条約が結ばれた。1960年に ( ④ ) 条約は改定されたが、b 激しい反対運動もおこった。

- (2) (1)の下線部 **a** について、日本はアメリカに何を認めたか答えなさい。
- (3) (1)の下線部 **b** について、この反対運動を何というか。
- (4) 日本が国際連合に加盟する直前に調印した宣言は何か。

## 1

(1)	
(2)	
(3)	
(4)	
(5)	
(6)	
(7)	
(8)	
(9)	
(10)	
(11)	
(12)	
(13)	
(14)	
(15)	

## 2

(1)	①	
	②	
	③	
	④	
(2)		
(3)		
(4)		



## Exercise

**1** P.189の **Point!** を赤シートでかくして、番号順にノートにテストしなさい。

**2** 年表を見て、各問いに答えなさい。

1950	朝鮮戦争が始まる……………	<b>A</b>
1951	サンフランシスコ平和条約を結ぶ…	<b>B</b>
1955	55年体制が始まる……………	<b>C</b>
1956	日ソ共同宣言に調印する……………	<b>D</b>
1965	( ① ) を結ぶ……………	<b>E</b>
1972	日中共同声明が出される……………	<b>F</b>
1978	( ② ) を結ぶ……………	<b>G</b>

- (1) 年表中の①・②にあてはまる語句を答えなさい。
- (2) 日本が国際連合に加盟したのは年表中のどのできごとと最も関係が深い。年表中の**A**～**G**から1つ選び、記号で答えなさい。
- (3) 年表中の**A**について、この戦争により日本経済の復興は早まった。これはなぜか。説明しなさい。
- (4) 年表中の**B**について、この条約と同時にアメリカと結んだ条約は何か。
- (5) 年表中の**C**について、55年体制を説明した次の**ア**～**エ**の文のうち、正しいものを1つ選び、記号で答えなさい。  
**ア** 自民党を与党第一党、民主党を野党第一党とする政治体制。  
**イ** 社会党を与党第一党、自民党を野党第一党とする政治体制。  
**ウ** 自民党を与党第一党、社会党を野党第一党とする政治体制。  
**エ** 民主党を与党第一党、自民党を野党第一党とする政治体制。

**3** 次の**ア**～**エ**を、年代の古い順に並べかえなさい。

- ア** 日本が国際連合に加盟する。  
**イ** サンフランシスコ平和条約が結ばれる。  
**ウ** 日中平和友好条約が結ばれる。  
**エ** 日韓基本条約が結ばれる。

**2**

(1)	①	
	②	
(2)		
(3)		
(4)		
(5)		

**3**

→      →      →
-----------------

## 10-5

## 経済大国日本と国際社会の変化

映像との対応 / 歴史「経済大国日本と国際社会の変化」

## Point!

## (1) 領土の返還

- ① 小笠原諸島…1968年, アメリカから返還された。
- ② <sup>(1)</sup> 沖縄…1972年, アメリカから返還されたが, 島内には軍事基地が残された。  
核兵器を「<sup>(2)</sup> 持たず, 作らず, 持ちこませず」という<sup>(3)</sup> 非核三原則が国の方針となった。<sup>(4)</sup> 佐藤栄作首相が提唱し, ノーベル平和賞を受賞。

(2) <sup>(5)</sup> 高度経済成長…日本の経済は1955~73年の間, 年平均10%程度の高成長が続いた。

- ① <sup>(6)</sup> 東京オリンピック…<sup>(7)</sup> 1964年, アジアで最初のオリンピックを開催。
- ② <sup>(8)</sup> 東海道新幹線の開通…東京オリンピックに合わせて開通した。
- ③ 公害問題の深刻化…<sup>(9)</sup> 水俣病, 新潟水俣病, イタイイタイ病, 四日市ぜんそく の四大公害裁判では, 被害を受けた住民が勝訴した。1971年に環境庁を設置した。
- ④ <sup>(10)</sup> 第四次中東戦争…1973年に勃発。石油の価格が大きく上昇する<sup>(11)</sup> 石油危機〔オイル・ショック〕が発生した。日本の高度経済成長が終わる。
- ⑤ 生活の変化…三種の神器<sup>(12)</sup> 電気洗濯機, 電気冷蔵庫, 白黒テレビ が普及し, 国民の生活が豊かになった。

(3) 冷戦の終結…<sup>(13)</sup> マルタ会談 で終結を宣言。

- ① <sup>(14)</sup> ベルリンの壁 の崩壊…1989年に取りこわされ, 翌90年には東西<sup>(15)</sup> ドイツ が統一された。
- ② <sup>(16)</sup> ソ連 の解体…ゴルバチョフ政権がペレストロイカとよばれる改革を行うが失敗。  
1991年に社会主義国の象徴であったソ連は解体した。

## (4) 国際協調への動き

- ① 主要国首脳会議〔サミット〕…1975年に始まり, 現在は日本など8か国が参加。
- ② <sup>(17)</sup> EU〔ヨーロッパ連合〕…EC〔ヨーロッパ共同体〕から発展して, 1993年に発足。経済的・地域的統合を進めている。

## (5) 地域紛争

- ① 湾岸戦争…1991年, イラクがクウェートに侵攻して勃発。
- ② 同時多発テロ…2001年, <sup>(18)</sup> アメリカ で発生。アメリカはアフガニスタンを攻撃。
- ③ イラク戦争…2003年, アメリカがイラクを攻撃。

## Warm Up

日本の高度経済成長期が終わった理由を「戦争」「石油」という語句を使って説明しなさい。

## 解説

経済成長のためには産業活動のための石油が必要であった。第四次中東戦争がきっかけで石油価格が大きく上昇する石油危機が発生し, 日本はそれまでの経済成長を維持するのが難しくなった。

(例) 第四次中東戦争がきっかけで石油危機が発生したから。

Try

1 次の各問いに答えなさい。

- (1) 1972年、日本に返還された領土はどこか。
- (2) (1)の過程で核兵器に関する原則が国の方針となった。この原則を漢字5字で答えなさい。
- (3) 日本は1955～73年の間、世界でも類を見ない急激な経済成長を続けた。このことを何というか。
- (4) 経済発展の一方で、深刻な公害問題も発生した。四大公害裁判がおこった4つの公害病をすべて答えなさい。
- (5) (3)の期間に普及した、電気冷蔵庫、電気洗濯機、白黒テレビをあわせて何というか。
- (6) 1973年の第四次中東戦争をきっかけに石油の価格が大きく上昇した。このできごとを何というか。
- (7) 1989年、東西対立の象徴でもあった壁が崩壊した。この壁があった都市はどこか。
- (8) 1990年、東西に分裂していた国が統一した。何という国か。
- (9) 1991年に解体した東側陣営の中心であった国はどこか。
- (10) (9)の解体などにより、第二次世界大戦後から続いていた冷戦が終結した。終結が宣言された会談は何か。
- (11) ヨーロッパの国々によって1993年に発足した国際組織は何か。
- (12) 2001年に同時多発テロがおきた国を答えなさい。

2 年表を見て、各問いに答えなさい。

年代	できごと
1964	東京オリンピックが開催される…………… <b>A</b>
1972	( ① ) が日本に復帰する…………… <b>B</b>
1973	高度経済成長が終わる
1989	( ② ) の壁が崩壊する
	( ③ ) 会談で冷戦の終結が宣言される

- (1) 年表中の①～③にあてはまる語句を答えなさい。
- (2) 年表中の**A**について、この時期の出来事を表した**ア～エ**の文について、正しいものを1つ選び記号で答えなさい。  
**ア** 朝鮮戦争の影響で特需が発生し、景気が上向いた。  
**イ** インターネットの利用が増え、オンラインでの買い物が普及した。  
**ウ** 東海道新幹線などの交通網が整備された。  
**エ** 長きにわたって不況が続き、倒産する企業が増加した。
- (3) 年表中の**B**について、この時期に非核三原則が提唱された。非核三原則を「核兵器を」に続けて書きなさい。
- (4) (3)の非核三原則を提唱した日本の内閣総理大臣は誰か。

1

(1)	
(2)	
(3)	
(4)	
(5)	
(6)	
(7)	
(8)	
(9)	
(10)	
(11)	
(12)	

2

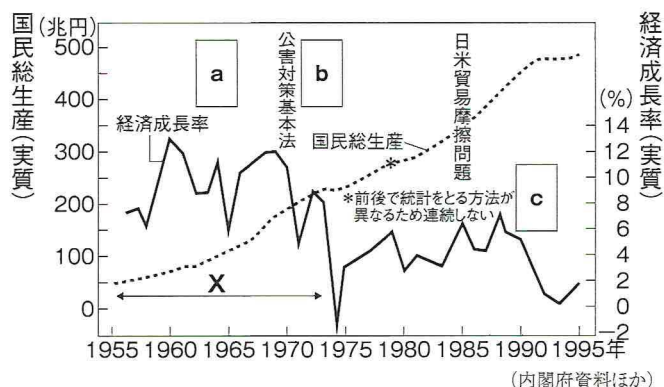
(1)	①	
	②	
	③	
(2)		
(3)	核兵器を	
(4)		



## Exercise

1 P.192の **Point!** を赤シートでかくして、番号順にノートにテストしなさい。

2 資料を見て、各問いに答えなさい。



(1) 資料の **a**～**c** にあてはまる語句を次から1つずつ選んで答えなさい。

[ 石油危機    ソ連解体    東京オリンピック ]

(2) **X**の時期に日本で続いた、著しい経済成長を何というか。

(3) **X**の時期におきた出来事としてあてはまらないものを次の**ア**～**エ**から1つ選び、記号で答えなさい。

- ア** 環境庁の設置                      **イ** EUの発足  
**ウ** 日韓基本条約の締結           **エ** 東海道新幹線の開通

3 次の各問いに答えなさい。

(1) 1955年から1973年ごろまでのできごとを**ア**～**エ**から1つ選び、記号で答えなさい。

- ア** 藩閥政治への批判は言論が中心となり、政府を批判する内容の新聞は新聞紙条例によって規制された。  
**イ** 活動写真〔無声映画〕に代わってトーキー〔有声映画〕が登場し、ラジオ放送が全国に普及した。  
**ウ** 電気洗濯機、電気冷蔵庫、白黒テレビなどが普及し、国民の生活が豊かになった。  
**エ** だれでも大量の情報を得られるインターネットの普及率が90%をこえた。

(2) 冷戦終結の直接的なきっかけとなったできごとを、次の**ア**～**エ**から1つ選び、記号で答えなさい。

- ア** ベルリンの壁の崩壊           **イ** 湾岸戦争  
**ウ** 同時多発テロ                   **エ** ベトナム戦争

(3) 日本の高度経済成長が終わった理由を「戦争」「石油」という語句を使って説明しなさい。

2

(1)	a	
	b	
	c	
(2)		
(3)		

3

(1)	
(2)	
(3)	

## 10-6

## 冷戦後の日本と世界の課題

映像との対応 / 歴史「冷戦後の日本と世界の課題」

## Point!

## (1) 国際協調への動き

- ① (1 **グローバル化**) の進展…世界を一体化しようとする動きが進んでいる。
- ② 地球温暖化防止…1997年に (2 **京都議定書**) が採択され、温室効果ガスの排出量を削減する取り決めがなされた。
- ③ (3 **アジア太平洋経済協力会議** [**APEC**]) …1989年に発足した、アメリカやアジア、オセアニアの国々で経済協力を行うための枠組み。
- ④ (4 **国連平和維持活動** [**P K O**]) …地域紛争を解決することを目的とする活動。1992年、カンボジアへ初めて自衛隊が派遣された。

## (2) 石油危機後の日本経済

- ① (5 **バブル経済**) …1980年代後半に始まった好景気。株式と土地の価格が異常に高くなった。1991年に崩壊し、不景気になった。
- ② (6 **世界金融危機**) …2008年に発生。バブル崩壊後、日本の景気はゆるやかに回復したが、再び深刻な不況になった。

## (3) 持続可能な社会

- (7 **持続可能な開発目標** [**S D G s**]) …2015年の国連サミットで採択。2030年までに達成すべき17の目標があげられた。

## Warm Up

1997年に京都市で開催された国際会議では、どのような取り決めがなされたか。「地球温暖化」「削減」という語句を使って説明しなさい。

## 解説

(例) 地球温暖化防止のため、温室効果ガスの排出量を削減する取り決めがなされた。

## Try

**1** 次の各問いに答えなさい。

- (1) 世界を一体化しようとする動きを何というか。
- (2) 地球温暖化防止対策として、1997年に日本の京都で会議が行われたときに採択されたものは何か。
- (3) アメリカやアジア、オセアニアの国々が参加している、経済協力を行うことを目的とする枠組みの正式名称を答えなさい。
- (4) 1992年、日本の自衛隊が初めて参加した、国連の活動の正式名称を答えなさい。
- (5) 1980年代後半から1991年まで続いた、株式や土地の価格が異常に高くなったことでおこった好景気を何というか。
- (6) 2008年に発生した世界的な不況を何というか。
- (7) 2015年の国連サミットで採択された、2030年までに達成すべき17の目標を何というか。

**2** 次の各問いに答えなさい。

- (1) 次の文章の①～④にあてはまる語句を答えなさい。

日本は1950年代後半から1973年まで（ ① ）とよばれる急成長をとげたが、1973年におきた（ ② ）をきっかけに不況となり、日本の（ ① ）は終わった。

その後、1980年代後半から、株式と土地の価格が異常に高くなる（ ③ ）とよばれる好景気が続いたが、1991年に崩壊し、再び不況となった。景気は一旦回復したものの、2008年には（ ④ ）がおり、再び深刻な不況となった。

- (2) 1997年、地球温暖化防止のための国際会議が行われ、温室効果ガスの排出量を削減することが先進国に義務づけられた。会議が行われた日本の都道府県名を答えなさい。
- (3) 1989年に発足し、アジアをはじめとする太平洋を囲む諸国が参加している、経済協力を行うことを目的とする枠組みをアルファベット4字で答えなさい。
- (4) 国際連合は、地域紛争の解決を目的として、平和を守るための活動を行っている。この活動をアルファベット3字で答えなさい。
- (5) 2015年に国連サミットで採択された「2030年までに達成すべき17の目標」をアルファベット4字で答えなさい。

**1**

(1)	
(2)	
(3)	
(4)	
(5)	
(6)	
(7)	

**2**

(1)	①	
	②	
	③	
	④	
(2)		
(3)		
(4)		
(5)		



## Exercise

**1** P.195の **Point!** を赤シートでかくして、番号順にノートにテストしなさい。

**2** 次の年表を見て、各問いに答えなさい。

年代	できごと
1973	( ① ) 戦争がおこり、石油の価格が上昇する…………… <b>A</b>
1985～	日本の株式や土地の価格が高騰する…………… <b>B</b>
1989	ドイツで ( ② ) の壁が壊される アメリカ、アジア、オセアニア諸国によるA P E Cが発足する…………… <b>C</b>
1991	( ③ ) が解体する
1992	日本がカンボジアへ自衛隊を派遣する…………… <b>D</b>
1997	( ④ ) 市で地球温暖化防止の会議が行われる…………… <b>E</b>
2008	( ⑤ ) 危機がおこる
2015	国連サミットで17の目標が採択される…………… <b>F</b>

- (1) 年表中の①～⑤にあてはまる語句を答えなさい。
- (2) 年表中の**A**について、これをきっかけにおきた世界経済の大打撃を何というか。
- (3) 年表中の**B**について、これを何経済というか答えなさい。
- (4) 年表中の**C**について、A P E Cの正式名称を答えなさい。
- (5) 年表中の**D**について、日本は「地域紛争の解決」を目的とする国連の活動に初めて参加した。この活動の略称をアルファベット3字で答えなさい。
- (6) 年表中の**E**について、この会議で採択された議定書の内容を「削減」という語句を使って簡潔に説明しなさい。
- (7) 年表中の**F**について、この17の目標のことをアルファベット4字で何というか。

**2**

(1)	①	
	②	
	③	
	④	
	⑤	
(2)		
(3)		
(4)		
(5)		
(6)		
(7)		

